



1. Bu testte 15 soru vardır.
2. Cevaplarınızı, cevap kâğıdının Türkçe Testi için ayrılan kısmına işaretleyiniz.

1.



Ceviz, siz çocukların kalbine çok iyi gelir. Enerji ve güç verir. Kemiklerinizin de güçlü olmasına yardımcı olur. En büyük özelliği ise beyninize ve hafızanıza çok faydalı olmasıdır.

Altı çizili kelime grubu hangi cümlede yukarıdaki anlamıyla kullanılmıştır?

- A) Yeni işi ona iyi geldi, diye düşünüyorum.
- B) Bu mont iyi gelmedi mi sana?
- C) Ağrılarına iyi geldi bu ilaç.
- D) Arkadaşlarıyla buluşmak ona iyi geldi.

2.

TÜRKİYE'NİN YERLİ ELEKTRİKLİ OTOMOBİLİ

Tüm Türkiye'nin merakla beklediği yerli otomobilin tanıtımı İstanbul Gebze'deki Bilişim Vadisi'nde gerçekleştirildi. 2022 yılında üretimine başlanacak olan yerli ve millî otomobilin kırmızı renkte üretilen SUV modeli ve beyaz renkte üretilen Sedan modelleri bir arada gösterildi. Tasarımı ve özellikleri ile beğeni toplayan yerli otomobil evlerde, ofislerde ve istasyonlarda şarj edilebilecek. Kullanıcıları otomobillerin şarjını kolaylıkla planlayıp yönetebilecek.

Yukarıdaki habere göre Türkiye'nin yerli elektrikli otomobili hakkında hangi bilgiye ulaşamaz?

- A) Model çeşitlerine
- B) Nerede şarj edileceğine
- C) Halk tarafından beğenildiğine
- D) Nerede üretildiğine

3. Ayşe Öğretmen, Türkçe dersinde “Büyük Harflerin ve Noktalama İşaretlerinin Kullanımı” konusunda etkinlik yapacaktır. Öğrencilerinden, vereceği yönergelere ve bunların sırasına uygun cümleler kurmalarını isteyecektir.

- İlk cümlede, kesme işaretini doğru yerde kullandım.
- ▲ İkinci cümlede, özel isimlerin yazılışında yanlışlık yaptım.
- Üçüncü cümle, soru cümlesidir.

Ayşe Öğretmen’in, yönergelere uygun ve sırasıyla kullanılmasını istediği üç cümle hangi seçenekte yer almaktadır?

- A) ● 29 Ekim 1923te Cumhuriyet ilan edildi.
▲ Atatürk, 19 Mayıs 1919’da Samsun’a ayakbasta.
■ Öğretmenimiz Atatürk şiirini okudu.
- B) ● Bayram töreni ilk TBMMde yapıldı.
▲ 23 nisan 1920’de TBMM açıldı?
■ Atatürk’ün okuduğu kitaplar nerede sergileniyor?
- C) ● Pazar günü Anıtkabir’e gidiyoruz.
▲ Arkadaşım mustafa kemal üniversitesinde okuyacak.
■ Atatürk’ün “Metotlu Çalışma Yöntemi” adlı metnini okudunuz mu?
- D) ● Atatürk 10.11.1938’de gözlerini yumdu.
▲ Mustafa Kemal Atatürk, Türkiye Cumhuriyeti’nin kurucusudur.
■ Müzik dersinde Atatürk şarkısını söyleyelim mi?

4.



“Kerem, güreşte çok yetenekliydi. Ama içinde bulunduğu şartlar, bu sporu yapmasını engelliyordu. Kerem, her şeye rağmen çok çalışarak başaracağına inanıyordu.”

Aşağıdakilerden hangisi Kerem’in düşüncesine uygun bir deyimdir?

- A) Sırtı yere gelmemek
B) Göze girmek
C) İçi içine sığmamak
D) Baş koymak

5, 6 ve 7. soruları aşağıda verilen bilgilere göre cevaplayınız.

5.



Yıkama yapılabilir.

Elde yıkama

Hassas yıkama

Yıkanmaz.

30 dereceye kadar yıkanabilir.

50 dereceye kadar yıkanabilir.

70 dereceye kadar yıkanabilir.

90 dereceye kadar yıkanabilir.

- **Pamuklular:** Beyaz pamuklular 80-90 derecede, renkliler ise en fazla 60 derecede yıkanabilir.
- **Ketenler:** Yıkama sıcaklığı 50-60 derece arasında olmalıdır.
- **Yünlüler:** Yıkama suyu sıcaklığının 30-40 dereceyi geçmemesi gerekir.
- **İpekliler:** Kuru temizleme yapılması veya elde yıkanması daha uygundur. Çamaşır makinesinde yıkanması gerekiyorsa 30-40 derece sıcaklık uygundur.
- **Sentetik elyaflar:** Su sıcaklığının 90 derece olmasında fayda vardır.
- **Pamuklu-polyester karışımı:** Yıkama sıcaklığı 50-60 derece arasında olmalıdır.

Yukarıda bir kıyafetin etiketinde yer alan yönergeler verilmiştir. Ali, Efsun ve Cem bu yönergelere göre alışveriş yapacaklardır.

- Ali, 30 ya da 40 derecede yıkanabilen bir kıyafet almıştır.
- Efsun'un aldığı kıyafetin beyaz renklileri 90 derecede, renklileri ise 60 derecede yıkanmaktadır.
- Cem iki tane kıyafet almıştır.
- Cem'in aldığı kıyafetlerden biri ipekli diğeri ise yünlüdür.

Efsun hangi kıyafet çeşidini almıştır?

- A) Keten B) Pamuklu C) Sentetik elyaflar D) İpekliler

6. Aşağıdaki simgelerden hangisi Ali'nin aldığı kıyafette bulunabilir?

- A)  B)  C)  D) 

7. Cem'in aldığı ipekli ve yünlü kıyafet, çamaşır makinesinde yıkanacaksa suyun sıcaklığı aşağıdakilerden hangisi olmalıdır?

- A)  B)  C)  D) 

8. ▲ Birinci cümlede, "da/de" bağlacının yazılışı doğrudur.
● İkinci cümlede, "ki" bağlacının yazılışında yanlışlık yapılmıştır.
♥ Üçüncü cümledeki "da/de" ve "ki" bağlaçlarının yazılışında hata yoktur.

Yukarıda verilen yönerge ve takip edilecek sıraya uygun olarak oluşturulacak üç cümle aşağıdakilerin hangisinde verilmiştir?

- A) ▲ Salı günüde İzmir'e gidecekmış.
● Ormandaki hayvanlarla ilgili hikâye anlatır mısın?
♥ Karşıda ki evden de gürültü geliyor.
- B) ▲ Sosyal bilgiler dersinde de Atatürk şarkısını söyleyelim mi?
● Madem ki yağmur yağıyor şemsiyeni al.
♥ Türkçe ders kitabındaki Keloğlan metnini de öğretmenim yazmış.
- C) ▲ Kütüphaneye sende gelecek misin?
● Görüyorum ki çok hızlı koşuyorsun.
♥ Ağaçta ki elmalar da çok tatlıdır.
- D) ▲ Ben de yemek yapmak istiyorum.
● Kitaplar, sınıftaki masanın üzerinde mi?
♥ Hâlbuki çiçekler de çok güzeldi.

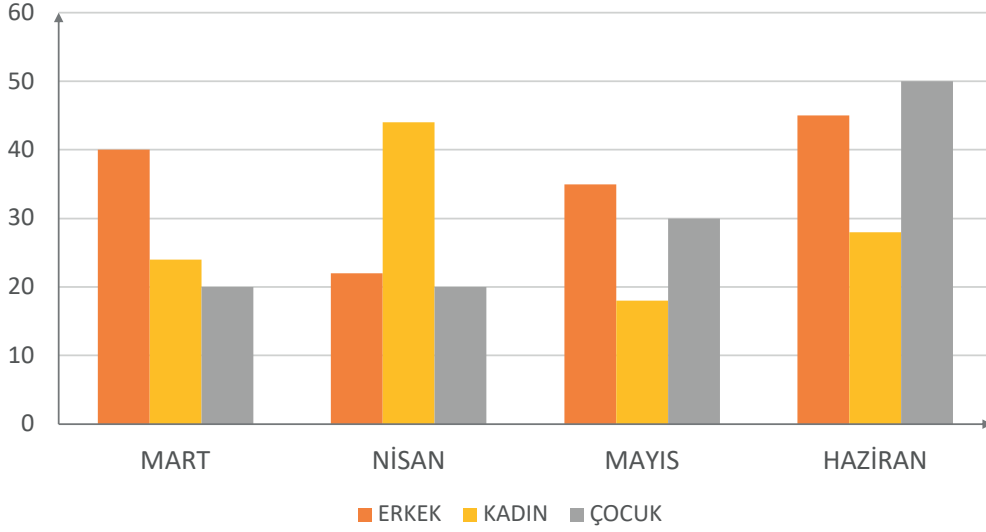
9. Yaşlı teyze, doktora sordu ()
— Kontrolüm ne zaman ()
Doktor şöyle dedi ()
— Yarın sabah saat yedide ()

Bu parçada yay ayrıçlarla () belirtilen yerlere, aşağıdakilerin hangisinde verilen noktalama işaretleri sırasıyla getirilmelidir?

- A) (—) (?) (!) (,)
B) (—) (:) (—) (.)
C) (:) (?) (:) (.)
D) (:) (.) (—) (!)

10.

Arkeoloji Müzesi Ziyaretçi Grafiği



Grafikte, Arkeoloji Müzesini aylara göre ziyaret eden kişi sayıları verilmiştir.

- ▲ Haziran ayında müzeyi en çok çocuklar ziyaret etmiştir.
- ★ Mayıs ayında müzeyi en az kadınlar ziyaret etmiştir.
- ◆ Mart ve haziran ayında müzeyi eşit sayıda erkek ziyaret etmiştir.
- Mart ve nisan ayında müzeyi ziyaret eden çocuk sayısı eşittir.

Yukarıda sembollerle ifade edilen cümlelerden hangileri grafikten çıkarılacak sonuçlardandır?

- A) ▲ ★ ◆ B) ★ ◆ ● C) ▲ ◆ ● D) ▲ ★ ●

11. Mehmet Bey, yılbaşı çekilişi yapan bir marketten “kara, katı, temiz, sıkı” markalı ürünlerden satın almıştır. Sonrasında da dört haneli çekiliş kodunu almak için telefonunu cihaza yaklaştırmıştır. Cihaz, çekiliş kodunu verirken her bir marka ismi için sırayla o ismi pekiştiren harfi kullanmaktadır.



Buna göre Mehmet Bey'in çekiliş kodu aşağıdakilerden hangisidir?

- A)

P	S	R	M
---	---	---	---

 B)

P	S	M	R
---	---	---	---
- C)

S	P	M	R
---	---	---	---

 D)

P	R	S	M
---	---	---	---

12. Aşağıdaki cümlelerin hangisinde altı çizili sözcük mecaz anlamıyla kullanılmıştır?

- A) Yolda giderken arabaları bozulmuş.
B) Listede adını görünce çok heyecanlandı.
C) Bozuk araçların hepsi, evin önünde yatıyor.
D) Misafirler için temiz havlu ve çarşaf çıkardılar.

13. I. Ömer ve halası, misafirlikten geliyorlar.
 II. Sürekli arkadaşlarının kalbini kırıyor.
 III. Gitarın akordunu bozmuşlar.
 IV. Saklambaç oyununda ilk yanan Talha oluyor.

Yukarıdaki cümlelerde geçen altı çizili sözcüklerin anlam özelliği hangi seçenekte sırasıyla verilmiştir?

	I	II	III	IV
A)	Gerçek Anlam	Mecaz Anlam	Terim Anlam	Mecaz Anlam
B)	Mecaz Anlam	Mecaz Anlam	Gerçek Anlam	Gerçek Anlam
C)	Gerçek Anlam	Terim Anlam	Terim Anlam	Mecaz Anlam
D)	Gerçek Anlam	Mecaz Anlam	Mecaz Anlam	Mecaz Anlam

14. Nev(yeni) ve ruz(gün) kelimelerinin birleşmesinden meydana gelen ve “yeni gün” anlamını taşıyan Nevruz, birçok halk ve topluluk tarafından kutlanmaktadır. Her ulusun kendi kültür değerleriyle özdeşleştirip sembolleştirdiği, özü itibarıyla baharın gelişinin kutlandığı, coşkuyla karşılandığı bir gündür. Yaşadığı geniş coğrafyada doğa ve çevrenin uyanışının kutlandığı Nevruz Bayramı'nın, Anadolu'da ve Türk kültürünün yayıldığı bölgelerde de son derece köklü ve zengin bir geçmişi vardır. Nevruz, 21 Mart'ta gün boyu süren eğlenceler ve çeşitli etkinliklerle kutlanır.

Bu metin için aşağıdaki başlıklardan hangisi uygun değildir?

- A) Nevruz Bayramı
 B) Nevruz ve Bahar Coşkusu
 C) Mevsimlere Göre Nevruz
 D) Kültürler ve Nevruz
15. Hava kalitesinin kötü olması kalp hastalığına, solunum problemlerine ve diğer hastalıklara yol açabilir. Bazı kirletici maddeler tarımsal ürün veriminde azalmaya, ormanların gelişiminde düşüşe neden olabilir ve iklimi etkileyebilir. Hava kirleticilerin etkilerini hafifletmek için daha fazla çaba harcanması gerekmektedir. Hepimiz bu noktada üzerimize düşeni yapmak zorundayız. Aksi hâlde çevremiz için çok geç kalmış olabiliriz.

Bu metnin ana fikri aşağıdakilerden hangisidir?

- A) Çevreyi temiz tutmak herkesin görevidir.
 B) İnsanlar temizliğe dikkat ederek sağlıklı bir hayat sürebilirler.
 C) Hastalıklardan korunmak için çevre kirliliğinin önüne geçmeliyiz.
 D) Çevre kirliliği zamanla azalmaya başlayacaktır.

1. Bu testte 10 soru vardır.
2. Cevaplarınızı, cevap kâğıdının Sosyal Bilgiler Testi için ayrılan kısmına işaretleyiniz.

1. Aşağıda bazı çocuk oyunlarının oynanışı ve isimleri verilmiştir.

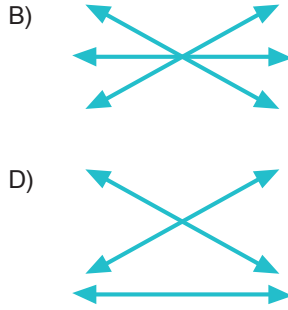
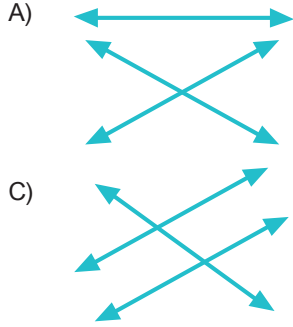
Oyunların Oynanışı

- İki takım arasında bir top ve avuç içi büyüklüğündeki yassı kiremitlerin üst üste dizilmesi ile oynanır.
- Oyuncular ilk olarak sayışarak bir ebe seçerler. Oyun, ebinin yüzünü duvara dönerek yüksek sesle sayması ile başlar. Geçmişte karaguni olarak adlandırılırdı.
- Genellikle erkek çocuklarının koyun, keçi veya danaların ön dizlerinde bulunan bir eklem kemiği ile oynadığı oyundur.

Oyunların İsimleri

- Aşık oyunu
- Saklambaç
- Dalıe

Verilen açıklamalar ile oyun isimleri oklarla eşleştirildiğinde okların görünümü nasıl olur?




2. Aşağıda, görselleri verilen Millî Mücadele Dönemi kahramanlarımız hakkında bilgiler verilmiştir.



Gördesli Makbule, Yunan ordusunun İzmir'i işgal etmesi üzerine kocası Halil Efe ile birlikte Yunanlılara karşı mücadele etmiştir.



Şerife Bacı, İnebolu'dan Kastamonu'ya karlı bir dönemde cephaneye taşırken donarak şehit olmuştur.



Tayyar Rahmiye Hanım, Osmaniye'de Fransız karargâhına taarruzlar düzenleyerek düşman kuvvetlerini yıpratmıştır.

Yukarıda verilen açıklamalarla ilgili aşağıdakilerden hangisi söylenebilir?

- A) Kurtuluş Savaşı'nda kadınlar da katkı sağlamıştır.
 B) Kurtuluş Savaşı'nda yalnızca askerler mücadele etmiştir.
 C) Kadın kahramanlarımızın tamamı, Batı Cephesi'nde yer almıştır.
 D) Bütün cepheelerde sadece Kuvayimilliyeler birliği mücadele etmiştir.
3. **Doğal Unsur** : Doğada kendiliğinden bulunur. Bunların oluşumunda insanların herhangi bir etkisi yoktur.

Beşerî Unsur: İnsan aklının ve emeğinin ürünleridir.

Yukarıdaki tanımlarla ilgili örnek verildiğinde hangisi aşağıdakilerden doğru olur?

A)

Doğal Unsur	Beşerî Unsur
Deniz	Otomobil
Ova	Oyun parkı
Bitki	Baraj

B)

Doğal Unsur	Beşerî Unsur
Orman	Fabrika
Deniz	Yol
Çeşme	Vadi

C)

Doğal Unsur	Beşerî Unsur
Göl	Oyun parkı
Deniz	Kütüphane
Ova	Akarsu

D)

Doğal Unsur	Beşerî Unsur
Dağ	Fabrika
Yol	Otomobil
Bitki	Havuz

4.



Yukarıdaki siyasi haritadan Elazığ iline ait aşağıdaki bilgilerden hangisine ulaşılabilir?

- A) Yeryüzü şekillerine
- B) Kaç tane ilçesi olduğuna
- C) İl sınırları içinde bulunan dağlara
- D) Deniz seviyesine göre yüksekliğine

5.

İnsanların ihtiyaçlarını karşılayabilmek için pek çok teknolojik ürün icat edilmiştir. Bu ürünler, bilimdeki gelişmeler ve değişen ihtiyaçlara bağlı olarak zaman içinde iyileştirilerek daha kullanışlı hâle getirilmiştir. Telefon, tekerlek, otomobil gibi teknolojik ürünlerin tarihsel süreçteki değişimine baktığımızda bu durumu daha iyi anlayabiliriz.

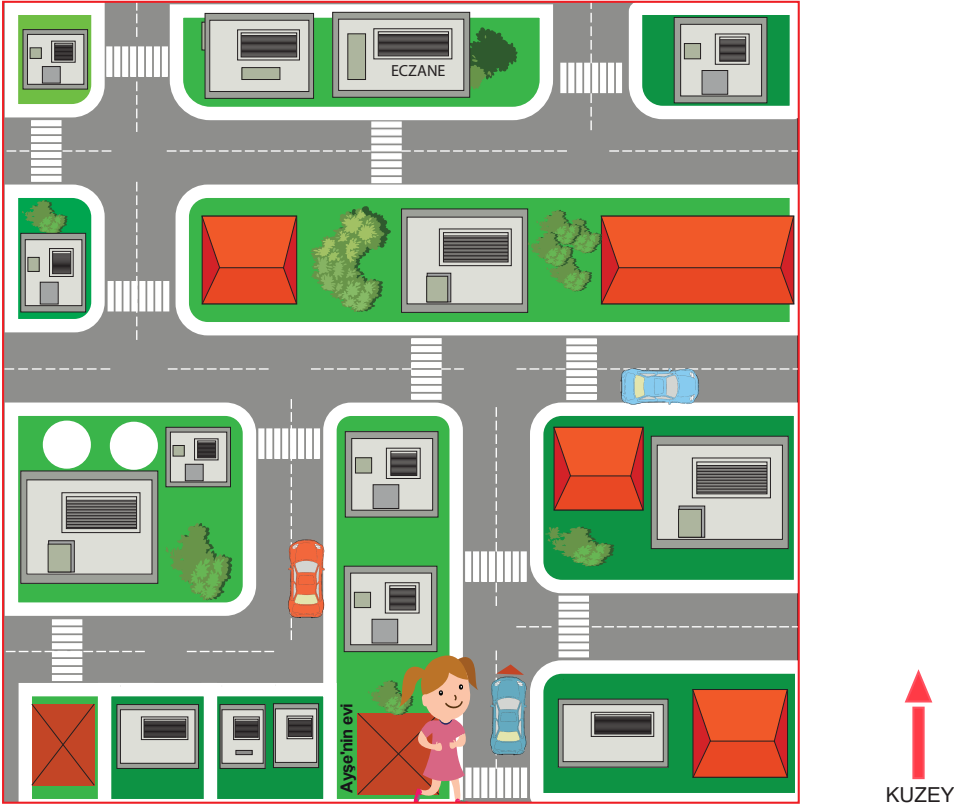
Metne göre teknolojik ürünler ile ilgili,

- I. Zaman içinde değişime uğrarlar.
- II. Bilimsel gelişmeler sonucunda değişim gösterirler.
- III. İnsanların gereksinimlerine cevap vermek için icat edildiler.

ifadelerinden hangilerine ulaşılabilir?

- A) I ve II
- B) I ve III
- C) II ve III
- D) I, II ve III

6. Aşağıda, Ayşe'nin oturduğu mahallenin krokisi verilmiştir.



Ayşe, kardeşinin ilaçlarını almak için yolları kullanarak eczaneye gitmiştir.

Buna göre evinden eczaneye giden Ayşe, hangi yöne doğru hareket etmemiştir?

- A) Doğu B) Batı C) Kuzey D) Güney

7. İklimin ve yeryüzü şekillerinin farklı olması, ekonomik faaliyetlerin bölgelerimize göre farklılık göstermesine sebep olmuştur.

- Marmara Bölgesi'nde ulaşım olanakları gelişmiştir.
- Akdeniz Bölgesi'nde kış mevsimleri ılık geçmektedir.
- Doğu Anadolu Bölgesi'nde mera ve otlaklar geniş yer kaplamaktadır.
- Karadeniz Bölgesi'nin deniz suyu tuzluluk oranı azdır.

Bu bölgelerde gelişen ekonomik faaliyetler aşağıdakilerin hangisinde doğru olarak verilmiştir?

Marmara Bölgesi	Akdeniz Bölgesi	Doğu Anadolu Bölgesi	Karadeniz Bölgesi
A) Büyükbaş Hayvancılık	Sanayi	Balıkçılık	Seracılık
B) Sanayi	Seracılık	Balıkçılık	Büyükbaş Hayvancılık
C) Seracılık	Balıkçılık	Büyükbaş Hayvancılık	Sanayi
D) Sanayi	Seracılık	Büyükbaş Hayvancılık	Balıkçılık

8. Çocuk Hakları Sözleşmesi'nin bazı maddeleri:

- Her çocuk, eğitim hakkına sahiptir.
- Her çocuk, yaşama hakkına sahiptir.
- Her çocuk; sağlık, bakım ve eğitim imkânlarından yararlanma hakkına sahiptir.
- Her çocuk, isteklerini ve düşüncelerini seçtiği bir yolla özgürce açıklama hakkına sahiptir.
- Her çocuk; dinlenme, boş zaman değerlendirme, oyun oynama, kültürel ve sanatsal etkinliklere katılma hakkına sahiptir.

Verilen maddelerde geçen "her çocuk" ifadesi ile ilgili aşağıdakilerden hangisi söylenebilir?

- A) Çocuk haklarından yararlanmada ayırım yapılmamıştır.
- B) Sağlık hizmetlerinden yararlanmak, sadece çocuklara özgü bir haktır.
- C) Dünyadaki bütün çocuklar, eğitim hakkından yararlanmaktadır.
- D) Bütün ülkelerde çocuklar, yaşlarına uygun bir hayat yaşamaktadır.

9.

Bina dışında bulunuyorsanız, binalardan düşebilecek parçalara karşı dikkatli olunuz. Enerji hatlarından, duvar diplerinden uzaklaşınız.

Asansörde bulunuyorsanız, deprem sırasında kat çıkış düğmesine basarak asansörü terk ediniz. Ayrıca evinizden çıkarken kesinlikle asansörü kullanmayınız.

Toplu taşıma araçlarında bulunuyorsanız, araçlardan gerekmedikçe inmeyiniz. İçerideki askılara tutunup depremin geçmesini bekleyiniz.

Okulda bulunuyorsanız; çanta, kitap gibi eşyalarınızı alıp sınıfınızdan koşarak çıkınız.

Yasemin

Rıza

Recep

Banu

Yukarıdaki öğrencilerden hangisi "deprem sırasında yapılacaklar" ile ilgili yanlış bilgi vermiştir?


- A) Yasemin
- B) Rıza
- C) Recep
- D) Banu

10.

	İnsan Hakları Evrensel Beyannamesi'nin 15. maddesinde herkesin vatandaşlık hakkına sahip olduğu belirtilmiştir.
	Yeni uygulamaya göre ülkemizde erkeklere mavi, kadınlara pembe renkli kimlik kartları verilmektedir.
	İnsanların farklılıkları doğal karşılanmalı ve bir zenginlik olarak görülmelidir.

Yukarıdaki cümlelerden doğru olanların başındaki kutuyu maviye, yanlış olanların başındaki kutuyu kırmızıya boyadığımızda hangi şekil ortaya çıkar?


A)



B)



C)



D)



1. Bu testte 10 soru vardır.
2. Cevaplarınızı, cevap kâğıdının Din Kültürü ve Ahlak Bilgisi Testi için ayrılan kısmına işaretleyiniz.



Kur'an-ı Kerim'de ...1... cüz, ...2... sure, ...3... ayet vardır.

1. Yukarıdaki cümlede numaralanmış yerlere gelmesi gereken sayılar hangisinde sıralı olarak verilmiştir?

- A) 30 - 114 - 6.666
B) 6.666 - 114 - 30
C) 114 - 30 - 6.666
D) 114 - 6.666 - 30

2. • Sizin imanca en güzeliniz, ahlakça en güzel olanınızdır. (Tirmizi)
• Şüphesiz, güzel ahlak, güneşin buzu erittiği gibi günahları eritir.
(Harâiti)
• En çok sevdiğim kimse, huyu en güzel olanıdır. (Buhari)

Verilen hadislerde Peygamberimiz Hz. Muhammed'in (S.A.V.) öne çıkardığı özellik aşağıdakilerden hangisinde verilmiştir?

- A) Namaz kılmak B) İmanın şartları
C) İslam'ın şartları D) Güzel ahlak

3. İslam dinine göre; akıllı, ergenlik çağına gelmiş, sağlıklı ve maddi durumu iyi olan Müslümanların ömürlerinde en az bir kez yapmaları gereken ibadet aşağıdakilerin hangisidir?

- A) Hac B) Namaz
C) Zekât D) Oruç

4. İmanın 6 şartının yer aldığı ve sonu kelime-i şehadetle biten hangisidir?

- A) Fatiha Suresi B) Bakara Suresi
C) Amentü Duası D) Yasin-i Şerif

- 5.



İlk süre
Fatiha
süresidir.



Son süre
Kevser
süresidir.



İlk süre
Bakara
süresidir.



Son süre
Nas
süresidir.

Yukarıdaki öğrenciler, Kur'an-ı Kerim'in ilk ve son surelerini söylemektedir.

Buna göre, ilk ve son sureyi hangi öğrenciler doğru söylemiş olur?

- A) Serkan - Narin B) Serkan - Oya
C) Taner - Narin D) Taner - Oya

6. “Bana bir harf öğretmenin kırk yıl kölesi olurum.”
Hz. Ali(r.a)

Yukarıdaki söze göre sevgi ve saygı gösterilmesi gereken kimlerdir?

- A) Anne-Baba B) Komşular
C) Akrabalar D) Öğretmenler

7. I. Halk arasında okuma-yazma oranı yüksekti.
II. Toplumda can ve mal güvenliği yoktu.
III. İnsanlar putlara tapıyordu.
IV. Güçlüler, güçsüzlere yardım ediyordu.

Verilen ifadelerden hangileri Peygamber’imizin doğduğu çevrenin genel özelliklerini yansıtmaktadır?

- A) I ve II B) II ve III
C) III ve IV D) I ve IV

8. Hz. Muhammed (s.a.v.) ile ilgili verilen bilgilerden hangisi yanlıştır?

- A) Babası onu çok sevmiş ve korumuştur.
B) 6 yaşına geldiğinde hem yetim hem öksüz kalmıştır.
C) Doğduktan sonra süt annesi Halime’ye verilmiştir.
D) Dedesi de vefat edince amcası Ebu Talip’in yanında kalmıştır.

9. 1. Mâlikî yevmiddin
2. İhdinas-sırâtâl müstakim
3. Errahmânir-rahim
4. Bismillahirrahmânirrahim
5. İyyâke na’büdü ve İyyâke nestain
6. Elhamdü lillahi Rabbil alemin
7. Sırâtelledine en’amte aleyhim, ğayril mağdûbi aleyhim veleddâllin

Yukarıda ayetleri karışık olarak verilen Fatıha suresinin doğru şekilde sıralanışı hangisidir?

- A) 4 - 6 - 1 - 5 - 3 - 2 - 7
B) 4 - 6 - 3 - 1 - 5 - 2 - 7
C) 4 - 6 - 3 - 5 - 1 - 2 - 7
D) 4 - 6 - 1 - 2 - 3 - 5 - 7

10. Hz. Muhammed’in (s.a.v.) çocukluk ve gençlik yıllarına ait bilgilerden hangisi doğrudur?

- A) Hz. Muhammed (s.a.v.)’in çocukluk yılları rahat geçmiştir.
B) Mekke’de kurulan “Erdemliler Topluluğu”na katılmamıştır.
C) Mekkeliler Peygamber’imize (s.a.v.) “Muhammedü’l Emin” lakabını vermişlerdir.
D) Hz. Hatice ile evlendiğinde peygamberimiz (s.a.v.) 40 yaşındadır.

DİN KÜLTÜRÜ VE AHLAK BİLGİSİ

TESTİ BİTTİ.

İNGİLİZCE TESTİNE GEÇİNİZ.

1. Bu testte 5 soru vardır.

2. Cevaplarınızı, cevap kâğıdının İngilizce testi için ayrılan kısmına işaretleyiniz.

1.



Which of the following completes the sentence above best?

- A) clean the class
- B) turn on the lights
- C) write on a notebook
- D) open the window

2.



Alex : Hello! My name is Alex. What is your name?

Julia : Hello! My name is Julia.

Alex : Pleased to meet you, Julia. Are you from England?

Julia : No. -----

Alex : Where is Canada?

Julia : -----

Alex : Where do you live?

Julia : -----.

Which of the following does NOT complete the dialogue above?

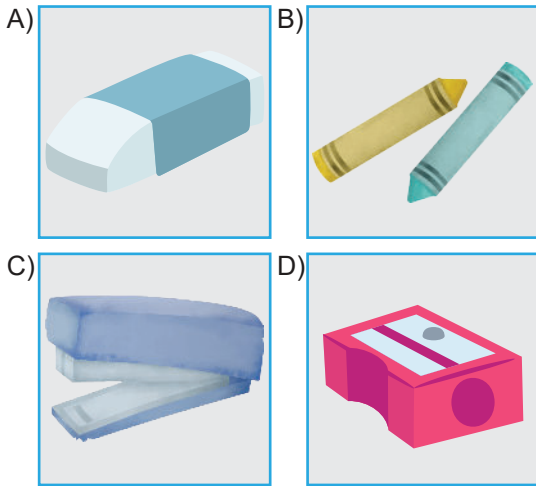
- A) What nationality are you?
- B) I am from Canada.
- C) It is in north America.
- D) I live in Ottawa.

3. Will : Excuse me! I need a pencil sharpener.
Can you give me yours, please?

Paul : Of course! Here you are.

Will : Thanks a lot.

Which of the following pictures shows the underlined word in the dialogue above?



Molly : Where do you live, Kelly?

Kelly : I live in Paris, France.

Molly : -----?

Kelly : It is in the north of France.

Which of the following completes the dialogue above best?

- A) Where is it
- B) Where are you from
- C) What nationality are you
- D) How are you today

- 5.




Which of the following completes the sentence above best?


- A) climb a mountain
- B) ride a bike
- C) play football
- D) do a puzzle

1. Bu testte 15 soru vardır.
2. Cevaplarınızı, cevap kâğıdının Matematik Testi için ayrılan kısmına işaretleyiniz.

1. Şekil 1'de, 64 tane birimküple oluşturulan bir yapı verilmiştir. Bu yapıdan belirli miktarda küp alındığında oluşan yapının görüntüsü ise Şekil 2'de verilmiştir.



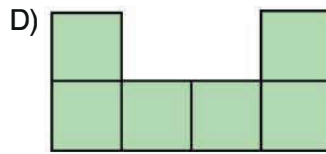
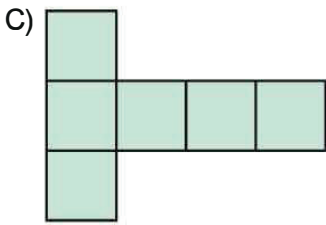
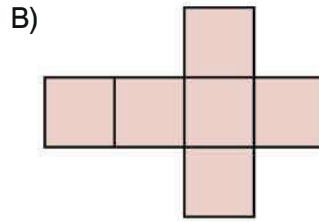
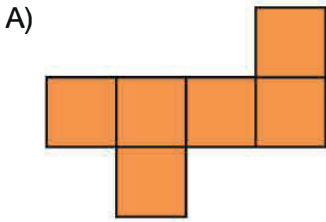
Şekil 1



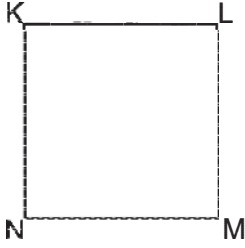
Şekil 2

Buna göre, Şekil 1'deki yapıdan kaç tane küp alınmıştır?

2. Aşağıdakilerden hangisi, küpün açınımlarından biri değildir?



3. Çınar, çizdiği karenin köşelerini aşağıdaki gibi isimlendirmiştir.



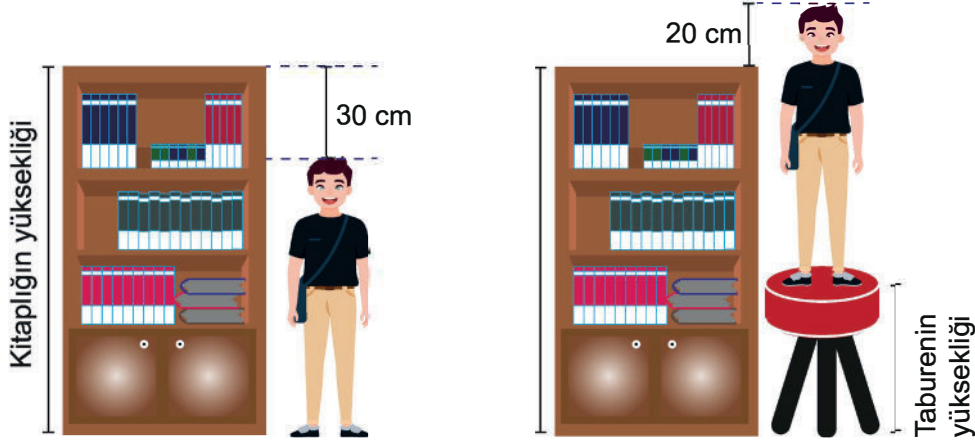
Buna göre aşağıdakilerden hangisi bu şeklin kenarlarından biri değildir.

- A) NK kenarı B) KL kenarı
C) NL kenarı D) MN kenarı

4. Aşağıdakilerden hangisi yanlıştır?

- A) $\frac{2}{8}$ kesri yarımından küçüktür.
B) $\frac{6}{12}$ kesri yarımından büyüktür.
C) $\frac{2}{3}$ kesri sıfırdan büyüktür.
D) $\frac{8}{7}$ kesri bütünden büyüktür.

5. Aşağıdaki görselde kitaplık, çocuk ve tabure ile ilgili bazı ölçüm değerleri verilmiştir.



- I. Kitaplığın yüksekliği
II. Çocuğun boy uzunluğu
III. Taburenin yüksekliği

Buna göre, görseldeki bilgiler kullanılarak yukarıda verilenlerden hangisinin sonucu bulunabilir?

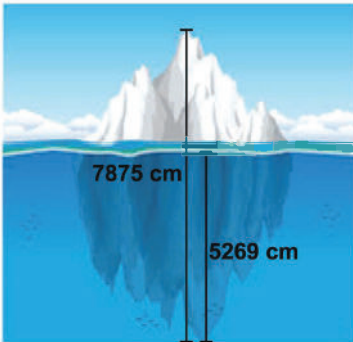
- A) Yalnız III. B) I ve II.
C) I ve III. D) II ve III.

6. Kapasitesi 1580 kg olan bir tahıl deposunda başlangıçta 450 kg tahıl bulunmaktadır. Depoya ilk hafta 150 kg, ikinci hafta 320 kg, üçüncü hafta 660 kg daha tahıl eklenmiştir.

Buna göre, üçüncü haftanın sonunda tahıl deposundaki tahıl miktarı için aşağıdakilerden hangisi söylenir?

- A) Depo tam olarak dolmuştur.
B) Deponun dolması için 450 kilogram daha tahıl gerekir.
C) Depoya kapasitesinden fazla tahıl eklenmiştir.
D) Deponun dolması için 130 kilogram daha tahıl gerekir.
7. İki basamaklı en büyük çift doğal sayı ile üç basamaklı en küçük tek doğal sayının çarpımı kaçta eşittir?
A) 8764 B) 8780 C) 9672 D) 9898

8.

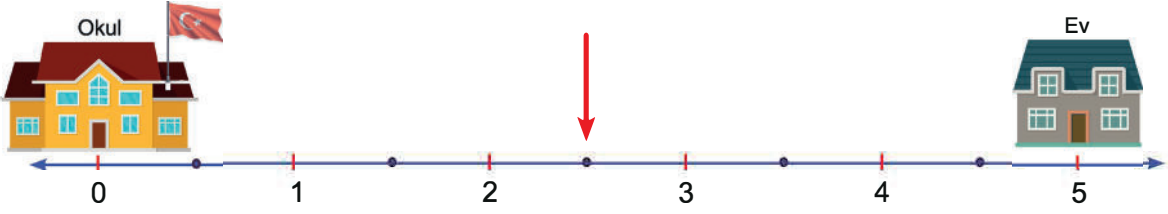


Bir buz dağının suyun üzerinde görünen kısmı dışında, suyun altında kalan bir kısmı daha vardır. Bu konuda araştırma yapan Can, toplam yüksekliği 7875 cm olan buz dağının 5269 cm'sinin suyun altında olduğunu öğrenmiştir.

Buna göre, buz dağının suyun üzerinde görünen kısmı kaç santimetredir?

- A) 2575 B) 2586 C) 2606 D) 2614

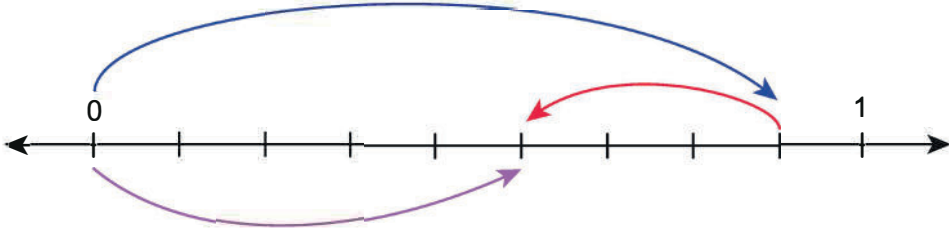
9. Arda'nın sıfır noktasında bulunan okulu ile beş noktasında bulunan evi arasındaki yol eşit aralıklarla çizilmiş sayı doğrusuyla gösterilmiştir.



Arda, evinden okuluna giderken okla gösterilen noktada resim defterini unuttuğunu fark etmiş; evine geri dönmüş ve defterini alıp tekrar okula gitmiştir.

Buna göre Arda'nın evden okula gidene kadar yürüdüğü toplam mesafe hangi kesirle ifade edilir?

- A) $\frac{20}{2}$ B) $\frac{15}{2}$ C) $\frac{10}{2}$ D) $\frac{5}{2}$
- 10.



Yukarıdaki sayı doğrusunda gösterilen çıkarma işleminin sonucu aşağıdakilerden hangisidir?

- A) $\frac{3}{9}$ B) $\frac{3}{8}$ C) $\frac{5}{9}$ D) $\frac{5}{8}$
11. Aşağıda dört basamaklı iki doğal sayı veriliyor.

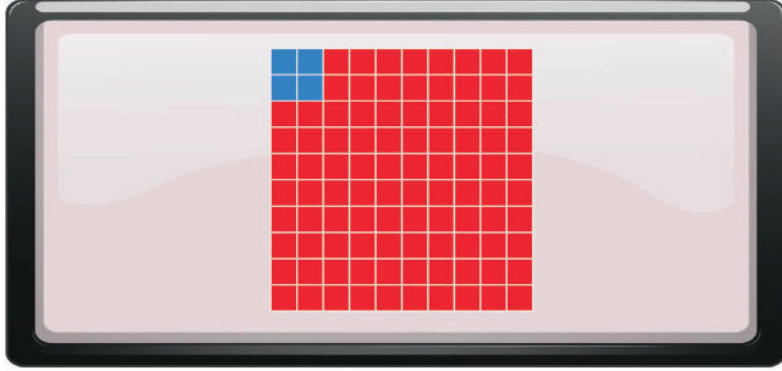
1. Doğal Sayı	2. Doğal Sayı
6105	2381

- 1. doğal sayının onlar basamağındaki rakamın sayı değeri 4 artırılıyor.
- 2. doğal sayının binler basamağındaki rakamın sayı değeri 1 azaltılıyor.

Buna göre, elde edilen iki doğal sayının farkı aşağıdakilerden hangisidir?

- A) 2564 B) 2764 C) 3664 D) 4764

12. Akıllı tahta ekranında, birbirine eş 100 küçük kareye ayrılmış bir şekil verilmektedir. Bu karelerden dört tanesi mavi, geri kalanı ise kırmızı renklidir.



Ekrana bir kez dokunulduğunda, eş küçük kırmızı karelerden üç tanesinin rengi maviye dönüşmektedir.

Buna göre ekrana yedi kez dokunulduktan sonra ekranda kaç tane kırmızı kare kalır?

- A) 69 B) 72 C) 75 D) 79

- 13.



Kartlardan herhangi ikisi alınıp, yan yana getirilerek yeni doğal sayılar oluşturuluyor.

Örnek:



Buna göre, bu kartlardan herhangi ikisi ile oluşturulabilecek bir doğal sayının okunuşu aşağıdakilerden hangisi olamaz?

- A) Dört bin sekiz yüz on iki B) Yüz dört bin kırk sekiz
C) On iki bin yüz dört D) On bin dört yüz kırk sekiz

1. Bu testte 15 soru vardır.
2. Cevaplarınızı, cevap kâğıdının Fen Bilimleri Testi için ayrılan kısmına işaretleyiniz.

1. Dünya'nın hareketleri ile ilgili bazı açıklamalar verilmiştir.

- I. Dünya, Güneş etrafındaki dolanım hareketini tamamlar.
- II. Dünya'nın kendi eksenini etrafında dönmesiyle oluşur.
- III. Dünya, kendi eksenini etrafında doğru döner.

Verilen açıklamalarda noktalı yerlere gelmesi gereken uygun ifadeler aşağıdakilerden hangisidir?

- | | <u>I</u> | <u>II</u> | <u>III</u> |
|----|------------------|----------------|----------------|
| A) | 365 gün 6 saatte | gece ve gündüz | batıdan doğuya |
| B) | 24 saatte | mevsimler | batıdan doğuya |
| C) | 365 gün 6 saatte | gece ve gündüz | doğudan batıya |
| D) | 24 saatte | mevsimler | doğudan batıya |

- 2.



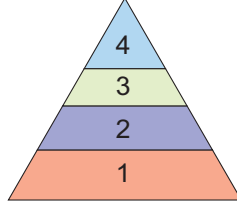
Sahra Çölü'nde Bulunan Balık Fosilleri

Bilim insanları, Sahra Çölü'nde bulunan dağlarda binlerce fosil ortaya çıkardılar. Bulunan fosillerin birçoğu günümüzden 11.000 yıl önce yaşamış, insanlar tarafından avlanan balıklara aittir. Bulunan balık türleri, daha çok yayın balığı ve tatlı su çipurasıdır. Araştırma sonuçlarına göre günümüzde çöl olan alan, bir zamanlar balık avlanacak kadar sulak bir hâldeydi. Uzmanlar, balık fosilleri üzerinde bulunan, kesik ve yanık izlerinin, balıkların bölgedeki yerleşimciler açısından önemli bir besin kaynağı olduğunu gösterdiğini açıkladılar.

Bu habere göre, aşağıdaki yorumlardan hangisi yapılamaz?

- A) Sahra Çölü'nde, o dönemde daha çok yayın balığı ve tatlı su çipurası bulunmaktadır.
- B) Sahra Çölü'nde daha eski fosiller kayaların en üst tabakalarında yer alır.
- C) Sahra Çölü'nde, o dönemde besin kaynaklarından birinin balık olduğu öğrenilebilir.
- D) Sahra Çölü'nün geçmişteki iklimi ve yeryüzü şekli hakkında bilgi verir.

3. Besin piramidi, sağlıklı beslenmek için hangi besinlerden ne kadar tüketmemiz gerektiğini anlatır. Görselde bir besin piramidinin basamakları numaralandırılarak verilmiştir.

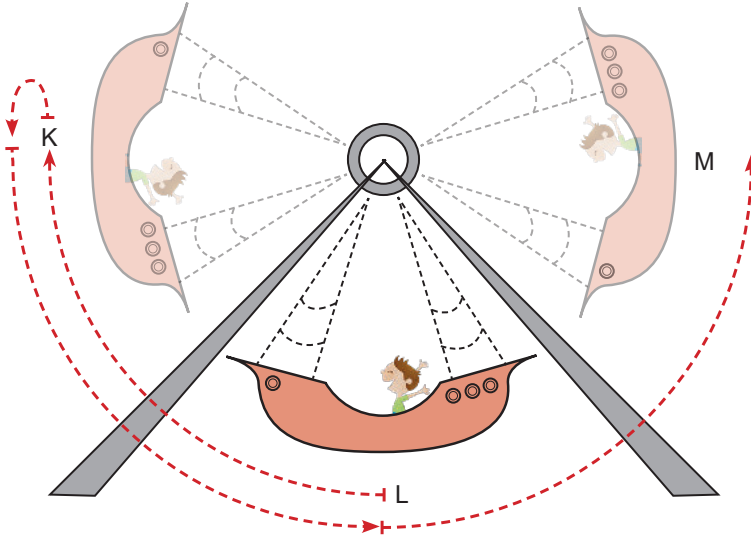


Besin piramidi ile ilgili aşağıdaki bilgilerden hangisi yanlıştır?

- A) Birinci basamağında tahıl ürünleri yer alır.
 B) İkinci basamağında baklagiller yer alır.
 C) Üçüncü basamağında et ve süt ürünleri yer alır.
 D) Dördüncü basamağında şekerli ve yağlı besinler yer alır.
4. Proteinler, vücudumuzda yapıcı ve onarıcı olarak görev yapan besin içeriğidir.

Aşağıdakilerden hangileri protein bakımından zengin değildir?


- A) peynir, nohut, mercimek
 B) yumurta, bezelye, yoğurt
 C) balık, kuru fasulye, et
 D) pirinç, mısır, bal
5. Lunaparktaki bir gondol; L noktasından harekete başlayarak önce K noktasına çıkmakta, sonra tekrar L 'den geçerek M noktasına ulaşmaktadır.



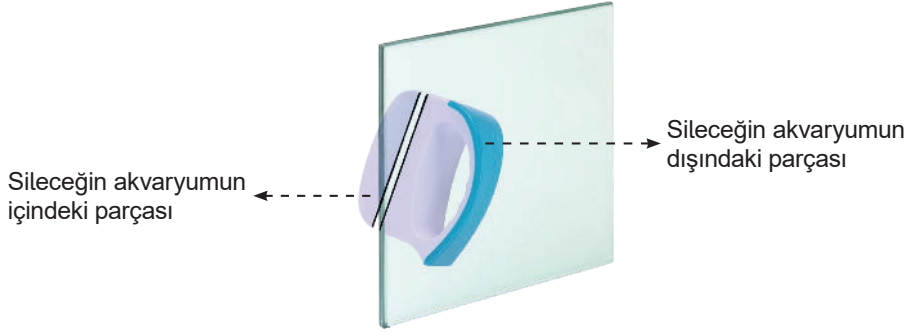
Gondolun yaptığı bu hareket ile ilgili aşağıdakilerden hangisi yanlıştır?

- A) K noktasından L noktasına gelirken hızlanır.
 B) L noktasından M noktasına giderken yavaşlar.
 C) L ve M noktası arasında, dönme hareketi yapar.
 D) K ve M noktası arasında, sallanma hareketi yapar.

6.



Mıknatıslı silecekler, akvaryumun kolayca temizlenmesini sağlar. Sileceğin bir parçası, akvaryumun içinde, diğer tarafı, akvaryumun dışındadır. Sileceğin dışındaki parçası, cam üzerinden hareket ettirilince içindeki parça da aynı anda hareket eder ve akvaryumun camı, hem içeriden hem dışarıdan temizlenmiş olur.

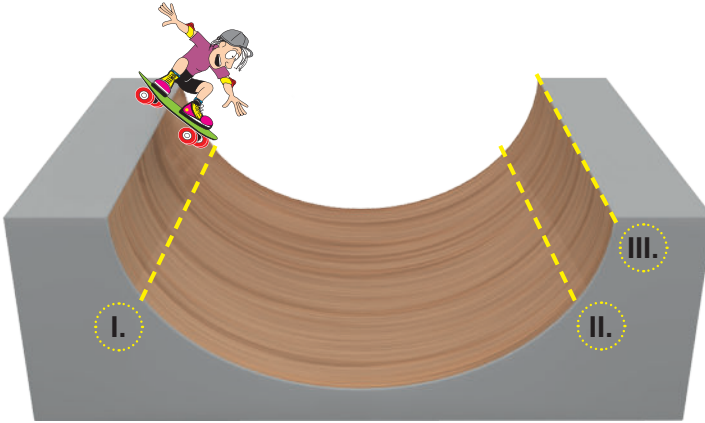


Bahsedilen silecek, mıknatısın hangi özelliği kullanılarak yapılmıştır?

- A) Aynı kutuplarının birbirini itmesi
- B) Camdaki kirleri çekebilmesi
- C) Temas gerektirmeyen kuvvet uygulaması
- D) Parçalansa da manyetik özelliğini koruması

7.

Emir, kayak pistinde gidip gelerek gösteri yapmaktadır.



Emir'in numaralanmış noktalarda yaptığı hareketlerde, kuvvetin hangi etkileri görülür?

- | | <u>I</u> | <u>II</u> | <u>III</u> |
|----|-----------|----------------|----------------|
| A) | Yavaşlama | Hızlanma | Yön değiştirme |
| B) | Hızlanma | Hızlanma | Yavaşlama |
| C) | Hızlanma | Yön değiştirme | Yavaşlama |
| D) | Hızlanma | Yavaşlama | Yön değiştirme |

8. Aşağıda bazı tanımlamalar verilmiştir.

- I. Katı maddelerin şekil almış hâline denir.
- II. Bir cismin içerdiği, ölçülebilen büyüklükteki madde miktarına denir.
- III. Maddenin boşlukta kapladığı yere denir.

Buna göre, verilen boşluklar hangi kavramlarla doğru tamamlanabilir?

	<u>I</u>	<u>II</u>	<u>III</u>
A)	Cisim	Madde	Hacim
B)	Cisim	Kütle	Hacim
C)	Madde	Kütle	Cisim
D)	Kütle	Cisim	Madde


9. Isı ve sıcaklıkla ilgili bazı bilgiler verilmiştir.

- I. Isı akışı, sıcaklığı düşük olan maddeden yüksek olan maddeye doğrudur.
- II. Ani sıcaklık değişimi, kayaların parçalanmasına ve toprağın oluşmasına neden olur.
- III. Soğuk hava, vücudumuzla temas ettiğinde vücudumuzdan ısı alır ve üşürüz.

Verilen bilgilerden hangileri doğrudur?

- A) Yalnız II B) I ve III C) II ve III D) I, II ve III

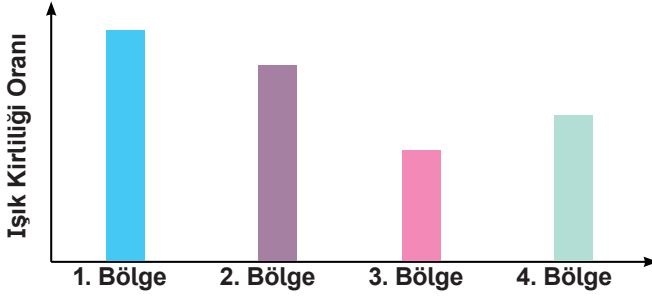
10. Bir öğrenci yüzen ve batan cisimleri gözlemlemek istiyor. Bu amaçla su dolu bir kaba toprak, talaş, yaprak ve anahtar atıyor.



Öğrenci deney sonucuna göre maddeleri nasıl sınıflandırmalıdır?

	<u>Yüzer</u>	<u>Batar</u>
A)	anahtar – yaprak	talaş – toprak
B)	talaş – yaprak	anahtar – toprak
C)	toprak – anahtar	yaprak – talaş
D)	toprak – talaş	anahtar – yaprak

11. Gözlemevleri, şehir ışıklarından uzakta ve yüksek yerlerde kurulur. Bunun nedeni, şehir ışıklarının oluşturduğu parlaklığın gök cisimlerinin gözlenmesini zorlaştırmasıdır. Grafikte, dört farklı bölgedeki ışık kirliliği oranı verilmiştir.



Buna göre, hangi bölgede gözlemevi kurulması daha uygundur?

- A) 1. Bölge B) 2. Bölge C) 3. Bölge D) 4. Bölge
12. Besin tasarrufuyla ilgili bazı bilgiler aşağıda verilmiştir.

- I. Reklamı daha çok yapılan ürünleri almaya özen göstermeliyiz.
 II. Satın aldığımız ürünlerin son kullanma tarihine mutlaka bakmalıyız.
 III. Alışverişlerimizde, önceden hazırladığımız "alışveriş listesine" uymaya özen göstermeliyiz.

Verilen bilgilerden hangileri doğrudur?

- A) Yalnız I B) I ve II C) II ve III D) I, II ve III
13. Besinlerle ilgili bazı bilgiler verilmiştir.

D / Y	Bilgiler
	Besinlerin bazılarını bitkilerden, bazılarını hayvanlardan elde ederiz.
	Gereğinden fazla tüketilen karbonhidratlar, vücutta yağa dönüşerek şişmanlamamıza neden olur.
	Su ihtiyacımızı sadece içeceklerden karşılarız.

Yukarıda verilen cümlelerin doğru – yanlış sıralaması nasıldır?

- A)

D
Y
D

 B)

Y
Y
D

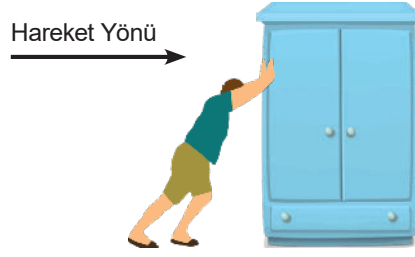
 C)

Y
D
Y

 D)

D
D
Y

14. Ahmet Usta, şekildeki dolabı iterek hareket ettiriyor.



Ahmet Usta'nın dolabı daha hızlı götürmesi için dolaba hangi yönde ek bir kuvvet daha uygulamalıdır?


A)  Sağ

B)  Sol

C)  Yukarı

D)  Aşağı

15. Aşağıda, Dünya'nın Güneş'e göre konumu verilmiştir.



Buna göre, aşağıdakilerden hangisi yanlıştır?

- A) K ve L şehirlerinde gündüz yaşanmaktadır.
B) L şehirde gündüz, M şehirde gece yaşanmaktadır.
C) M ve N şehirlerinde gece yaşanmaktadır.
D) N şehirde gündüz, L şehirde gece yaşanmaktadır.

