

## 7. SINIF SEÇME SINAVI

PROF. DR. ÖMER DİNÇER KIZ ANADOLU İMAM HATİP LİSESİ

İMAM HATİP ORTAOKULU

FEN VE SOSYAL BİLİMLER PROJE OKULU

SINAVLA ÖĞRENCİ ALACAK  
İMAM HATİP ORTAOKULU  
2022-2023 EĞİTİM ÖĞRETİM YILI

# 7. SINIF

## SEÇME SINAVI SORULARI

Bu kitapçık bu eğitim öğretim yılında 6. sınıfta olan öğrenci için hazırlanmıştır.

### ÖĞRENCİ SINAV BİLGİLERİ

SINAV SALON NO	:	...
SINAV SIRA NO	:	...
TC KİMLİK NO	:	.....
ADI VE SOYADI	:	.....
ÖĞRENCİ İMZASI	:	.....

<b>Bu kitapçıkta;</b>	<b>Sınav Kuralları ve Açıklamalar</b>
. Türkçe : 15 Soru	1-Bu testte her bir soru için bir tek doğru cevap vardır. Optik formda birden fazla seçeneği işaretlemeyiniz.
. Matematik : 15 Soru	2-Soruların cevaplarını optik form cevap kağıdında ilgili yere kodlamayı unutmayınız.
. Fen Bilimleri : 15 Soru	3-Cevap kağıdı olan optik form sizin adınıza kodlanmış şekilde hazırlanmış olup <b>cevap kağıdının size ait olup olmadığını kontrol ediniz. Cevap kağıdında adınız, soyadınız ve TC kimlik numaranız kodlanmış şekildedir.</b>
. Sosyal Bilgiler : 10 Soru	4- <b>Yanlış cevaplar doğru cevabınızı etkilemeyecektir. Bu nedenle optik formda boş seçenek soru bırakmayınız.</b>
. Din K. ve Ah Bilgisi : 10 Soru	5-Sınavın başlama saatinden 15 dakika sonrası olan 14.15 den sonra gelen öğrenci sınava alınmayacaktır. Öğrenciler sınavdan ilk 40 dakika ve son 15 dakika dışarı çıkarılmayacaktır.
. İngilizce : 10 Soru	6- Sınav esnasında tuvalet ihtiyacı olan öğrenciler gözetmen eşliğinde gidebilirler.
<b>Toplam : 75 Soru</b>	7- Sınavdan sonra sınav evrakları, sınav giriş belgesi öğrenciye teslim edilmez.
<b>Sınav Başlama Saati : 14.00</b>	8- Sınav süresi 120 dakikadır. Salgın nedeniyle maske-mesafe-hijyen kurallarına dikkat ediniz.
<b>Sınav Bitiş Saati : 16.00</b>	9- <b>Cevap kağıdında üzerindeki kodlamaları kurşun kalemle yapınız.</b> <b>Başarılar dileriz.</b>



SINAV TARİHİ: 26.03.2022 Cumartesi Saat : 14:00



## 7. SINIF ÖĞRENCİ SEÇME SINAVI

26/03/2022



### -TÜRKÇE-

**DİKKAT! BU BÖLÜMDE CEVAPLAYACAĞINIZ SORU SAYISI 15' DİR.**

Bu bölümdeki sorularla ilgili cevaplarınızı cevap kâğıdınızdaki **"Türkçe"** bölümüne işaretlemeyi unutmayınız.



1) Bu görsele göre bir metin yazılsa metnin başlığı aşağıdakilerden hangisi olmalıdır?

- A) Çevre Bilinci    B) Doğa Sevgisi  
C) Yaşam Enerjisi    D) Sağlığımız ve Çevre

Annenden öğrendiğinle yetinme  
Çocuğum, Türkçeni geliştir.  
Dilimiz öylesine güzel ki  
Durgun göllerimizce duru,  
Akarsularımızca coşkulu...  
Ne var ki çocuğum,  
Güzellik de bakım ister.

2) Yukarıdaki şiire hâkim olan duygu aşağıdakilerden hangisidir?

- A) Anne özlemi    B) Türkçe sevdası  
C) Doğa merakı    D) Dilin zorluğu



## 7. SINIF ÖĞRENCİ SEÇME SINAVI

26/03/2022



En az iki sözcüğün bir araya gelmesiyle oluşan ve genellikle mecaz anlamda kullanılan kelime gruplarına "**deyim**" denir. Buna göre,

- I. Çok sevinmek
- II. Umduğunu ele geçirememek
- III. Tehlikeli bir işle uğraşmak

**3) Anlamları verilen deyimler aşağıdakilerin hangisinde sırasıyla verilmiştir?**

A)

- I. Ağız kulaklarına varmak,
- II. Ateşle oynamak
- III. Avucunu yalamak

B)

- I. Burnundan solumak,
- II. Ağızından bal damlamak
- III. Ateşle oynamak

C)

- I. Ağız kulaklarına varmak,
- II. Avucunu yalamak
- III. Ateşle oynamak

D)

- I. Ağız kulaklarına varmak,
- II. Sinek avlamak
- III. Ateşle oynamak



## 7. SINIF ÖĞRENCİ SEÇME SINAVI

26/03/2022



Ormanın birinde aslan, kocaman kafasını pençelerinin üzerine koymuş biçimde uykuluyormuş. O sırada ufak bir fare fark etmeden aslanın üzerine çıkmış. Nerede olduğunu anlayınca da korku içimde oradan kaçmak istemiş ve aslanın burnunun üzerinden koşmaya başlamış. Tatlı uykusundan uyandırılmasından rahatsız olan aslan, fareyi yakalamış ve sinirli biçimde pençelerini göstermiş. "Bağışla canımı" diye yalvarmış, zavallı fare. "Lütfen gitmememe izin ver. Günün birinde benim de sana bir iyiliğim olur." Aslan bir farenin kendisine yardım edeceğini söylemesine çok gülmüş. Böyle bir şeyin imkânsız olduğunu düşünse de farenin canını bağışlamış ve gitmesine izin vermiş. Bu olaydan birkaç gün sonra aslan ormanda avlanırken bir avcının kurduğu tuzağa yakalanmış. Etrafını saran kalın iplerden kurtulamıyormuş. Çaresizlik içinde ve öfkeyle kükremeye başlamış. Fare, aslanın sesini tanımış ve hızlıca bulunduğu yere gelmiş. Aslanın hareket etmesini engelleyen iplerden en kalınına gitmiş ve onu kemirmeye başlamış. En sonunda ip parçalanmış ve aslan da böylece tuzaktan kurtulmuş.

**4. Bu metnin ana düşüncesini aşağıdakilerden hangisi en iyi yansıtmaktadır?**

- A) Bir insanın gerçek zenginliği, onun bu dünyada yaptığı iyiliklerdir.
- B) Yalnız iyilik yapmak yetmez, iyiliği zarafetle yapmak da lazımdır.
- C) İyiye giden yol, çok güç görünüyorsa da bulunabilecek bir yoldur
- D) İyilik, hiç bir zaman boşa gitmeyecek olan bir yatırımdır.

I. Gelin tanış olalım, işi kolay kılalım, sevelim sevilelim, dünya kimseye kalmaz.

II. Yunus Emre 13-14. yüzyıllarda yaşamıştır.

III. 1991 yılı U.N.E.S.C.O. tarafından Yunus Emre'nin doğumunun 750.yılı olarak anılmıştır.

IV. Yunus Emre'yi anma töreni 19.00'da başlayacak.

**5) Numaralanmış cümlelerin hangisinde noktanın kullanımıyla ilgili bir yanlışlık yapılmıştır?**

- A) I.    B) II.    C) III.    D) IV.



## 7. SINIF ÖĞRENCİ SEÇME SINAVI

26/03/2022



Bağlaç olan "da/de" ayrı yazılır. Cümleden çıkarıldığında cümlenin anlamında bozulma olmaz. Cümleye "dahi, bile" anlamlarını katar. Kendisinden önceki sözcüğün son ünlüsüne bağlı olarak ünlü uyumlarına uyar. Bağlaç olan "da, de" hiçbir zaman "ta, te" biçiminde yazılmaz. "Da, de" bağlacını kendisinden önceki sözcükten kesme ile ayırmak da yanlıştır.

Buna göre,

- I. Seni, ben de anlıyorum ama onun kadar değil.
- II. Onların yeni aldıkları evde bizimkisi kadar büyüktü.
- III. Önce sen bir dene de yapamazsan ben yaparım
- IV. Dün akşamki toplantıya gelenler arasında Ahmet te vardı.

6) Numaralanmış cümlelerin hangisinde "da/de" bağlacının yazımıyla ilgili bir yanlışlık yapılmıştır?

- A) I ve III.                      B) I ve IV.  
C) II ve III.                     D) II ve IV.

Yazarın insanlara belli bir konu hakkındaki düşünce, görüş ve gözlemlerini bildirmek amacıyla yazdığı yazılara düşünce yazısı denir.

7) Buna göre aşağıdakilerden hangisi bir düşünce yazısından alınmıştır?

- A) Gideceğiniz yerlerde farklı kültürleri göreceksiniz ve tanıyacağınız medeniyetler hakkında fikir sahibi olacaksınız. Eleştirilerinizin ve ön yargılarınızın kırılması ya da değişmesi için elinize geçen bu fırsatı değerlendirin.
- B) Ticaretle uğraşan bir adam, memleketi Trabzon'a gitmek için bir gemiye binmiş. Derken, yolda şiddetli bir fırtına çıkmış ve gemi bir sağa bir sola yatmaya, batıp çıkmaya başlamış. Adam çok korkmuş.
- C) Çocuk o kadar yoksulmuş ki başını sokacak bir kulübeciği, içine girip yatacağı bir yatağı bile yokmuş. Daha kötüsü, üstündeki... Yolda karşısına yoksul bir adam çıkmış: "Karnım çok aç, bana yiyecek bir şey versene." demiş.
- D) Köpek ile horoz ormanda gezindikleri bir akşam, bir ağacın kenarına gitmişler. Horoz, ağacın dallarına tünemiş. Orada uyumaya başlamış. Köpek de ağacın kovuğunda uyuyacak bir yer bulmuş.

- I. Gelir çocukluğum, düşlerin arasından  
II. Buz tutan yüreğim bir kıvılcım olur.  
III. Melek olur, kanatları ruhumun beyazından  
IV. Şu ihtiyar gönlüm huzur şevkle buluşur.

8) Verilen dizelerin hangisinde altı çizili sözcük farklı bir çekim eki almıştır?

- A) I.      B) II.      C) III.      D) IV.



## 7. SINIF ÖĞRENCİ SEÇME SINAVI

26/03/2022



(I) Fazıl Hüsnü Dağlarca'nın bitki ve hayvan dostluğunu anlattığı "Balina ile Mandalina" adlı eserinde "Yansımalar" adlı bir bölüm vardır.

(II) Şair bu bölümde şiirlerine ad vermez.

(III) Bu şiirde yalnız; bir balinanın iç dünyası çocuklara anlatılır.

(IV) Dağlarca, şimdiye dek hiçbir çocuk şiirinde denenmemiş mükemmel bir şekilde anlatmıştır hayvan sevgisini.

9) Bu metinde numaralanmış cümlelerin hangisinde öznel bir değerlendirme söz konusudur?

- A) I.                      B) II.  
C) III.                    D) IV.

Cümlede doğrudan söylenmeyen, cümlenin anlamından veya cümledeki bazı ifadelerden çıkarılabilen anlama "örtülü anlam" denir.

10) Buna göre aşağıdakilerin hangisinde örtülü anlam yoktur?

- A) Hafta sonu sinemaya da gideceğiz.  
B) Futbol müsabakaları Mayıs ayında da başlamayacakmış.  
C) Cuma akşamı sokağa çıkma yasağı yine yapılacaktı.  
D) İki ekmek aldım, eve gidiyorum.

Herhangi bir eser oluşturmak, dışarıdan ne kadar kolay görünse de aslında o kadar basit bir iş değildir. Unutulmaması gereken ilk kural, oluşturulan eserin yeni şeyler söylemesidir. Yeni şeyler söylemeyen eserler, raflarda tozlanmaya mahkûmdur.

11) Bu metindeki altı çizili söz öbeği, adı geçen eserlerin hangi özelliğini anlatmaktadır?

- A) Özgünlükten uzak kaldığı  
B) Sürekli okunduğu  
C) Kalıcı olamadığı ve unutulduğu  
D) Okuyucuya her daim ulaştığı



## 7. SINIF ÖĞRENCİ SEÇME SINAVI

26/03/2022



Masmavi gökyüzünde uçuyordu kırlangıçlar.  
Yolculuk öncesi telaşıyla çırpılıyordu kanatlar.  
Hafif bir rüzgâr daha esti, düştü solgun bir yaprak gibi.  
Anlaşılan o ki gelmişti vakti, güz demek sıcaklara göç demek.

**12) Bu dörtlükte aşağıdaki söz sanatlarından hangileri kullanılmıştır?**

- A) Kişileştirme - Abartma
- B) Konuşturma - Benzetme
- C) Kişileştirme - Benzetme
- D) Konuşturma - Kişileştirme

Türkçemiz atasözleri yönünden çok oldukça zengindir. Bu durum günlük yaşantımızdaki konuşmalarımıza da yansımış ve pek çok durum ve olay karşısında atasözleri kullanılmıştır. Örneğin: Bir şeyin gerçek değerinin, ancak ona çok ihtiyaç duyulduğu zaman iyi anlaşıldığı anlamında....., bir işe girişen kimse, o işin güçlüklerini, sıkıntılarını ve masraflarını göze almalıdır anlamında....., Hiç kimsenin suçlu olduğunu kabul etmek istemediği anlamında....., kişinin elindeki sanat, değeri hiç eksilmeyen bir servettir anlamında ise..... atasözleri kullanılır.

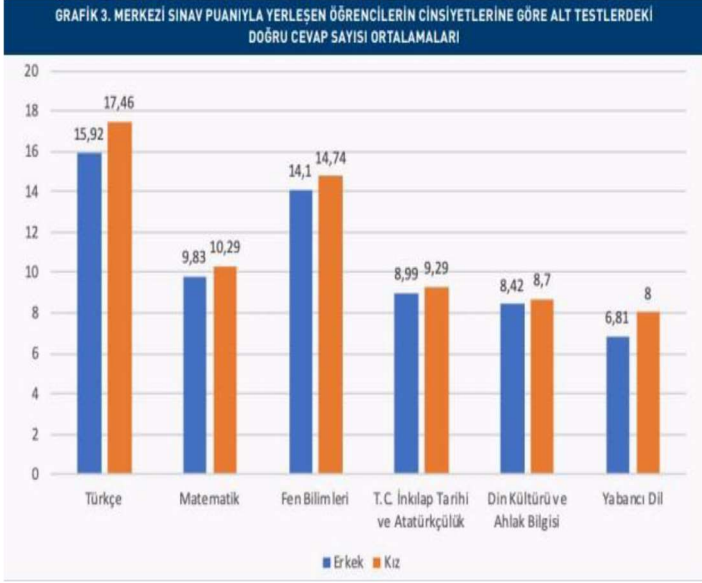
**13) Bu parçada boş bırakılan yerlere aşağıdakilerden hangisi getirilemez?**

- A) Hamama giren terler.
- B) Sanatını hor gören boğazına torba takar
- C) Kabahat samur kürk olsa kimse sırtına almaz
- D) Abanın kadri yağmurda bilinir.



## 7. SINIF ÖĞRENCİ SEÇME SINAVI

26/03/2022



14) Bu grafikten aşağıdaki bilgilerden hangisine ulaşamaz?

- A) Her iki öğrenci grubunun da en az doğru cevap verdiği ders yabancı dildir.
- B) Her iki öğrenci grubunun da en fazla doğru cevap verdiği ders Türkçe'dir.
- C) Kız öğrenciler grafikte verilen bütün alanlarda erkek öğrencilerden daha başarılıdır.
- D) İki öğrenci grubu doğru cevap sayısı bakımından farkın en az olduğu ders inkılap tarihidir.

Ayşe, Birkan, Ceyhun, Davut, Eylem, Ferdi, Gamze ve Hayat'tan oluşan sekiz kişilik bir sınıfın oturma düzeni aşağıdaki gibidir:

4	8
3	7
2	6
1	5

Oturma düzeni hakkında bilinenler aşağıda verilmiştir:

- Gamze, Davut'un; Eylem de Ceyhun hemen arkasındaki sırada oturmaktadır.
- Hayat, Davut'un yanındaki sırada oturmaktadır.
- Birkan, 6 numaralı sırada oturmaktadır.

15) Verilen bilgilere göre aşağıdakilerden hangisi kesinlikle yanlıştır?

- A) Davut, 1 numaralı yerde oturmaktadır.
- B) Ayşe, Ferdi'nin yanındaki sırada oturmaktadır.
- C) Ferdi ile Ceyhun yan yana oturmaktadır.
- D) Hayat, Birkan'ın hemen önünde oturmaktadır.

*Türkçe soruları bitmiştir. Cevaplarınızı kontrol ederek Matematik sorularına geçebilirsiniz.*





## 7. SINIF ÖĞRENCİ SEÇME SINAVI

26/03/2022



### -MATEMATİK-

DİKKAT! BU BÖLÜMDE CEVAPLAYACAĞINIZ SORU SAYISI 15'DİR.

Bu bölümdeki sorularla ilgili cevaplarınızı cevap kâğıdınızdaki **"MATEMATİK"** bölümüne işaretlemeyi unutmayınız.

$$4^{\square} = 4 \cdot 4 \cdot 4 \cdot 4 \cdot 4$$

$$\Delta^4 = 3 \cdot 3 \cdot 3 \cdot 3$$

1) Yukarıdaki eşitliklere göre  $\square^{\Delta}$  nin değeri kaçtır?

- A) 125    B) 150    C) 155    D) 175

$$5^2 \dots\dots\dots 4^3 \quad 10^4 \dots\dots\dots 10^7$$

$$6^2 \dots\dots\dots 2^5 \quad 4^4 \dots\dots\dots 3^5$$

$$10^4 \dots\dots\dots 10^2 \quad 2^4 \dots\dots\dots 3^3$$

2) Yukarıdaki üslü nicelik şeklinde yazılan ifadelerin aralarındaki noktalı yerler kaç tane '>' sembolü gelmelidir?

- A) 1    B) 2    C) 3    D) 4



## 7. SINIF ÖĞRENCİ SEÇME SINAVI

26/03/2022



Emre,  $[5 \cdot 2 + (4 + 8)] : 2$  işlemini adım adım aşağıdaki gibi yapıyor.

I.  $[10 + (4 + 8)] : 2$

II.  $[10 + (4 + 4)]$

III.  $[10 + 8]$

IV. 18

3) Buna göre Emre, ilk olarak hangi adımda hata yapmıştır?

- A)I.      B)II.      C)III.      D)IV.

$$96 : 6 + 5 \cdot 10 - 9$$

4) Yukarıdaki işlemin sonucu aşağıdakilerden hangisidir?

- A) 57      B) 78      C) 105      D) 201



5) Yukarıda verilen sayıların ortak özelliklerden biri aşağıdakilerden hangisi değildir?

- A) 4'ün katı olmaları  
B) 8'in katı olmaları  
C) 12 sayısının hepsinin bölene olması  
D) 16 sayısının hepsinin bölene olması



## 7. SINIF ÖĞRENCİ SEÇME SINAVI

26/03/2022



Ayşe, 42 sayısının tüm çarpanlarını bir çiçeğin yapraklarına küçükten büyüğe doğru yazmıştır.

Buna göre A, B ve C yerine sırasıyla aşağıdakilerden hangisi gelmelidir?

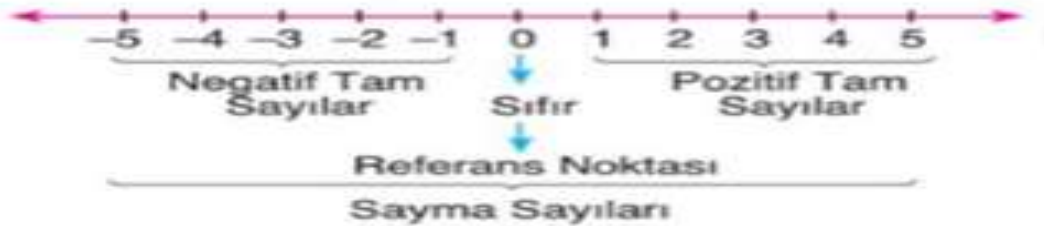


6)

	A	B	C
A)	3	12	24
B)	4	7	28
C)	3	9	15
D)	3	7	21

7)  $A = \{ 11, 13, 17, 19, 23, 29, 31 \}$  kümesinin ortak özellik yöntemi ile doğru gösterimi aşağıdakilerden hangisidir?

- A)  $A = \{ x, 32\text{'den küçük asal sayılar} \}$
- B)  $A = \{ 32\text{'den küçük iki basamaklı asal sayılar} \}$
- C)  $A = \{ x > 10, x \text{ doğal sayılar} \}$
- D)  $A = \{ 8 < x < 32, x \text{ tek doğal sayılar} \}$



8) Sayı doğrusu modeli üzerinde verilen ifadelerden hangisi yanlış verilmiştir?

- A) Negatif Tam Sayılar
- B) Referans Noktası
- C) Pozitif Tam Sayılar
- D) Sayma Sayıları

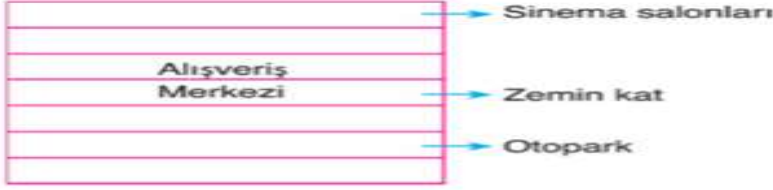


## 7. SINIF ÖĞRENCİ SEÇME SINAVI

26/03/2022



9)

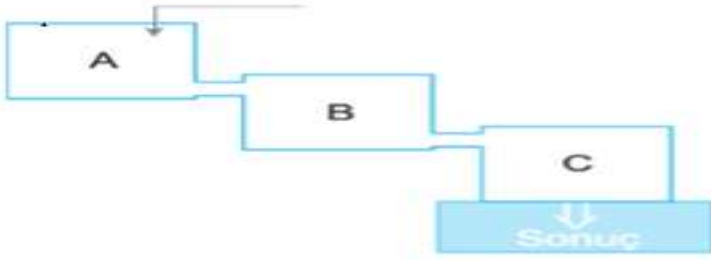


Yukarıda bir alışveriş merkezinin kat planı verilmiştir.

**Sinema salonları ve otopark sırasıyla hangi katlardadır?**

- A) 3. kat, -2. Kat    B) -3. kat, 2. kat  
C) -3. kat, -2.kat    D) 3.kat, 2.kat

10)

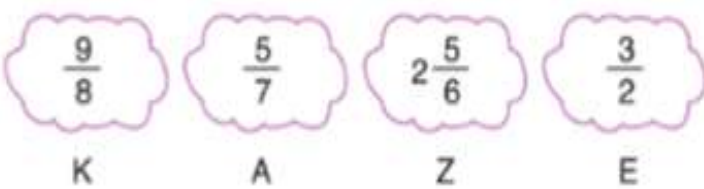


A kutusuna bir sayı atılıyor. Bu sayı  $\frac{3}{4}$  ile toplanıp B kutusuna, B kutusundaki sayı  $\frac{1}{8}$  ile toplanıp C kutusuna, C kutusundaki sayı  $\frac{13}{4}$  ile toplanıp sonuç kutusuna atılıyor.

**Sonuç kutusunda 5 sayısı olduğuna göre A kutusuna giren sayı kaçtır?**

- A)  $\frac{1}{8}$     B)  $\frac{2}{7}$     C)  $\frac{3}{8}$     D)  $\frac{7}{8}$

11)



**Yukarıdaki kesirler büyükten küçüğe sıralandığında, karşılıkları olan harflerin oluşturduğu kelime hangi seçenekte verilmiştir?**

- A) AKZE    B) ZEKA  
C) AKEZ    D) EZKA



## 7. SINIF ÖĞRENCİ SEÇME SINAVI

26/03/2022



12) Bir miktar bilyenin  $\frac{1}{4}$ 'ünü Beril,  $\frac{1}{2}$ 'sini Sueda almıştır. Geriye kalan bilye sayısı 44 olduğuna göre Sueda, Beril'den ne kadar fazla bilye almıştır?

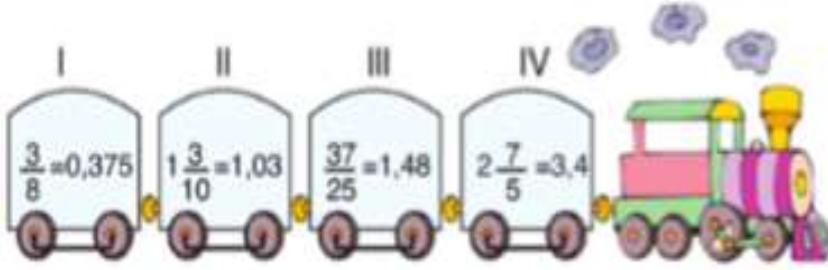
- A)22      B)44      C)66      D)88

13)  $\left(1 - \frac{1}{2}\right) \cdot \left(1 - \frac{1}{3}\right) \cdot \left(1 - \frac{1}{4}\right) \cdot \left(1 - \frac{1}{5}\right) \cdot 5$

İşleminin sonucu aşağıdakilerden hangisidir?

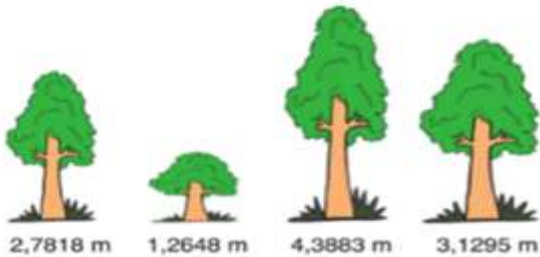
- A) 0      B) 1      C)  $\frac{1}{2}$       D)  $\frac{3}{5}$

14)



Yukarıdaki vagonlarda yazılan eşitliklerden kaç tanesi yanlıştır?

- A)1      B)2      C)3      D)4



Yukarıda bazı ağaçların uzunlukları ondalık gösterim şeklinde verilmiştir.

15) Buna göre ondalık gösterimler i yüzde birler basamağına göre yuvarladığımızda aşağıdakilerden hangisini elde edemeyiz?

- A) 2,78      B) 1,26      C) 4,38      D) 3,13

Matematik soruları bitmiştir. Cevaplarınızı kontrol ederek Sosyal Bilgiler sorularına geçebilirsiniz.



## 7. SINIF ÖĞRENCİ SEÇME SINAVI

26/03/2022



### -SOSYAL BİLGİLER-

**DİKKAT! BU BÖLÜMDE CEVAPLAYACAĞINIZ SORU SAYISI 10'DUR.** Bu bölümdeki sorularla ilgili cevaplarınızı cevap kâğıdınızdaki **"SOSYAL BİLGİLER"** bölümüne işaretlemeyi unutmayınız



Merhaba adım Mete. Bir hastanenin pandemi bölümünde doktorum. Covit-19'a yakalanmış kişileri tedavi ediyorum. Virüs bana da bulaştığı için tedavi görüyorum. Evliyim ve iki çocuğum var.

1 ) Buna göre, Mete Bey aşağıdaki rollerden hangisine sahip değildir?

A) Eş B) Baba C) Evlat D) Hasta



Aşağıdaki kutucukta Ece Öğretmen tarafından kalıp yargının tanımı verilmiştir.

#### Ece Öğretmen

Ece Öğretmen, öğrencilerden kalıp yargı ile ilgili örnekler vermelerini ister

**Kalıp Yargı:** Bir topluluğun bütün üyelerine ait olduğuna inanılan abartılı düşüncelere denir.



Meltem:

Görme engelli bir bireyin üniversiteyi kazanmasına şaşırılması



Serkan:

Maddi durumu iyi olmayan insanlar toplumun genel kurallarını bilmezler



Berrak:

Kadınlar iş hayatında başarılı olamazlar



Sinan:

Köyden kente göç edenler şehir hayatına uyum sağlayamazlar

2) Hangi öğrencinin cevabı, kalıp yargıların sosyo-ekonomik düzey alanına yönelik örnek bir cümle olmuştur?

A) Meltem B) Serkan

C) Berrak D) Sinan



## 7. SINIF ÖĞRENCİ SEÇME SINAVI

26/03/2022

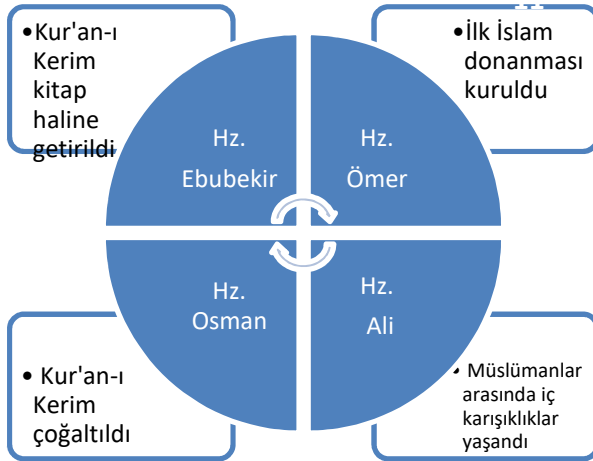


“Türk hakanı Ötüken  
dağlarında oturur imiş.  
Bunca diyara kadar orduları  
Yürüttüm ve anladım ki:  
Ötüken dağlarından daha iyi bir yer asla  
yok imiş. Zaman ile akılsız hakanlar tahta oturmuş.  
Kumandanları da akılsız imişler. Çin halkının sözleri tatlı,  
ipekli kumaşları yumuşak imiş. Tatlı sözlerle, yumuşak ipekli  
kumaşlarla kandırıp uzak halkları öylece yaklaştırdılar imiş.  
Tatlı sözlerine, ipekli kumaşlarına aldatıp, Çin halkı hilekâr  
ve sahtekâr olduğu için, beylerle halkı karşılıklı kıskırttığı  
için, Türk halkı kurduğu devleti elden çıkarıvermiş.” **Orhun  
Kitabelerinden alıntı.**

3) Parçada verilen bilgilere göre aşağıdakilerden hangisi yanlıştır?

- A) Türk Devleti, Orta Asya'da kurulmuştur.
- B) Türk Devleti'nin sınırları genişlemiştir.
- C) Çin Devleti, Türkleri tamamen ortadan kaldırmıştır.
- D) Çin entrikaları Türk devletinin yıkılışını hızlandırmıştır.

Aşağıdaki diyagramda Dört Halife döneminde meydana gelen olaylar ve hangi halife döneminde meydana geldikleri verilmiştir.



4) Diyagramda, hangi halife dönemindeki bilgi yanlış verilmiştir?

- A) Hz. Ebubekir
- B) Hz. Ömer
- C) Hz. Osman
- D) Hz. Ali



## 7. SINIF ÖĞRENCİ SEÇME SINAVI

26/03/2022



Türk-İslam edebiyatının ilk eserleri şunlardır:

	YAZAR	ESER
I	Kaşgarlı Mahmut	Divan-ı Lügat-it Türk
II	Yusuf Has Hacip	Divanı Hikmet
III	Ahmet Yesevi	Kutadgu Bilig
IV	Ahmet Yükneki	Atabetül Hakayık

5) Tabloya göre hangi numaralar yer değiştirilirse yazar/eser eşleştirmesi doğru olur?

- A) I ve II                      B) II ve III  
C) I ve III                      D) II ve IV

İpek Yolu, Çin'den başlayarak Anadolu ve Akdeniz üzerinden Avrupa'ya kadar uzanan bir ticaret yoludur. İpek yolundan yalnızca tüccarlar değil, bu yolun geçtiği ülkeler, şehirler ve köyler ekonomik olarak büyük gelir elde etmişlerdir. Bu ticaret yolu ile sadece mal taşınmamış; geçtikleri yerlerin kültürleri, fikirleri gibi birçok özellik de ülkeler arasında taşınmıştır. Mal ve kültür alışverişinde önemli bir yere sahip olan İpek Yolu, devletlerin birbiri ile mücadelelerine de sebep olmuştur.

6) Bu anlatıma göre İpek yolu ile ilgili olarak aşağıdakilerden hangisi söylenemez?

- A) Devletler İpek Yolu'na sahip olmak için savaşmışlardır  
B) Doğu ve Batı arasında kültürel etkileşimin artmasını sağlamıştır  
C) Geçtiği yerlerdeki halkın ve ülkelerin ekonomik kazançlarını arttırmıştır.  
D) İpek Yolu Çin'den başlayarak Karadeniz'e kadar uzanan bir ticaret yoludur.

Haritada Anadolu'da kurulan ilk Türk Beylikleri gösterilmektedir.



7) Aşağıdaki sorulardan hangisinin cevabını haritadaki bilgilere göre verebiliriz?

- A) İlk Türk Beylikleri nerede kurulmuştur?  
B) İlk Türk Beylikleri zamanında yapılan mimari eserler nelerdir?  
C) İlk Türk Beylikleri hangi devletlerle savaşmıştır?  
D) İlk Türk Beyliklerinden en güçlü olanı hangisidir?





Barış

Kilise ve din adamlarına duyulan güven azaldı



Emine

Kağıt, pusula, matbaa gibi gelişmeler İslam dünyasından Avrupa'ya taşındı.



Serap

Akdeniz limanlarının önemi arttı



Hasan

Türkiye Selçuklu Devletinin batıya ilerleyişi durdu

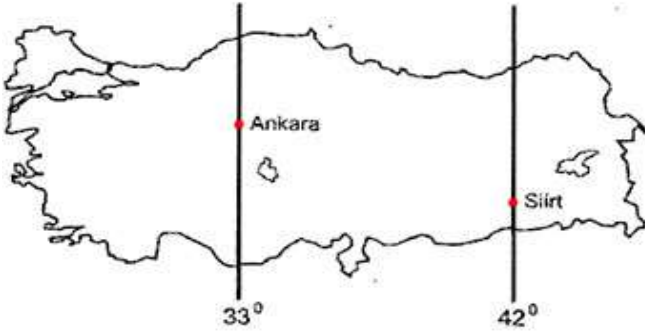
8) Hangi öğrencinin söylediği, Haçlı Seferleri'nin siyasi sonuçlarından biridir?

A-Hasan

B- Serap

C- Emine

D- Barış



- I- Yerel saatleri aynıdır
- II- Başlangıç meridyeninin doğusunda yer alırlar
- III- Ekvatora olan uzaklıkları aynıdır.

9) Yukarıdaki haritaya göre, Ankara ve Siirt hakkında; Verilen bilgilerden hangi/hangileri doğrudur?

A) Yalnız I

B) Yalnız II

C) II ve III

D) I, II ve III



## 7. SINIF ÖĞRENCİ SEÇME SINAVI

26/03/2022



Aşağıda, Antalya'nın aylara göre ortalama sıcaklık ve yağış grafiği gösterilmektedir.



10) Buna göre Antalya ile ilgili aşağıdaki yargılardan hangisine varılamaz?

- A) En fazla yağışı aralık ayında almıştır
- B) En sıcak aylar ağustos ve temmuz aylarıdır
- C) Kış mevsiminde kar yağışı görülür
- D) Sıcaklıkların yükseldiği aylarda yağış azalmıştır

*Sosyal Bilgiler soruları ve sınavınız bitmiştir. Fen Bilimleri sorularına geçebilirsiniz*



## 7. SINIF ÖĞRENCİ SEÇME SINAVI

26/03/2022



### -FEN BİLİMLERİ-

DİKKAT! BU BÖLÜMDE CEVAPLAYACAĞINIZ SORU SAYISI 15'TİR.

Bu bölümdeki sorularla ilgili cevaplarınızı cevap kâğıdınızdaki "**FEN BİLİMLERİ**" bölümüne işaretlemeyi unutmayınız.

Güneş sistemindeki gezegenlerden bazılarının özellikleri şöyledir:

**K** : Güneşe en yakın ikinci gezegendir.

**L** : Güneş sisteminin en büyük gezegenidir.

**M** : Güneş sisteminde bir uydusu olan gezegen.

1) Buna göre **K**, **L** ve **M** ile gösterilen gezegenler aşağıdakilerden hangisinde verilmiştir?

<u>K</u>	<u>L</u>	<u>M</u>
A) Merkür	Venüs	Mars
B) Venüs	Jüpiter	Neptün
C) Dünya	Jüpiter	Neptün
D) Venüs	Jüpiter	Dünya

2) Bir besinin ağıza alındıktan sonra izlediği yol aşağıdakilerden hangisinde sırasıyla verilmiştir?

- A) Ağız -Mide-İnce Bağırsak-Kalın Bağırsak-Anüs
- B) Ağız -Yemek Borusu-İnce Bağırsak-Anüs
- C) Ağız -Yemek Borusu-Mide-İnce B.-Kalın B.- Anüs
- D) Yemek Borusu-İnce B.-Mide-Kalın B.-Anüs

3) Aşağıdakilerden hangisi Büyük kan dolaşımının amaçlarından birisi değildir?

- A) Kanın akciğerlerde temizlenmesini sağlamak
- B) Vücuda oksijen dağıtmak
- C) Vücuda besin dağıtmak
- D) Kirli kanın kalbe geri dönmesini sağlamak



## 7. SINIF ÖĞRENCİ SEÇME SINAVI

26/03/2022



4) Aşağıdakilerden hangisi İç gezegenlerden değildir?

- A) Dünya                      B) Mars  
C) Jüpiter                      D) Venüs

5) Ay tutulması sırasında Ay hangi evrededir?

- A) Hilal                      B) İlk dördün  
C) Dolunay                      D) son dördün

6) Çizgili kaslar ile ilgili hangi ifade yanlıştır?

- A) Yorulmazlar  
B) Kollarda ve bacaklarda(vb.) bulunurlar.  
C) Hızlı çalışabilirler.  
D) İsteğimizle çalışırlar.

7) Destek ve hareket sistemi elemanı olan kemiklerin görevi için aşağıda verilenlerden hangisi yanlıştır?

- A) Vücuda şekil vermek  
B) Hareket etmemizi sağlamak  
C) Kalbi korumak  
D) Sindirime yardımcı olmak

Aşağıda, Güneş Sistemi'ndeki bazı gezegenler ile ilgili bilgiler verilmiştir.

- I. Güneş'e en yakın beşinci gezegen Jüpiter'dir.  
II. Güneş Sistemi'ndeki en büyük gezegen Venüs'tür.  
III. Asteroitler, genellikle Mars ile Jüpiter arasındaki yörüngededirler.

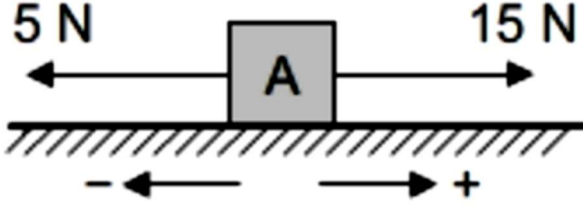
8) Yukarıda verilen cümlelerden hangileri doğrudur?

- A) Yalnız I                      B) I ve II  
C) I ve III                      D) I, II ve III



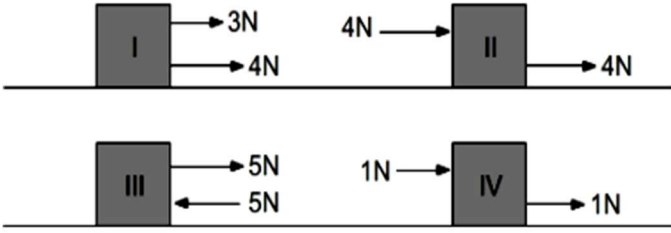
7. SINIF ÖĞRENCİ SEÇME SINAVI

26/03/2022



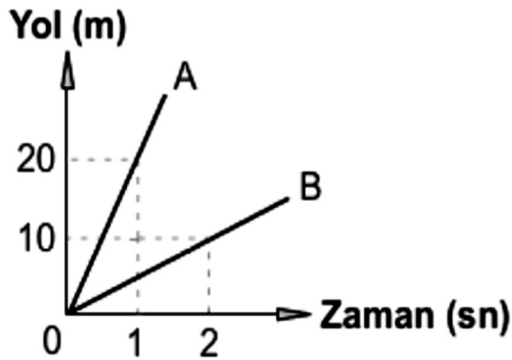
9) Yukardaki cisme etki eden bileşke kuvvet kaç Newtondur?

- A) 5 B) 10 C) 15 D) 20



10) Yukardaki cisimlerden hangisi dengelenmiş kuvvetlerin etkisindedir?

- A) IV B) III C) II D) I



11) Yukarıdaki yol-zaman grafiğine göre A aracının hızının B aracının hızına oranı nedir?  
( A nın hızı Bölü B nin hızı)

- A) 1 B) 2 C) 3 D) 4



## 7. SINIF ÖĞRENCİ SEÇME SINAVI

26/03/2022



12) Ali sabah kahvaltısında yumurta yemiştir. Yumurtanın Alinin vücudunda kimyasal sindirimini başladığı ve bittiği yerler hangi seçenekte doğru verilmiştir?

- A) Ağız - Mide
- B) Mide - İnce Bağırsak
- C) Yutak - Kalın Bağırsak
- D) Ağız - Anüs

13) Kalp kası ile ilgili aşağıdaki bilgilerden hangisi yanlıştır?

- A) Rengi çizgili kaslara benzer
- B) İsteğimiz dışında çalışır
- C) Beyaz renklidir
- D) Yorulmaz



14) Kendi aracıyla 50 km/h sabit süratle 300 km uzakta oturan akrabalarına gitmek için sabah saat 8.00 da yola çıkan Ali saat kaçta akrabalarının evinde olacaktır? ( Yol boyunca Alinin sürati sabittir ve yolda hiç mola vermemiştir )

- A) 14.00
- B) 15.00
- C) 16.00
- D) 17.00

15) Küçük kan dolaşımı ile ilgili aşağıdaki bilgilerden hangisi yanlıştır?

- A) Vücuda besin ve oksijen taşınması sağlanır.
- B) Kalbin sağ bölümünden başlar.
- C) Temiz kan kalbe taşınır.
- D) Kalp ve Akciğer arasında gerçekleşir.

*Fen Bilimleri soruları bitmiştir. Cevaplarınızı kontrol ederek Din Kültürü sorularına geçebilirsiniz.*



## 7. SINIF ÖĞRENCİ SEÇME SINAVI

26/03/2022



### -DİN KÜLTÜRÜ VE AHLAK BİLGİSİ-

DİKKAT! BU BÖLÜMDE CEVAPLAYACAĞINIZ SORU SAYISI 10'DUR.

Bu bölümdeki sorularla ilgili cevaplarınızı cevap kâğıdınızdaki **"DİN KÜLTÜRÜ VE AHLAK BİLGİSİ"** bölümüne işaretlemeyi unutmayınız.

Peygamberler toplumda güzel ahlakları ve seçkin özellikleriyle insanların sevgisini, saygısını kazanmışlardır. Bütün peygamberlerin bazı ortak özellikleri vardır. İşte bu özelliklere **peygamberlerin sıfatları** denmektedir. Allah (cc) tarafından gönderilen bütün peygamberler doğru sözlü, dürüst kimselerdir. Peygamberler, Allah(cc) tarafından kendilerine verilen görevin gereğini en güzel şekilde yapmışlar, ilahi mesajlara ekleme ve çıkarma yapmamışlardır. Peygamberler, Allah (cc) tarafından tertemiz bir yaratılışla yaratılmışlar, günahattan korunmuşlardır. Bütün peygamberler söz ve davranışlarıyla insanlara güven duygusu vermişler ve her zaman güvenilir insan olmuşlardır.

1) Aşağıdakilerden hangisi yukarıdaki metinde geçen peygamber sıfatlarından **değildir**?

- A) Tebliğ      B) Fetanet      C) Sıdk      D) İsmet

2) Aşağıdaki ilahi kitap ve peygamber eşleştirmelerinden hangisi **hatalıdır**?

A) Tevrat- Hz. İbrahim

B) Zebur- Hz. Davut

C) İncil- Hz. İsa

D) Kur'an-ı Kerim- Hz. Muhammed

- a) Abdest alırken önce niyet edilir ve eûzu besmele çekilir.  
b) Eller yıkanır, ağza ve burna üç defa su verilir.  
c) Baş meshedilir. Kulaklar temizlenir ve boyun meshedilir.  
d) Yüz yıkanır ve kollar dirseklerle birlikte üç kez yıkanır.  
e) Önce sağ ve sonra sol ayak topuklarla birlikte yıkanır.

3) İnsanın namaz kılabilmesi için yapması gereken ilk iş abdest almasıdır. Yukarıda abdestin alınışı ile ilgili cümlelerin doğru sıralanabilmesi için hangi harf ile başlayan cümleler birbiri ile **ver** **değiştirmelidir**?

A) a – c

B) c – d

C) b – d

D) d – e



## 7. SINIF ÖĞRENCİ SEÇME SINAVI

26/03/2022



\* “Namazı kıldınız mı, gerek ayakta gerek otururken ve gerek yan yatarak hep Allah’ı anın. Güvene kavuştunuz mu namazı tam olarak kılın. Çünkü namaz, müminlere belirli vakitlere bağlı olarak farz kılınmıştır.” *Nisa suresi, 103. ayet*

\* “Gündüzün iki ucunda, gecenin de ilk saatlerinde namaz kıl. Çünkü iyilikler kötülükleri (günahları) giderir. Bu, öğüt almak isteyenlere bir hatırlatmadır.” *Hud suresi 114. ayet*

\* “Namazı dosdoğru kılın, zekatı verin. Kendiniz için her ne iyilik işlemiş olursanız Allah katında onu bulursunuz. Şüphesiz Allah yaptıklarınızı görür.” *Bakara suresi, 110. ayet*

### 4) Yukarıdaki ayetlerden, namazın önemi ve faydaları ile ilgili aşağıdakilerden hangisi çıkarılamaz?

- A) Allah yaptığımız her şeyi görür.
- B) Allah katında hiçbir şey zayi olmayacaktır.
- C) Her halimizle Allah’ı anmalıyız.
- D) Sabah ve akşam namaz kılsak yeterli olacaktır.

“Allâhümme.....nestâînüke ve nestağfirüke ve nestehdik. Ve nü’minübike ve netübü ileyk. Ve netevkelüaleyke ve nüsni’aleykel-hayra küllehûneşküürüke ve lâ nekfürük. Ve nahleu ve netrükü men yefcürük.”

“Allâhümme.....na’büdü ve leke nüsallî ve nescüdü ve ileykenes’a. Ve nahfidünercûrahmeteke ve nahşâazâbekeinneazâbekebilküffârimülhık.”

### 5) Yukarıda kunut dualarının okunuşu yazılmıştır. Boşluklara aşağıdaki hangi şıkkı getirirsek doğru olur?

- A) İyyake-inna      B) Salli-barik
- C) Barik-salli      D) İnna- iyyake

“Namaz, Allah’ın (cc) huzuruna çıkmak, Rabb’imizle (cc) konuşmak, onunla aracısız bir şekilde iletişim kurmaktır. Her şeyin sahibi ve yaratıcısı olan Allah’a (cc) kul olduğumuzu hatırlamaktır. Yüce Yaradan (cc) ile doğrudan iletişim kurmak, onun kulu olmak insanın kendisini değerli hissetmesini sağlar, kişiye huzur ve mutluluk verir. Bizler namaza başlarken ellerimizi kaldırır, böylece dünyaya ait işleri arkamızda bırakırız. Her gün namaz kılarak dünyanın sıkıntılarından, meşgalelerinden bir süreliğine de olsa uzaklaşır, rahatlar, huzur buluruz. Tüm benliğimizle Rabbimize (cc) yönelir, ona sığınırız. Cenab-ı Allah’ın (cc), zor durumda kalan kullarına yardım edeceğine, onları sahipsiz bırakmayacağına inanırız. Bu inanç bize güç, güven ve iç huzuru gibi güzel duygular kazandırır. Bizler namaz kılarak Rabbimize (cc) olan sevgimizi, saygımızı, bağlılığımızı ve minnetimizi ifade ederiz. Allah’ın (cc) da kendisine yönelen kullarını sevdiğini biliriz. Bunu bilmek bizi rahatlatır, gönlümüzü huzurla doldurur.”

### 6) Bu bilgiler doğrultusunda aşağıdaki şıklardan hangisine ulaşılır?

- A) Namaz zamanı verimli kullanmayı öğretir.
- B) Namaz insanın duygu dünyasını geliştirir.
- C) Namaz, temizliğe alıştıırır.
- D) Namaz, birliktelik bilincini geliştirir.





## 7. SINIF ÖĞRENCİ SEÇME SINAVI

26/03/2022



### 7) Aşağıdaki namazların hangisi farz namaz olarak nitelendirilir?

- A) Küsuf namazı      B) Hüsuf namazı  
C) Bayram namazı    D) Cuma namazı

“İyi arkadaşıyla kötü arkadaşın misali, misk taşıyanla körük çeken insan gibidir. Misk sahibi kişi, ya sana kokusundan verir veya sen ondan alırsın. Körük çekene gelince, ya elbiseni yakar yahut da sen onun kötü kokusunu alırsın.” **Hadis**

### 8) Hadis zararlı alışkanlıklara başlama sebeplerinden hangisinden bahsetmektedir?

- A) Özenti                      B) Merak  
C) Arkadaş çevresi      D) Yaşanan sorunlar

Kur'an-ı Kerim'de Hz. Âdem (a.s.) kıssasıyla bağlantılı olarak Habil ve Kabil olayı üzerinde de durulur. Habil ve Kabil, Hz. Âdem'in ( a.s.) oğullarıdır. Buna göre Habil ve Kabil, biri hayvancılık yapan, diğeri toprağı ekip biçen iki kardeşti. Babaları Hz. Âdem (a.s.) onlardan, Yüce Allah'a (c.c.) kurban sunmalarını istedi. Habil, Allah'ın (c.c.) kendisine verdiği nimetlerden en güzelini seçip kurban olarak sundu. Diğer oğul Kabil ise kurban ibadetini istemeye istemeye yerine getirdi. Üstelik de değersiz ürünleri Allah'a (c.c.) kurban olarak sundu. Ancak Allah (c.c.), Habil'in kurbanını kabul buyurdu, Kabil'in kurbanını ise reddetti. Bu olaydan sonra Kabil, kardeşine kin güttü, kıskançlık gösterdi ve ona düşman oldu. İçinde biriktirdiği bu kötü duygular bir süre sonra onu, kardeşini öldürmeye yöneltti. Böylece Kabil hem yeryüzünde ilk kan döken insan hem de kardeş katili oldu. Kardeşini öldürdükten sonra onun içini, masum bir cana kıymanın verdiği ağır bir suçluluk ve günah duygusu sardı. Ama artık iş isten geçmişti. Çünkü kardeşi hayatını kaybetmişti.

### 9) Yukarıdaki metinde aşağıdakilerden hangisine ulaşamaz?

- A) Allah, Kabil'in kurbanını kabul etti.  
B) Habil ve Kabil'in babası Hz. Adem'dir.  
C) Kabil, Habil'i öldürmüştür.  
D) Allah, Habil'in kurbanını kabul etti.

Zararlı alışkanlıklardan olan sigara ve alkollü içkilerin yanı sıra kumarın da kul hakkı ve toplumsal çöküntüyle yakından ilişkisi vardır. Ayrıca meşru yoldan helal kazanç yerine, kumarla risksiz ve alın teri olmadan para kazanma yollarının rağbet görmesi toplumlar için yıkım olur. İslam dini şansa ve tesadüfe değil, emek ve alın terine dayalı helal kazancı önemseydiği gibi toplumda sosyal adaletin gerçekleşmesi için de birçok önlem almıştır. Böylece İslam dini her dönemde farklı isimler alabilen kumarı yasaklamış, kumara yol açabilecek davranışları da bu yasağa dâhil etmiştir.

### 10) Metne göre aşağıdakilerden hangisi söylenemez?

- A) İslam dini helal yoldan çalışarak kazanmaya önem verir.  
B) Kumar sadece bireysel değil toplumsal olarak da zarar verir.  
C) Kumar oyunları her dönemde aynı şekilde isimlendirilmiştir.  
D) İslam, helal olan şeylerin kumara alet edilmesini uygun görmez.

*Din Kültürü soruları bitmiştir. Cevaplarınızı kontrol ederek İngilizce sorularına geçebilirsiniz.*



## 7. SINIF ÖĞRENCİ SEÇME SINAVI

26/03/2022



### -İNGİLİZCE-

**DİKKAT! BU BÖLÜMDE CEVAPLAYACAĞINIZ SORU SAYISI 10'DUR.**  
Bu bölümdeki sorularla ilgili cevaplarınızı cevap kâğıdınızdaki **"İNGİLİZCE"** bölümüne işaretlemeyi unutmayınız.

**Khan** : What time does your school finish?

**Leo** : It finishes at 15: 50

1) Altı çizili saat hangi seçenekte doğru yazılmıştır?

- A) quarter past three pm.
- B) Ten past three pm.
- C) Ten to four pm.
- D) half past three pm.

2)

**Ella** : Can I have some jam?

**Thomas** : - - - -. Do you want some honey?

**Ella** : No, thanks. I don' t like honey.

- A) No, thanks. I don' t like jam
- B) I don' t like junk food
- C) No, thanks. I am full
- D) It' s all gone

3)

Hello! I'm Nelly. I always have breakfast with my family. I like cereal with milk for breakfast. My parents like nutritious food. They have cheese, egg and tomato for breakfast. Jane, my sister, likes croissant and coffee. She always has them for breakfast. I think they aren't nutritious.

Nelly thinks - - - - and - - - - are unhealthy food.

- A) cereal - milk      B) milk - cheese
- C) cereal - coffee    D) croissant - coffee



## 7. SINIF ÖĞRENCİ SEÇME SINAVI

26/03/2022



4)

I prefer living in the country because - - -

- A) it is quiet and lovely
- B) the city is more relaxing
- C) the city is really exciting
- D) it is noisy and exhausting

I. I'm sorry, we can't.

II. Why?

III. Can we go on a picnic?

IV. It is rainy outside.

5) Yukarıda karışık olarak verilen cümlelerin anlamlı bir bütün oluşturacak şekilde sıralandığı seçeneği işaretleyiniz.

- A) III - II - IV - I
- B) III - I - II - IV
- C) I - IV - III - II
- D) VI - I - II - III

**Emily** : I think fair is amazing. I love roller coaster and wave swinger but ghost train is my favorite.

**Ken** : I only like carrousel at the fair. I'm frightened of speed and height. I think ghost train is terrifying.

**Frank** : I hate fairs. I prefer playing soccer with my friends. I think fairs are boring.

**Ann** : I love dangerous rides. Roller coaster is really exciting but I think carrousel and bumper cars are boring.

6) Which is true?

- A) Frank doesn't love playing soccer.
- B) Emily hates going to the fair.
- C) Ann doesn't like carrouseles.
- D) Ken loves fast rides.



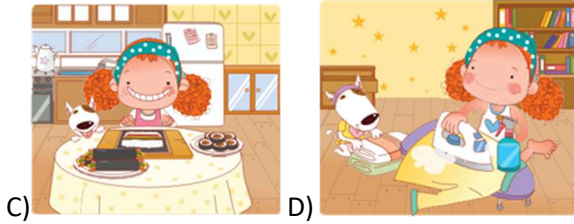

## 7. SINIF ÖĞRENCİ SEÇME SINAVI

26/03/2022



- \*Molly helps her mother
- \*Julia takes an English course
- \*Sarah has a snack

7) Aşağıdaki görsellerden hangisinin İngilizce ifadesi yukarıda verilmemiştir?



8) He is - - - -.

- A) parking his car
- B) washing his car
- C) repairing his car
- D) driving a new car



## 7. SINIF ÖĞRENCİ SEÇME SINAVI

26/03/2022



9)

- A) It is freezing
- B) It is windy here
- C) It is rainy outside
- D) It is cloudy

Bumper car:	
Big wheel:	
Wave swinger:	
Roller coaster:	

10) Yukarıda verilen tabloya göre doğru seçeneği işaretleyiniz.

- A) He loves roller coaster.
- B) He thinks big wheel is fun.
- C) He hates wave swinger.
- D) He prefers bumper cars to wave swinger.

*İngilizce soruları ve sınavınız bitmiştir. Cevaplarınızı kontrol etmeyi unutmayınız*



## 7. SINIF ÖĞRENCİ SEÇME SINAVI

26/03/2022



# 7. SINIF

### SINAV KURALLARI VE AÇIKLAMALAR

1. Yazılı sınavda adaylara 7. sınıf için 6. sınıf konularından **Türkçe 15, Matematik 15, Fen bilgisi 15, Sosyal Bilgiler 10, İngilizce 10, Din Kültürü ve Ahlak Bilgisi 10** soru olmak üzere toplam **75 soru** vardır.

2. **Sınav süresi 120 dakikadır.**

3. Öğrenciler sınav salonlarına hazırlıklarını zamanında yapabilmeleri için 13:00'da alınabilir.

4. Sınavların başlama saatinden 15 dakika sonra gelen öğrenci sınava alınmamasına, Ancak, sınavın başlama saatinden sonra gelen öğrenciler için ayrıca ek süre verilmeyecek ve o öğrencilerin sınavları da zamanında başlayan öğrencilerle beraber bitirmeleri zorunludur.

5. **Öğrenciler sınavdan ilk 40 dakika ve son 15 dakika dışarı çıkamazlar.**

6. **Katılımcıların sınava Nüfus Kimlik Belgesi ve Sınav Giriş Belgesi ile girmesi zorunludur.**

7. Sınavlarda çıkacak sorular; MEB müfredatına göre çoktan seçmeli 4 seçenekli **test şeklinde olup yanlış cevap sayısı doğru cevap sayısını etkilemeyecektir.**

8. Sınav güvenliği konusunda Millî Eğitim Bakanlığı Merkezî Sistem Sınav Yönergesi güvenlik kuralları geçerli olup, güvenliği ihlal eden aday öğrencilerin sınava devam etmelerine izin verilmez ve durumu bu kapsamda olan aday öğrencilerin sınav evrakı değerlendirme işlemine alınmayacaktır.

9. Sınavda çıkmış herhangi bir soruya itirazı olan velinin, sınavdan sonraki 2 gün içerisinde dilekçeyle okul idaresine başvurması gerekmektedir.

10. **Sınavdan sonra sınav evrakı, sınav giriş belgesi, soru kitapçığı öğrenciye teslim edilmemelidir.**

11. Yazılı sınavın değerlendirilmesi Sınav Yürütme Kurulu tarafından gerçekleştirilecektir.

12. Değerlendirmelere yapılan itirazlar, sonuçlar açıklandıktan sonra iki gün içerisinde Sınav Yürütme Kuruluna yazılı olarak bizzat yapılmasına, sınav Yürütme Kurulu yapılacak itirazlara nihai kararı verecek olan merci olduğuna, Sınavın biçimi ve değerlendirilmesi tamamen kurulun yetkisi ve takdiri dâhilindedir.

13. Sınav Yürütme Kurulu tarafından sınav sorularında bilimsel, pedagojik ve teknik bir hata tespit edildiği takdirde o soru sınav değerlendirmesinin dışında tutulur ve adayların puan ve hak kaybına uğramamaları saklanılacaktır.

14. Sınav sonuçlarına itiraz, sonuçların ilanına müteakip 5 gün içerisinde veli tarafından Sınav Yürütme Kurulu'na yazılı olarak yapılır.

15. Sınav şartlarına uymadığı tespit edilen öğrenciler ile kopya çekmek yoluyla akademik dürüstlükten uzaklaşan öğrenciler hakkında ve burada yer almayan hususlar ile ilgili son kararı verme yetkisi "Sınav Yürütme Kurulu'na ait olup alınacak kararlara itiraz yolu kapalıdır.

16. Sınav esnasında tuvalet ihtiyacı olan öğrenciler gözetmen eşliğinde gidebilirler.

17. Salgın nedeniyle maske, mesafe, hijyen kurallarına dikkat ediniz.

18. Cevap kâğıdı üzerindeki kodlamaları kurşun kalemle yapınız. Sınav Yürütme Kurulu

**PROF. DR. ÖMER DİNÇER KIZ ANADOLU İMAM HATİP LİSESİ**

**FEN VE SOSYAL BİLİMLER PROJE OKULU**

**BÜNYESİNDE BULUNAN**

**YOĞUNLAŞTIRILMIŞ DİL PROGRAMI UYGULAYAN PROJE KIZ İMAM HATİP ORTAOKULU**