

## 6. SINIF SEÇME SINAVI

PROF. DR. ÖMER DİNÇER KIZ ANADOLU İMAM HATİP LİSESİ

İMAM HATİP ORTAOKULU

FEN VE SOSYAL BİLİMLER PROJE OKULU

SINAVLA ÖĞRENCİ ALACAK  
İMAM HATİP ORTAOKULU  
2022-2023 EĞİTİM ÖĞRETİM YILI

# 6. SINIF

## SEÇME SINAVI SORULARI

Bu kitapçık bu eğitim öğretim yılında 5. sınıfta olan öğrenci için hazırlanmıştır.

### ÖĞRENCİ SINAV BİLGİLERİ

SINAV SALON NO	:	...
SINAV SIRA NO	:	...
TC KİMLİK NO	:	.....
ADI VE SOYADI	:	.....
ÖĞRENCİ İMZASI	:	.....

<b>Bu kitapçıkta;</b>	<b>Sınav Kuralları ve Açıklamalar</b>
. Türkçe : 15 Soru	<b>1-Bu testte her bir soru için bir tek doğru cevap vardır. Optik formda birden fazla seçeneği işaretlemeyiniz.</b>
. Matematik : 15 Soru	<b>2-Soruların cevaplarını optik form cevap kağıdında ilgili yere kodlamayı unutmayınız.</b>
. Sosyal Bilgiler : 10 Soru	<b>3-Cevap kağıdı olan optik form sizin adınıza kodlanmış şekilde hazırlanmış olup <u>cevap kağıdının size ait olup olmadığını kontrol ediniz. Cevap kağıdında adınız, soyadınız ve TC kimlik numaranız kodlanmış şekildedir.</u></b>
. Fen Bilimleri : 15 Soru	<b>4-Yanlıı cevaplar doğru cevabınızı etkilemeyecektir. Bu nedenle optik formda boş seçenek soru bırakmayınız.</b>
. Din K. ve Ah Bilgisi : 10 Soru	<b>5-Sınavın başlama saatinden 15 dakika sonrası olan 14.15 den sonra gelen öğrenci sınava alınmayacaktır. Öğrenciler sınavdan ilk 40 dakika ve son 15 dakika dışarı çıkarılmayacaktır.</b>
. İngilizce : 10 Soru	<b>6- Sınav esnasında tuvalet ihtiyacı olan öğrenciler gözetmen eşliğinde gidebilirler.</b>
<b>Toplam : 75 Soru</b>	<b>7- Sınavdan sonra sınav evrakları, sınav giriş belgesi öğrenciye teslim edilmez.</b>
<b>Sınav Başlama Saati : 14.00</b>	<b>8- Sınav süresi 120 dakikadır. Salgın nedeniyle maske-mesafe-hijyen kurallarına dikkat ediniz.</b>
<b>Sınav Bitiş Saati : 16.00</b>	<b>9- Cevap kağıdında üzerindeki kodlamaları kurşun kalemle yapınız. Başarılar dileriz.</b>



SINAV TARİHİ: 26.03.2022  
Cumartesi Saat : 14:00

## 6. SINIF ÖĞRENCİ SEÇME SINAVI

26/03/2022

### TÜRKÇE-

**DİKKAT! BU BÖLÜMDE CEVAPLAYACAĞINIZ SORU SAYISI 15'TİR.**

Bu bölümdeki sorularla ilgili cevaplarınızı cevap kâğıdınızdaki **"Türkçe"** bölümüne işaretlemeyi

Laleler, yapı itibarıyla ince bellidir. Bu düşünceye göre çay bardağı da lalelerden ilham alınarak tasarlanmıştır. Soğuk havalarda içi ısıtması için de sık sık tüketilen çay, ince belli bardak sayesinde parmak uçlarıyla üst tarafından tutulabiliyor, orta kısmı da ele temas edip yakmadan avcu sıcak tutuyordu. Aynı zamanda kavisli yapısıyla içeceğin çabuk soğumasını engelliyordu.

1) Buna göre aşağıdaki görsellerden hangisi anlatılan çay bardağına ait olabilir?



Arkadaşımla uzayda dolaşmaya çıkmıştım. Uzay aracımız çok hızlıydı. Uranüs'ün, Neptün'ün yanından geçtik. Jüpiter'in etrafını saran halenin üzerinden kaydık. Her şey çok güzeldi. Ben en çok Mars'ı merak ediyordum. Orada hava ve su olduğu söyleniyordu. Bu yüzden orada canlılar olabilirdi. Mars'a indiğimizde ne görelim! Meğer buraya bizden önce gelenler varmış. Kocaman bir kulede Türk bayrağı dalgalanıyordu. Gözlerim doldu. Arkadaşıma fark ettirmeden gözyaşlarımı sildim.

2) Aşağıdaki cümlelerin hangisi abartılıdır?

- A) Her şey çok güzeldi.
- B) Jüpiter'in etrafını saran halenin üzerinden kaydık.
- C) Ben en çok Mars'ı merak ediyordum.
- D) Orada hava ve su olduğu söyleniyordu.

## 6. SINIF ÖĞRENCİ SEÇME SINAVI

26/03/2022

Kişiden kişiye değişen, kanıtlanamayan, söyleyen kişinin yorumunu, duygu ve düşüncelerini içeren ifadeler öznel; kişiden kişiye değişmeyen, kanıtlanabilen, söyleyenin yorumunu ve düşüncesini içermeyen ifadeler nesnel ifadelerdir.

3) Bu bilgilere göre aşağıdaki cümlelerin hangisinde öznel ifadelere yer verilmiştir?

- A) Ülkemiz Kuzey Yarım Küre'de yer alır.
- B) Ülkemiz üç tarafı denizlerle çevrili bir yarımadadır.
- C) Irak ve Suriye, ülkemizin güneyinde yer alan komşularıdır.
- D) Ülkemizin en güzel tatil yerleri Kapadokya ve Göller Yöresi'dir.

4) Aşağıdakilerden hangisinde bir yazım yanlışı yoktur?

- A) Senin için herşeyi yapabilirim.
- B) Bu akşam Ahmet'lerde toplanacağız.
- C) Sen de benim gibi yalnızdın.
- D) Beni bir saat bekliyeceksin.

"Oyun, çocukların ruhi eğitiminde önemli bir yer tutar ve gelişmelerini sağlar. Oyundan ve oyuncaklardan mahrum bazı çocukların, gelecekte asık yüzlü, somurtkan ve çekilmez kişiler oldukları görülmüştür. Oyunlar, aşırı olmadığı sürece çocuklar için vazgeçilmez eğlence kaynaklarıdır."

5) Parçada asıl vurgulanmak istenen nedir?

- A) Oyun ve oyuncaktan uzak bütün çocukların somurtkan olduğu
- B) Çocuğun, hayatı bir oyuncak gibi gördüğü
- C) Her türlü oyunun çocuklar için önemli olduğu
- D) Oyun ve oyuncuğun, çocuğun ruhsal gelişimi için gerekli olduğu

Tanık olmadığımız bir olayla ilgili ne söyleyeceğimizi iki kere düşünmek gerekir. Aksi takdirde \_\_\_ummadığımız tepkilere yol açabilir. Bu tepkiler \_\_\_hatta daha vahim sonuçlarla karşı karşıya kalmamıza da sebep olabilir.

6) Bu metinde boş bırakılan yerlere sırasıyla aşağıdaki deyimlerden hangileri getirilmelidir?


- A) ulu orta konuşmak - başımızı derde sokabilir.
- B) lafı ağzında gevelemek - oku yaydan çıkarabilir
- C) çamur atmak - yelkenleri suya indirebilir
- D) yabana atmak - süt dökmüş kediye dönebilir.

**6. SINIF ÖĞRENCİ SEÇME SINAVI**

26/03/2022

Sözcüğün anlamını değiştiren eklere yapım eki denir. Küçük baykuşun kanatları kırmızı ve **güçlü** değildi. Keşke bir **arkadaşı** olsaydı, onunla ne çok oyun oynardı. Belki uçmasına yardım ederdi. Rüzgârlı bir gecede üzgün **üzgün** otururken bir çıtırtı duyuldu. Küçük bir fareydi bu. Küçük **baykuş** ile farenin dostluğuna dönüşen hikâye o an başladı.

7) Altı çizili sözcüklerden biri yapım eki almamıştır. Buna göre yapım eki almayan sözcüğe ait görsel aşğıdakilerden hangisidir?



Mamut, filgiller familyasının nesli tükenmiş bir cinsi. Nesli tükenmeden önce Kuzey Amerika, Avrupa, Asya ve Afrika'da birçok farklı türleri ile yayılım göstermiştir. 4,5 m boy ve 8 ton ağırlığa kadar varan bu cinsin son üyeleri MÖ 1700 yılında yaşamıştır.

8) Bu metinden aşağıdakilerden hangisi kesin olarak çıkarılabilir?

- A) Son mamut üyeleri MÖ 1700 yılından önce hayatlarını kaybetmiştir.
- B) Her mamut ortalama 4,5 m boy ve 8 ton ağırlığına sahiptir.
- C) Mamutların neslinin tükenmesine insanların bilinçsiz avlanması sebep olmuştur.
- D) Mamutlar yaşadıkları dönemde dünyanın birçok kıtasına dağılmışlardır.

## 6. SINIF ÖĞRENCİ SEÇME SINAVI

26/03/2022



Ağaçkakan, ağaç kabuklarını gagasıyla delerek kabukların altındaki böcek ve tırtılları avlayan bir kuş türüdür. Gagası son derece sivri ve ayakları dört parmaklı olan ağaçkakanlar, keskin tırnakları sayesinde ağaçlara çok iyi tutunabilmektedir. Ağaçkakanlar ağaçların kabuklarını oyarken kuyruklarından destek alarak dengelerini sağlamaktadır. Ağaç üzerinde kısa ve ani sıçramalarla kolayca hareket edebilir. Ağaçkakanlar son derece ürkek kuşlar olduklarından çok çabuk kaçabilmektedir. Genellikle ormanların tenha yerlerini ve parkları tercih eder. Yuvalarını da oydukları ağaç kovuklarına yapar. Ağaçkakanların kafatasları son derece güçlü olmaktadır. Bu sayede ağaç kabuklarını delerken oluşan sarsıntıdan beyinleri korunmaktadır. Ağaçkakanlar kabuklara vurduklarında aldıkları sese göre böcek ve tırtılların yerini tespit edebilmektedir. Ağaçkakanlar kabuklarda açtıkları deliklerden solucan gibi uzun olan dillerini uzatarak böcekleri yiyebilmektedir. Ağaçkakanların bu yaptıkları ağaçların kurumasına neden olduğundan birçok çiftçi tarafından kovalanan kuşlar olmaktadır. Ağaçkakanlar ilkbahar mevsiminde ağaçların kabuklarını odun kısmına kadar daire şeklinde oyarak böcekleri çıkarmaktadır. Ağaçkakanlar sadece böcek ve tırtılları değil aynı zamanda ceviz, badem gibi sert kabuklu ve iri taneli yemişleri de yemektedir. Bu yemişleri ağaçların çatlaklarına sıkıştırıp sonra da içlerini yiyerek kabukları o çatlaklarda bırakmaktadır.

(9, 10,11.soruları parçaya göre cevaplayınız)

9) Bu parçada ağaçkakanlarla ilgili olarak aşağıdakilerden hangisine değinilmemiştir?

- A) Yaşam sürelerine
- B) Fiziksel özelliklerine
- C) Avlanma biçimlerine
- D) Beslenme şekillerine

10) Parçaya göre ağaçkakanların birçok çiftçi tarafından kovulmasının sebebi aşağıdakilerden hangisidir?

- A) Ağaçların kurumasına sebebiyet vermeleri
- B) Tahıllara zarar vermeleri
- C) Gürültü kirliliği oluşturmaları
- D) Ağaçtaki meyveleri yemeleri

11) Yukarıdaki parçada aşağıdakilerden hangisi kullanılmamıştır?

- A) Benzetme
- B) Tanım
- C) Karşılaştırma
- D) Nesnel yargı

**6. SINIF ÖĞRENCİ SEÇME SINAVI**

**26/03/2022**

Bu gece hava ( ) 5 derece olacak ( ) yer yer buzlanma bekleniyor ( ) Yarın vatandaşların araçları ile trafiğe çıkmamaları ( ) toplu taşıma araçlarını kullanmaları önemle duyurulur ( )

**12. Bu parçada parantezle gösterilen yerlere hangi seçenekte verilen noktalama işaretleri getirilmelidir?**

- A) (:)(.) (...)(.)(.)  
B) (-) (,) (.) (,) (.)  
C) (-)(:)(.) (:)(.)  
D) (-)(.)(.) (,) (...)

**13) Aşağıdakilerden hangisi neden-sonuç cümlesi değildir?**

- A) Bardaklar pis olduğundan kimse kola içemedi.  
B) Uykusu geldiği için filmin tamamını seyredemedi.  
C) Ona selam vermedim çünkü onunla küsüm.  
D) Ev almak için gece gündüz demeden çalışıyordu.

**14) "Işık" sözcüğü aşağıdaki cümlelerin hangisinde mecaz anlamda kullanılmıştır?**

- A) Perdelen aç da içeri biraz ışık girsin.  
B) Benim gözlerim güneş ışığından rahatsız oluyor.  
C) İyileşmek için bir ümit ışığı var.  
D) Bu oda yeterince ışık almıyor

1. Bu grip iki günde geçti çok şükür!  
2. Bu kablo farklı bir borudan geçiyor olmalı.  
3. Sözleriniz tutanaklara olduğu gibi geçti.  
4. Başıma güneş geçti galiba, hiç iyi değilim.

**15) Numaralandırılmış cümlelerde "geçmek" sözcüğünün aşağıdaki anlamlarından hangisine örnek verilmemiştir?**

- A) Bir yandan girip diğer yandan çıkmak  
B) Hastalık bulaşmak, sirayet etmek  
C) Etki yapmak, işlemek  
D) Yazılmak, girmek



6. SINIF ÖĞRENCİ SEÇME SINAVI

26/03/2022

MATEMATİK-

DİKKAT! BU BÖLÜMDE CEVAPLAYACAĞINIZ SORU SAYISI 15'DİR.

Bu bölümdeki sorularla ilgili cevaplarınızı cevap kâğıdınızdaki "MATEMATİK" bölümüne işaretlemeyi unutmayınız.



Ahmet'in aldığı arabanın lira cinsinden fiyatının on binler basamağında 5, binler basamağında 3, diğer basamaklarında 0 vardır.

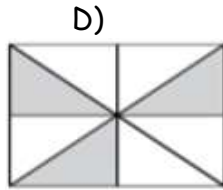
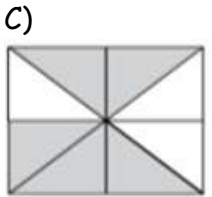
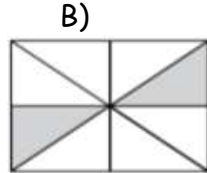
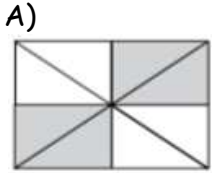
1) Buna göre arabanın fiyatı kaç liradır?

- A) 5 300                      B) 35 000  
C) 53 000                    D) 503 000

2)  $3^3 = a$  ve  $4^2 = b$  olduğuna göre,  
 $a - b$  kaçtır?

- A) 1      B) 6      C) 7      D) 11

3) Aşağıda eş parçalara bölünmüş şekillerin hangisindeki gri boyalı bölgelerin tamamı  $\frac{100}{160}$  kesri ile ifade edilebilir?



**6. SINIF ÖĞRENCİ SEÇME SINAVI**

26/03/2022

4)  $9 \times (1024 \div 64)$  işleminin sonucu aşağıdakilerden hangisidir?

- A) 81      B) 144      C) 169      D) 196

5)



30 kişilik bir sınıfın  $\frac{1}{5}$ 'i matematik,  $\frac{1}{6}$ 'i fen bilgisi,  $\frac{3}{10}$ 'ü İngilizce, geri kalanı ise Türkçe kursuna katılıyor.

Her öğrenci tek bir kursa gittiğine göre Türkçe kursuna katılan öğrenci sayısı kaçtır?

- A) 10      B) 14      C) 19      D) 21

6)



Tatile giden Sevgi bir otelde kalacaktır. Otelin giriş katında 4 oda, 1. kat ve üstündeki her katta ise altışar oda bulunmaktadır.

37. odayı kiralayan Sevgi kaçınıcı kata çıkmalıdır?

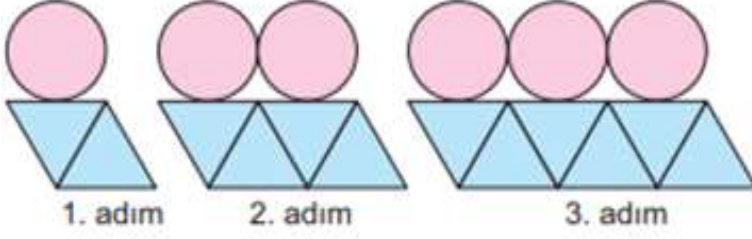
- A) 5.      B) 4.      C) 7.      D) 6.



**6. SINIF ÖĞRENCİ SEÇME SINAVI**

26/03/2022

7)



Verilen şekil örüntüsünün 8. adımındaki daire sayısı ile üçgen sayısının toplamı kaçtır?

- A) 21      B) 22      C) 24      D) 25

8) Küpü 200'den küçük kaç tane doğal sayı vardır?

- A) 6      B) 4      C) 3      D) 2

9) Kütleleri 80 kg olan bir kişi en çok 640 kg yük taşıyabilen bir asansöre her birinin kütlesi 50 kg olan kolilerden en çok kaç tanesi ile birlikte binebilir?

- A) 9      B) 10      C) 11      D) 12

6. SINIF ÖĞRENCİ SEÇME SINAVI

26/03/2022

10)  $\frac{2}{5}$ 'si 60 olan sayı kaçtır?

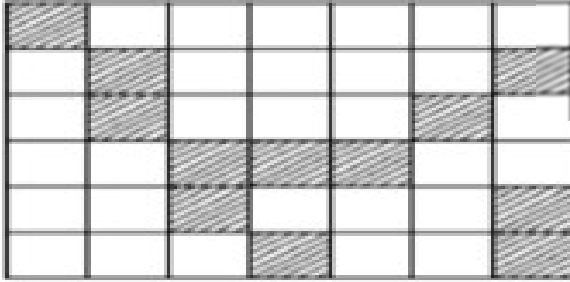
- A) 24      B) 30      C) 150      D) 180

11)

$$5 < \frac{\square}{8}$$

Yukarıdaki karşılaştırmaya göre,  $\square$  yerine yazılabilecek en küçük doğal sayı kaçtır?

- A) 39      B) 41      C) 43      D) 45



12) Verilen şekilde taralı kısmın ifade ettiği kesre denk olan kesir aşağıdakilerden hangisidir?

- A)  $\frac{13}{42}$       B)  $\frac{2}{7}$       C)  $\frac{12}{35}$       D)  $\frac{2}{5}$

**6. SINIF ÖĞRENCİ SEÇME SINAVI**

26/03/2022

13) Ocak ayı sonunda kumbarasında 16 lira bulunan Nehir, şubat ayından itibaren her ay sonunda kumbarasına, o anda kumbarasında var olan paranın yarısı kadar para atacaktır.

Buna göre Mayıs ayı sonunda Nehir'in kumbarasında kaç lira birikir?

- A) 81    B) 72    C) 64    D) 87

		1	4	▲
x		■	6	
<hr/>				
		8	8	8
+	2	9	6	
<hr/>				
	●	8	4	8

14) Yukarıda verilen çarpma işlemine göre, “▲ + ■ + ●” toplamı kaçtır?

- A) 12    B) 13    C) 14    D) 15

15)  $\frac{36}{63}$  kesri, aşağıdakilerden hangisine denktir?

- A)  $\frac{8}{15}$     B)  $\frac{18}{21}$     C)  $\frac{20}{32}$     D)  $\frac{16}{28}$

## 6. SINIF ÖĞRENCİ SEÇME SINAVI

26/03/2022

### -SOSYAL BİLGİLER-

DİKKAT! BU BÖLÜMDE CEVAPLAYACAĞINIZ SORU SAYISI 10'DUR.

Bu bölümdeki sorularla ilgili cevaplarınızı cevap kâğıdınızdaki "**SOSYAL BİLGİLER**" bölümüne işaretlemeyi unutmayınız.



**Çocuk Haklarına Dair Sözleşmeden Bazı Maddeler şöyledir:**

- I. Her çocuk düşüncesini özgürce açıklama hakkına sahiptir.
- II. Her çocuğun iyi beslenme, sıcak bir yuvaya ve bir aileye sahip olma hakkı vardır.
- III. Her çocuk doğumdan itibaren isim ve vatandaşlık hakkına sahiptir.

**1) Bu maddelere göre, seçeneklerdeki ifadelerden hangisi doğrudur?**

- A) Çocuk Hakları Sözleşmesi sadece ülkemiz çocukları için geçerlidir.
- B) Çocuklar kendilerini ilgilendiren konularda fikirleri dile getirebilirler.
- C) Çocuklar anne-babalarına istedikleri her şeyi yaptırma hakkına sahiptir.
- D) Her çocuk ailesinin geçimine katlı sağlamak zorundadır.

## 6. SINIF ÖĞRENCİ SEÇME SINAVI

26/03/2022



### ÇANAKKALE'DE BİR KÖY KARANTİNAYA ALINDI

Çanakkale'nin Çan ilçesine bağlı Maltepe köyü karantina altına alındı. Konuya ilişkin Çan Kaymakamlığı'ndan yapılan yazılı açıklamada, "Ülke genelinde alınan tedbirler sebebiyle, Çan ilçemizde korona virüsü ile mücadele kapsamında İlçe Hıfzıssıhha Kurulu 29.03.2020 saat 18.00 da Çan Kaymakamlığı Toplantı Salonunda toplanarak salgınla mücadelede alınacak tedbirler kapsamında bulaşın önlenmesi sağlamak ve halk sağlığını korumak amacıyla bugün saat 22.00'den itibaren Maltepe köyümüz 14 gün süre ile karantinaya alınmıştır. Kamuoyuna duyurulur" ifadesine yer verildi. Maltepe köyünün giriş ve çıkışını tutan jandarma ekipleri, vatandaşların geçişlerine izin vermiyor. Köydeki insanların ihtiyaçlarını yakınları jandarma ekiplerine bırakıyorlar.

Kaynak: <https://www.sabah.com.tr/gundem/2020/03/29/son-dakika-canakkalede-maltepe-koyu-corona-virus-nedeniyle-karantinaya-alindi>

İnternet haber

2) Elif'in okuduğu gazete haberinin içeriği ile Sosyal Bilgiler öğrenmenin faydaları arasındaki ilişkiye bakıldığında, aşağıdaki seçeneklerden hangisi yanlış bir ifade olur?

- A) Ülkemizi ve dünyamızı ilgilendiren konularda duyarlı ve bilinçli birey olmamızı öğretir.
- B) Birey, toplum ve devlet arasındaki ilişkiyi ve düzenlemeleri anlamamızı sağlar.
- C) Olaylara daha geniş ve farklı açılardan bakabilmemizi sağlar.
- D) Toplum içerisinde yaşarken sahip olduğumuz hak ve özgürlüklerin sınırsız olduğunu anlamamızı sağlar.



Kültürel zenginliklerden bir de halk oyunlarımızdır. Ülkemizin her yöresinin kendine özgü bir halk oyunu bulunmaktadır.

3) Aşağıda verilen halk oyunu ve il eşleştirmelerinden hangisi yanlıştır?

- A) Horon - Trabzon
- B) Zeybek - Aydın
- C) Kaşık - Konya
- D) Halay - Rize

**6. SINIF ÖĞRENCİ SEÇME SINAVI**

26/03/2022

**ALİ**

Kızılırmak çevresinde kurulan bu uygarlık, kral tarafından yönetilirdi. Devlet yönetiminde krala soylulardan oluşan Pankuş meclisi yardımcı olurdu. Anal adı verilen yıllıklar tutarak krallarına hesap verilerdi.

**YASİN**

Başkentleri Gordion'dur. Devleti kral yönetirdi ve krallarına Midas Unvanını verilerdi. Kralların Tümüls adı verilen mezarlara gömerlerdi. Tarıma önem verilerdi.

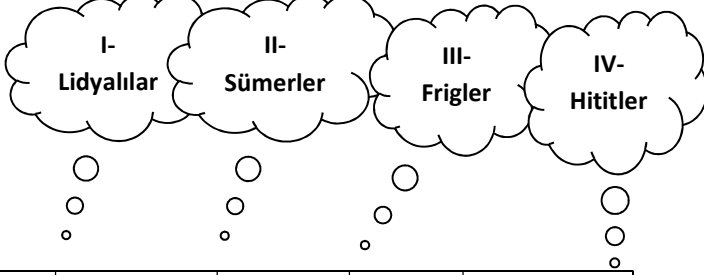
**FATMA**

Batı Anadolu'da Sard şehrinde kurulmuştur. Kral yolunu yapmışlardır. Ticareti kolaylaştırmak için parayı icat etmişlerdir..

**BUKET**

Site adı verilen şehir devletleri şeklinde yaşamışlardır. Çok tanrılı dine inanırlar ve Ziggurat adı verilen çok katlı tapınaklar inşa etmişlerdir. Yazıyı bulmuşlar ve astronomi ile ilgilenmişlerdir.



4) Öğrencilerin verdiği bilgiler ile bulutların içinde yazılı olan uygarlıkların doğru eşleştirmesi aşağıdaki seçeneklerden hangisidir?



	I	II	III	IV
A	Buket	Fatma	Yasin	Ali
B	Fatma	Yasin	Ali	Buket
C	Fatma	Buket	Yasin	Ali
D	Ali	Yasin	Buket	Fatma

Umut, yaz tatilinde ülkemizin doğa harikalarından olan ve yerli/yabancı birçok turistin görmek için geldiği bir yere gitmiştir.

5) Buna göre Umut'un gittiği yer aşağıdakilerden hangisidir?

 A) Efes Antik kenti	 C) Pamukkale
 B) Topkapı	 D) İshakpaşa sarayı

6. SINIF ÖĞRENCİ SEÇME SINAVI

26/03/2022



6) Yukarıda verilenlerden hangileri el sanatları arasında yer alır?

- A) 1 ve 2                      B) 1 ve 3  
C) 1, 2 ve 3                 D) 1, 2, 3 ve 4

Aşağıdaki diyagramda bir uygarlığa ait özellikler verilmiştir.



7) Diyagram 'da soru işareti yerine, seçeneklerde verilen uygarlıklardan hangisi yazılmalıdır?

- A) Frigler                      B) İyonlar                      C) Hititler                      D) Sümerler



**6. SINIF ÖĞRENCİ SEÇME SINAVI**

**26/03/2022**



Buket öğretmen öğrencilere; Gediz Ovası, Konya ovası ve Muş ovasının, Türkiye fiziki haritasında farklı renklerle gösterilmesinin nedeni nedir? diye bir soru yöneltir.

**8) Buket Öğretmenin sorduğu sorunun cevabı aşağıdakilerden hangisidir?**

- A) İklim tiplerinin farklı olması
- B) Buldukları coğrafi bölgelerin farklı olması,
- C) Bitki örtülerinin farklı olması
- D) Buldukları yükseltilerinin farklı olması

- I. Çevresine göre yüksekte kalan, akarsular tarafından parçalanmış geniş ve engebeli alanlardır.
- II. Akarsuların yatağını aşındırarak oluşturduğu yeryüzü şeklidir.
- III. Kara parçalarının denizin içine doğru uzanmış bölümlerine denir.

**9) Numaralandırılmış olarak verilen özellikler ile yeryüzü şekillerinin doğru eşleştirmesi aşağıdakilerden hangisidir?**

	<u>I</u>	<u>II</u>	<u>III</u>
A)	Ova	Vadi	Körfez
B)	Plato	Vadi	Burun
C)	Plato	Akarsu	Burun
D)	Ova	Vadi	Ada

**Ziya Öğretmen:** Karadeniz ikliminin özellikleri nelerdir?

**Eymen:** Her mevsim yağışlıdır.

**Nisa:** Bitki örtüsü genellikle ormandır.

**Yaren:** Evlerin yapı malzemesi topraktır.

**Okan:** Çay, fındık, mısır gibi tarım ürünleri yetiştirilir.

**10) Ziya Öğretmenin sorusuna hangi öğrenci yanlış cevap vermiştir?**

- A) Eymen
- B) Yaren
- C) Nisa
- D) Okan

## 6. SINIF ÖĞRENCİ SEÇME SINAVI

26/03/2022

### -FEN BİLİMLERİ-

**DİKKAT! BU BÖLÜMDE CEVAPLAYACAĞINIZ SORU SAYISI 15'TİR.**

Bu bölümdeki sorularla ilgili cevaplarınızı cevap kâğıdınızdaki **"FEN BİLİMLERİ"** bölümüne işaretlemeyi unutmayınız.

1) Güneş ve yapısı ile ilgili aşağıdaki ifadelerden hangileri doğrudur?

- I. Katmanlardan oluşur.
- II. Yüzeyinde bazen güneş patlamaları meydana gelir.
- III. Helyum, hidrojen ve oksijen gibi maddeler içerir.

- A) Yalnız I      B) I ve II  
C) I ve III      D) I, II ve III



Gökyüzüne baktığımızda Güneş'i ve Ay'ı hemen hemen aynı büyüklükte görürüz.

2) Buna göre Aşağıdaki değerlendirmelerden hangisi doğrudur?

- A) Güneş'in Dünya'ya uzaklığı, Ay'ın Dünya'ya olan uzaklığından fazladır.
- B) Güneş ve Ay gerçekte eşit büyüklüktedir.
- C) Ay, Güneş'ten büyüktür.
- D) Güneş ve Ay ışık kaynağıdır.

"Bugüne kadar bilim insanları milyonlarca canlı türü tespit etmişlerdir. Hala da yeni türler bulunmaya devam ediyor. Eğer canlıları sistematik bir sınıflandırmaya koymasalardı canlıları birbirinden ayırmak kolay olmazdı."

3) Bilim insanları bu sınıflandırmayı canlıların hangi özelliklerini dikkate alarak yapmışlardır?

- A) Yaşadıkları bölgeye göre
- B) Beslenme alanlarına göre
- C) Sayılarına göre
- D) Benzerlik ve farklılıklarına göre

## 6. SINIF ÖĞRENCİ SEÇME SINAVI

26/03/2022



4) Görselde araştırmacının kullandığı aletle ilgili aşağıdaki bilgilerden hangisi yanlıştır?

- A) Çıplak gözle göremeyecek kadar küçük cisimleri görmemizi sağlar.
- B) Büyüteçten daha fazla büyütür.
- C) Bu aletle çalışırken güvenlik ve temizliğe dikkat etmemize gerek yoktur.
- D) Yapısında mercekler kullanılır.

5) Aşağıdakilerden hangisi Ay'ın iki Hilal evresi arasında kalan evredir?

- A) İlk Dördün
- B) Dolunay
- C) Son Dördün
- D) Yeni Ay

6) Bitkinin kısımlarının hangisinde meyve ve tohum üretimi gerçekleşir?

- A) Kabuk
- B) Yaprak
- C) Çiçek
- D) Kök

7) Ekmek üzerinde oluşan mantar türü aşağıda verilenlerden hangisidir?

- A) Maya mantarı
- B) Küf mantarı
- C) Şapkalı mantar
- D) Parazit mantar



Yukarıdaki düzenekleri özdeş arabalar ile kuran Ali, bir oyuncak arabayı eğik düzlemlerin en üst noktasından serbest bırakıyor ve gözlemliyor. Gözlemleri sonucunda arabanın en fazla yolu 1. Düzenekte en az yolu ise 3. Düzenekte aldığını ölçüyor.

8) Buna göre aşağıdaki ifadelerden hangisine ulaşamaz?

- A) 1.zeminde araba daha kolay hareket eder.
- B) Bu düzenek ağırlığın sürtünmeye etkisini araştırmak için uygundur.
- C) Arabanın temas ettiği zeminler hareketi zorlaştırabilir.
- D) En fazla sürtünme kuvveti 3. düzenektedir.

**6. SINIF ÖĞRENCİ SEÇME SINAVI**

26/03/2022

9) Aşağıdakilerden hangisi kuvvetin birimidir?


- A) Litre      B) Gram  
C) Newton    D) Metre



10) Yukarıdaki dinamometre ile ilgili aşağıdaki bilgilerden hangileri doğrudur?

- I. Yapısında esnek yay bulunur.  
II. 30 Newton ağırlığındaki cisimlerin ölçümü yapılabilir.  
III. Kuvvet ölçmek için kullanılır.

- A) Yalnız I      B) I ve II  
C) I ve III      D) I, II ve III



11) Yukarıda Ayın evreleri karışık olarak verilmiştir. Bu evrelerin Yeni Aydan başlayarak meydana gelme sırasına göre dizilişi nasıl olmalıdır?

- A) 2-1-4-3      B) 2-3-4-1  
C) 4-1-2-3      D) 1-2-3-4

**6. SINIF ÖĞRENCİ SEÇME SINAVI**

**26/03/2022**

**12) Aşağıdaki ifadelerden hangisi yanlıştır?**

- A) Havaya atılan her cisim yer çekimi kuvveti etkisiyle yere düşer.
- B) Karlı havalarda arabanın tekerlerine takılan zincir sürtünmeyi arttırmak için yapılır.
- C) Kuvvet cisimlerde şekil değişikliği yapabilir.
- D) Sürtünme kuvvetinin yönü hareket yönü ile aynı yöndedir.

**13) Ali evdeki malzemelerle Dinamometre yapmaya kara vermiştir. Buna göre Ali dinamometre yapımında aşağıdakilerden hangisini kullanabilir?**

- A) Lastik B) Silgi C) Tahta D) Kumaş

**14) Sürtünme kuvveti ile ilgili aşağıdaki örneklerden hangisi diğerlerinden farklıdır?**

- A) Paraşütçünün paraşütü açması
- B) Uçakların uç kısmının sivri olması
- C) Kar botlarının tabanlarının tırtıklı olması
- D) Merdivenlere kaydırmaz bant yapıştırılması

**15) Aşağıdaki olayların hangisinde sürtünme kuvvetinin etkisi en azdır?**

- A) Kayak ile kayan kayakçıda.
- B) Fren yapan otomobilde.
- C) Kumda yuvarlanan topta.
- D) Çakıllı yüzeyde çekilen bavulda

*Fen Bilimleri soruları bitmiştir. Cevaplarınızı kontrol ederek Din Kültürü sorularına geçebilirsiniz.*

## 6. SINIF ÖĞRENCİ SEÇME SINAVI

26/03/2022

### -DİN KÜLTÜRÜ VE AHLAK BİLGİSİ-

**DİKKAT! BU BÖLÜMDE CEVAPLAYACAĞINIZ SORU SAYISI 10'DUR.**

Bu bölümdeki sorularla ilgili cevaplarınızı cevap kâğıdınızdaki **"DİN KÜLTÜRÜ VE AHLAK BİLGİSİ"** bölümüne işaretlemeyi unutmayınız.

"Dünya üzerinde yaşayan canlılar kendi aralarında bir uyum içerisindedir. İnsanların ve diğer canlıların bedenleri kendi içinde bir mükemmellik taşır. En küçüğünden en büyüğüne kadar tüm canlılar Allah'ın (c.c.) yaratmasıyla hayat bulmuştur. Tüm varlıklar belli bir amaç doğrultusunda yaratılmıştır. Bir canlı rahat bir şekilde hayatını devam ettirebilmek için diğer canlılara ihtiyaç duyar. Örneğin, bizler beslenme ihtiyacımızı bitki ve hayvanlardan karşılarız. Su ve hava da canlılar için vazgeçilmez ihtiyaçlardır. Yağmurun yağmadığını, su kaynaklarımızın tükendiğini düşündüğümüzde yaşamımızı devam ettirmek imkânsızdır. O halde Allah'ın (c.c.) yarattığı her şey ve verdiği tüm nimetler, hayatımızı sürdürebilmemiz içindir. Tüm bunlar Allah'ın (c.c.) evrende yarattığı düzen sayesinde." "

1) Metni destekleyen cümle aşağıdakilerden hangisidir?

- A) Bütün canlıların beslenme ihtiyacı vardır.
- B) Her şey kendiliğinden yaratılmıştır.
- C) Peygamberler, yeryüzünde dinin temsilcisidir.
- D) Allah evreni en mükemmel şekilde yaratmıştır.

"Eğer yerde ve gökte Allah'tan başka ilahlar olsaydı kesinlikle ikisinin de düzeni bozulurdu..." "

2- Ayeti desteklemeyen cümle aşağıdakilerden hangisidir?

- A) Sınıf başkanı iki kişi olursa daha iyi olur.
- B) Bir sınıfta bir başkan olursa daha iyi olur.
- C) Bir arı kovanında lider arı tektir.
- D) Bir koyun sürüsünün çobanı bir kişi olmalıdır.

"Ektiğiniz tohumu düşündünüz mü?

Onu siz mi bitiriyorsunuz yoksa biz miyiz bitiren? Dileseydik onu kuru bir çöpe çevirirdik de şaşırır kalırdınız. İçtiğiniz suyu düşündünüz mü? Onu buluttan siz mi indirdiniz yoksa biz miyiz indiren? Dileseydik onu tuzlu yapardık. Şükretmeniz gerekmez mi? Tutuşturmakta olduğunuz ateşi düşündünüz mü? Onun ağacını siz mi yarattınız yoksa yaratan biz miyiz?"

(Vâkıa / 63-72)

3) Yukarıdaki ayetler, aşağıdakilerden hangisine işaret etmektedir?

- A) Allah, işitendir. B) Allah, yaratandır.
- C) Allah, görendir. D) Allah, bilendir.

**6. SINIF ÖĞRENCİ SEÇME SINAVI**

**26/03/2022**

“Bir anne kaybolan çocuğunu telaşla aramaktadır. Ararken her bulduğu çocuğu kendi çocuğu zannederek bağrına basıp emzirmeye çalışmaktadır. Bu annenin durumunu arkadaşlarına anlatan Hz. Muhammed (s.a.v.) “Bu kadının çocuğunu ateşe atabileceğini düşünebilir misiniz? İşte Allah’ın kullarına merhameti bu annenin yavrusuna duyduğundan çok daha fazladır.” diyerek Allah’ın (c.c.) merhametinin ne kadar çok olduğunu vurgulamıştır.”

**4) Bu olay da altı çizili kelime ile aşağıdaki, Allah’ın hangi ismine dikkat çekilmektedir?**

- A) Mucib ismine vurgu yapılmıştır.
- B) Rahman ismine vurgu yapılmıştır.
- C) Rahim ismine vurgu yapılmıştır.
- D) Garib ismine vurgu yapılmıştır.

- \* Allah’ın her şeyi bilmesine .....denir.
- \* Allah’ın her şeyi işitmesine .....denir.
- \* Allah’ın her şeyi görmesine .....denir.

**5) Yukarıdaki boşlukları sırasıyla doldurmak isterseniz, aşağıdaki hangi şık doğru olur?**

- A) Semi- Basar- İlim
- B) İlim- Semi- Basar
- C) Basar- Semi- İlim
- D) Semi- İlim- Basar

**6) Arkadaşımızın bir eşyasını izin alarak kullanmak, bize söylenen bir sırrı korumak, sosyal medyada bir fotoğraf paylaşmadan önce o fotoğrafta yer alan kişilerden izin istemek aşağıdaki şıklardan hangisinin önemini gösterir?**

- A) Kişi mahremiyetinin önemini gösterir.
- B) Aile mahremiyetinin önemini gösterir.
- C) Selamlaşma adabının önemini gösterir.
- D) Yemek adabının önemini gösterir.

**7- Aşağıdakilerden hangisi internetin zararlı durumlarından birisi değildir?**

- A) Ali arkadaşı ile sanal ortamda sohbet ederken sınıftaki arkadaşlarının dedikodusunu yapmıştır.
- B) Elif, hiç tanımadığı kişilerle sohbet etmiştir.
- C) İnternetteki her bilginin doğru olmadığını bilen Ayşe, orada okuduklarını önce ailesine sorup sonra doğrusunu öğrenmiştir.
- D) Zeynep’in sosyal medya hesabında hiç tanımadığı binlerce takipçisi vardır. Zeynep onlar için her gün kendi fotoğraflarını paylaşmaktadır.



**6. SINIF ÖĞRENCİ SEÇME SINAVI**

**26/03/2022**



Ramazan'ın coşkulu ve farklı manevi havası çocukları kendisine çeker. Onlar da oruç tutmak isterler. Oysa yaşları çok küçük olduğu için henüz oruç tutmak onlara farz değildir. Ama çocuklar büyüdüklerini göstermek için oruç tutmaya hevesli olurlar. Çocuklar Ramazan'ın coşkusundan mahrum kalmasınlar diye bir alıştırmaya orucu tutarlar.

**8) Bu oruca geleneğimizde ne ad verilir?**

- A) Gemi orucu      B) Vapur orucu  
C) Tekne orucu      D) Sandal orucu

**9-“Ey Rabb’imiz! Hesabın görüleceği günde beni, anne babamı ve bütün müminleri bağışla.”  
Yukarıda bir kısmının anlamı verilen dua aşağıdakilerden hangisidir?**

- A) Tahiyat Duası  
B) Rabbena Duası  
C) Salavat Duası  
D) Sübhaneke Duası

**10) İbrahim peygamberin inancına ne isim verilir?**

- A) Mecusilik      B) Zerdüştlük  
C) Hıristiyanlık      D) Haniflik

*Din Kültürü soruları bitmiştir. Cevaplarınızı kontrol ederek İngilizce sorularına geçebilirsiniz.*

## 6. SINIF ÖĞRENCİ SEÇME SINAVI

26/03/2022

### -İNGİLİZCE-

DİKKAT! BU BÖLÜMDE CEVAPLAYACAĞINIZ SORU SAYISI 10'DUR.

Bu bölümdeki sorularla ilgili cevaplarınızı cevap kâğıdınızdaki **"İNGİLİZCE"** bölümüne işaretlemeyi unutmayınız.

- 1) Sophia : When do you get up early?  
Olivia : I get up early - - - .

A) at seven o'clock    B) on Saturday    C) and wash my face    D) but stay in the bed

2) I am good at .....I love English.

- A) learning languages.  
B) using the computer  
C) doing experiments  
D) solving the problems

My name is Ayşe.I'm from Türkiye.I'm in science class now.We do experiments with our teacher.After science class,We have double English.I love language classes.I speak three languages.They are Japanese ,French and German.I also like art class.I draw pictures.My brother ,Ali is in the same class with me.He dislikes language classes.He loves P.E and music classes.His voice is very good.He can sing songs.

3-4 soruları yukarıdaki parçaya göre cevaplayınız.

3)

Ayşe says.....

- A) his brother can draw pictures.  
B) Ali can't sing songs.  
C) Ali also loves language classes.  
D) his brother's voice is very good.

4)

It is TRUE that.....

- A) Ayşe is in maths class now.  
B) Ayşe loves language classes.  
C) Ali isn't in the same class with Ayşe.  
D) Ayşe and Ali don't like each other.

## 6. SINIF ÖĞRENCİ SEÇME SINAVI

26/03/2022



"I'm Ela and fourteen years old.I  
can sing songs,but I can't dance.I like  
going camping and hiking.I dislike  
playing chess and Chinese whispers."

5)

According to the speech, Ela.....

- A) likes outdoor activities
- B) can't sing songs
- C) can dance well
- D) hates camping and hiking.

Tina:Hello,Julia!How are you today?

Julia:I'm fine,thanks.And you?

Tina:Fine.....?

Julia:Her name is Tülin.

Tina:.....?

Julia:She is from Japan.

Tina:.....?

Julia:Three.Japanese,English and Spanish.

6)

Which question does Tina NOT ask Julia?

- A) What is your friend's name?
- B) Where is she from?
- C) Where does she study?
- D) How many languages does she speak?

I.Thank you.

II.Yes,a museum.

III.You're welcome.

IV.Excuse me,is there a museum near here?

V. A museum?

VI:Well,Turn left on Black Street.It is next to post Office.

7) Put the sentence in the correct order.

- A) IV-V-II-VI-I-III
- B) IV-V-II-I-IV-III
- C) III-V-II-VI-I-III
- D) III-II-V-VI-IV-I

**6. SINIF ÖĞRENCİ SEÇME SINAVI**

**26/03/2022**

8)

Julia goes to .....every morning.Today,she has language classes,maths and science.

- A) shopping malls      B) hospital  
C) cafe                      D) school.

9)

Defne:Excuse me?.....?

Meliha:Look over there.It's opposite the pharmacy.

- A) Is there a shoe shop near here?  
B) Where do you go in the afternoon?  
C) What do you do in the evenings?  
D) Do you visit the museum?

10)

Cindy:.....?

Selena:No,I don't.My hobby is camping.

Which of the following completes the dialogue?

- A) When is your dance class?  
B) Can you play tennis?  
C) What do you do in your free time?  
D) Do you like collecting stamps?