

PROF. DR. ÖMER DİNÇER KIZ ANADOLU İMAM HATİP LİSESİ

İMAM HATİP ORTAOKULU

FEN VE SOSYAL BİLİMLER PROJE OKULU

SINAVLA ÖĞRENCİ ALACAK  
İMAM HATİP ORTAOKULU  
2022-2023 EĞİTİM ÖĞRETİM YILI

**5. SINIF**

SEÇME SINAVI SORULARI

Bu kitapçık bu eğitim öğretim yılında 4. sınıfta olan öğrenci için hazırlanmıştır.

**ÖĞRENCİ SINAV BİLGİLERİ**

SINAV SALON NO	:	...
SINAV SIRA NO	:	...
TC KİMLİK NO	:	.....
ADI VE SOYADI	:	.....
ÖĞRENCİ İMZASI	:	.....

**Bu kitapçıkta;**

. Türkçe	: 15 Soru
. Matematik	: 15 Soru
. Sosyal Bilgiler	: 10 Soru
Fen Bilimleri	: 15 Soru
, Din K. ve Ah Bilgisi	: 10 Soru
. İngilizce	: 10 Soru
<b>Toplam</b>	<b>: 75 Soru</b>

**Sınav Başlama Saati : 14.00**

**Sınav Bitiş Saati : 16.00**

**Sınav Kuralları ve Açıklamalar**

- 1-Bu testte her bir soru için bir tek doğru cevap vardır. Optik formda birden fazla seçeneği işaretlemeyiniz.
- 2-Soruların cevaplarını optik form cevap kağıdında ilgili yere kodlamayı unutmayınız.
- 3-Cevap kağıdı olan optik form sizin adınıza kodlanmış şekilde hazırlanmış olup **cevap kağıdının size ait olup olmadığını kontrol ediniz. Cevap kağıdında adınız, soyadınız ve TC kimlik numaranız kodlanmış şekildedir.**
- 4-**Yanlış cevaplar doğru cevabınızı etkilemeyecektir. Bu nedenle optik formda boş seçenek soru bırakmayınız.**
- 5-Sınavın başlama saatinden 15 dakika sonrası olan 14.15 den sonra gelen öğrenci sınava alınmayacaktır. Öğrenciler sınavdan ilk 40 dakika ve son 15 dakika dışarı çıkarılmayacaktır.
- 6- Sınav esnasında tuvalet ihtiyacı olan öğrenciler gözetmen eşliğinde gidebilirler.
- 7- Sınavdan sonra sınav evrakları, sınav giriş belgesi öğrenciye teslim edilmez.
- 8- Sınav süresi 120 dakikadır. Salgın nedeniyle maske-mesafe-hijyen kurallarına dikkat ediniz.
- 9- **Cevap kağıdında üzerindeki kodlamaları kurşun kalemle yapınız.**

**Başarılar**



**SINAV TARİHİ: 26.03.2022 Cumartesi Saat : 14:00**



**-TÜRKÇE-**


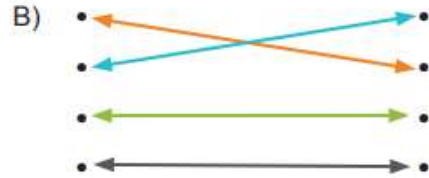
**DİKKAT! BU BÖLÜMDE CEVAPLAYACAĞINIZ SORU SAYISI 15' DIR.**  
Bu bölümdeki sorularla ilgili cevaplarınızı cevap kâğıdınızdaki **"Türkçe"** bölümüne işaretlemeyi unutmayınız.

1-

• Olay
• Dil
• Kılavuz
• Çaba

• Lisan
• Vaka
• Gayret
• Rehber

Yukarıdaki sözcüklerin eş anlamlılarıyla eşleştirilmiş şekli hangisinde verilmiştir?



2- Uzun bir aradan sonra okulumuza dönüyoruz. Halam okul açıldığı için heyecanlı mısın? diye sordu.

**Bu cümlelerdeki hangi ifade tırnak işareti (" ") içine alınmalıdır?**

- A) Uzun bir aradan sonra  
C) Okulumuza dönüyoruz.

- B) Halam okul açıldığı için heyecanlı mısın?  
D) Okul açıldığı için heyecanlı mısın?

3- Halime ( ) ısrarla çalan kapiya doğru hızlı adımlarla yürüdü ( ) Gelen öğretmeni ( )  
( ) Buyurun öğretmenim ( ) dedi Halime ( )

**Bu paragrafta yay ayrıçla boş bırakılan yerlere gelmesi gereken noktalama işaretleri hangi seçenekte verilmiştir?**

- A) (!)(.)(.)(-)(.)(.)  
C) (,)(.)(,)(-)(.)(.)

- B) (,)(.)(.)(-)(,)(.)  
D) (!)(.)(,)(-)(.)(.)



## 5. SINIF ÖĞRENCİ SEÇME SINAVI

26/03/2022



- 4- Türkçede biri ek, diğeri bağlaç olmak üzere iki tür "da/de" vardır. Bunlardan biri bağlaç olan "da/de"dir. Cümleye "bile, dahi" anlamı katan "da/de" bağlacı cümleden çıkarılırsa cümlenin anlamı değişmez. Diğeri ise ek olan "-da/-de"dir. Cümlede bulunma anlamındadır ve cümleden çıkarıldığında cümlenin anlamı bozulur.

Buna göre aşağıdaki cümlelerin hangisinde bağlaç olan "da/de" **yanlış** yazılmıştır?

- A) Oraya bu yoldanda gidiliyor.                      B) Evde tuz kalmamış.  
C) Halam bu okulda öğretmendir.                      D) Aradığın kitabı burada bulabilirsin

- 5- Aşağıdaki cümlelerde geçen altı çizili kelimelerden hangisi gerçek anlamda kullanılmıştır?

- A) Etrafta keskin bir koku vardı.                      B) Dedemin başında şapka vardı.  
C) Onun bu davranışı beni çok kırdı.                      D) Yusuf çok temiz kalpli bir çocuktur.

- 6- Dikenli İnciri Bilir misiniz? Dikenli incir; 5-10 cm uzunluğunda, kırmızı, sarı, turuncu renklerde kabuğu olan, doğada kendiliğinden yetişen bir kaktüs meyvesidir. İçinde tohumları bulunur. Dışı oldukça dikenli olan bu meyvenin, ufak ve ince olan dikenlerini görmek çok zordur. Bu meyve tatlı ve suludur. İçeriğinde bol miktarda C vitamini vardır. Kan yaptığı, yaraları çabuk iyileştirdiği, kas dokusunu güçlendirdiği, stresi azalttığı, yorgunluğa ve cilt hastalıklarına iyi geldiği de bilinmektedir

Yukarıdaki açıklamalara göre "kaktüs" sözcüğünün en genel tanımı aşağıdakilerden hangisidir?

- A) Bir meyvedir.                      B) Bir sebzedir.                      C) Bir tohumdur.                      D) Bir bitkidir.

- 7- Aşağıdaki atasözlerinden hangisi "dayanışma ve yardımlaşma" ile ilgilidir?

- A) Bir elin nesi var, iki elin sesi var.                      B) Denize düşen yılana sarılır.  
C) Mum dibine ışık vermez.                      D) Kaz gelen yerden tavuk esirgenmez.



## 5. SINIF ÖĞRENCİ SEÇME SINAVI

26/03/2022



### TILKI İLE ÜZÜMLER

Çok acıkan bir tilki, asmalarında üzümü bol olan bir bağa girmiş. Üzümler öyle güzel görünüyormuş ki tilkinin ağzının suyu akmış. Sonunda tepedeki bir salkıma göz dikmiş. Tepedeki üzüm salkımlarından yiyebilmek için can havliyle sıçramış da sıçramış, zıplamış da zıplamış ama ne yapsa nafile. Üzüm salkımları çok yukarıdaymış bir türlü yetişememiş. Sonunda pes etmek zorunda kalmış. Üzüm yemekten vazgeçerek kendi kendine mırıldanmış: "Aman! Zaten bu üzümlerin hepsi ekşi görünüyor!"



8- Bu metnin ana fikrini aşağıdaki öğrencilerden hangisi doğru tahmin etmiştir?

- A) Deniz: Tilki aç kalınca üzüm yemeyi planlamış.
- B) Burak: Tilkiler çok kurnaz hayvanlardır.
- C) Nesrin: İnsanlar elde edemedikleri şeyleri kötüler.
- D) Bahar: İsteddiğimiz şeye ulaşamayınca pes etmeliyiz.

9-



Yukarıda renkli toplar içinde yer alan sözcüklerin, sözlükteki diziliş sırası hangi seçenekte verilmiştir?

- A) 2 - 4 - 1 - 5 - 3
- B) 4 - 3 - 2 - 1 - 5
- C) 3 - 5 - 2 - 1 - 4
- D) 5 - 3 - 2 - 4 - 1

23 Nisan sabahı heyecanla yatağımdan kalktım. Tören için kıyafetlerimi giydim. Kahvaltımı yapıp okula geldiğimde arkadaşlarımın da heyecanlı olduğunu gördüm. Arkadaşlarım ve öğretmenimizle birlikte hazırladığımız gösteriyi sergilerken herkes bizi alkışladı. Gösterimizi izlemeye gelen dedemin ve anneannemin yüzündeki gülümsemeyi görmek beni çok mutlu etmişti. Bana "Esra seninle gurur duyuyoruz." dediler.

10-Bu metinde aşağıdaki sorulardan hangisinin cevabı yoktur?

- A) Olay ne zaman gerçekleşmiştir?
- B) Metnin ana kahramanı kimdir?
- C) Olay nerede gerçekleşmiştir?
- D) Tören kaç saat sürmüştür?



## 5. SINIF ÖĞRENCİ SEÇME SINAVI

26/03/2022



11-



Şairin kıskandığı ve imrendiği varlıklar aşağıdakilerin hangisinde sırasıyla verilmiştir?

- A) Ağaç - arı                      B) Masal - pembe                      C) Bahar - çiçek                      D) Yemiş - bal

12- Aşağıdaki cümlelerin hangisinde zıt anlamlı kelimeler bir arada kullanılmıştır?

- A) Eve gelir gelmez ödevlerini yapmaya başladı.  
B) Geç başlamasına rağmen sınavı arkadaşlarından erken bitirdi.  
C) İnsanların güvenini kazanmak istiyorsan dürüst olmalısın.  
D) Derse geç geldiği için öğretmeninden özür diledi.

- I. Ömer ve halası misafirlikten geliyorlar.  
II. Sürekli arkadaşlarının kalbini kırıyor.  
III. Gitarın akordunu bozmuşlar.  
IV. Saklambaç oyununda ilk yanan Talha oluyor.

13- Yukarıdaki cümlelerde geçen altı çizili sözcüklerin anlam özelliği hangi seçenekte sırasıyla verilmiştir?

- | <u>I</u>        | <u>II</u>   | <u>III</u>   | <u>IV</u>    |
|-----------------|-------------|--------------|--------------|
| A) Gerçek Anlam | Mecaz Anlam | Terim Anlam  | Mecaz Anlam  |
| B) Mecaz Anlam  | Mecaz Anlam | Gerçek Anlam | Gerçek Anlam |
| C) Gerçek Anlam | Terim Anlam | Terim Anlam  | Mecaz Anlam  |
| D) Gerçek Anlam | Mecaz Anlam | Mecaz Anlam  | Mecaz Anlam  |



## 5. SINIF ÖĞRENCİ SEÇME SINAVI

26/03/2022



14- Arkadaşları, doğanın yeterince korunmadığına dikkat çekmek amacıyla bir yazı hazırlayan Burçak'ın yazısına başlık önerisinde bulundular.

Burçak'ın, hangi arkadaşının önerdiği başlığı kullanması daha uygun olur?

A) Doğadaki Hayvanlar

B) Hastalıklara Dikkat

C) Geleceğimiz Tehlikede

D) Doğal Beslenmeliyiz



15-(1)Büyük bir heyecan ile beklediği misafirleri nihayet gelmişti. (2)Bütün misafirlerine "Hoş geldiniz." diyerek onları içeri davet etti. (3)İçerisi biraz serin olduğu için misafirlerine birer terlik verdi. (4)Sonra hep beraber oturma odasına geçtiler.

Numaralanmış cümlelerin hangisinde sebep-sonuç ilişkisi vardır?

- A) 1                      B) 2                      C) 3                      D) 4

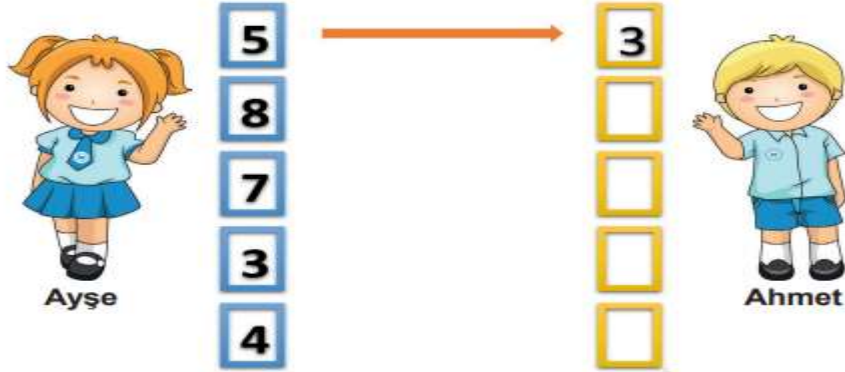
*Türkçe soruları bitmiştir. Cevaplarınızı kontrol ederek  
Matematik sorularına geçebilirsiniz.*



**-MATEMATİK-**

**DİKKAT! BU BÖLÜMDE CEVAPLAYACAĞINIZ SORU SAYISI 15'DİR.**  
Bu bölümdeki sorularla ilgili cevaplarınızı cevap kâğıdınızdaki **"MATEMATİK"** bölümüne işaretlemeyi unutmayınız.

1 -Ayşe ile Ahmet'in kartlarındaki karşılıklı rakamların toplamı 8'dir.



Buna göre Ahmet'in kartlarındaki rakamlar birer kez kullanılarak elde edilebilecek 5 basamaklı en büyük doğal sayı aşağıdakilerden hangisidir?

- A) 30 154      B) 54 310      C) 65 340      D) 87 543

2- Aşağıdaki tabloda bazı illerin 2019 yılındaki nüfusları verilmiştir.

İL	NÜFUS
Erzurum	762 062
Sivas	638 956
Malatya	800 165
Çanakkale	542 157
Bingöl	297 812

Bu illerin nüfuslarına göre büyükten küçüğe doğru sıralanışı aşağıdakilerden hangisidir?

- A) Malatya > Erzurum > Bingöl > Sivas > Çanakkale  
B) Bingöl > Çanakkale > Sivas > Erzurum > Malatya  
C) Erzurum > Sivas > Çanakkale > Malatya > Bingöl  
D) Malatya > Erzurum > Sivas > Çanakkale > Bingöl



## 5. SINIF ÖĞRENCİ SEÇME SINAVI

26/03/2022



3- Aslı Öğretmen, öğrencilerine üzerinde bir doğal sayının ve bu doğal sayı ile ilgili soruların yazılı olduğu bir kart vermiştir.

**7395**

1. En yakın onluğa yuvarlayarak yazınız.  
Cevap: .....

2. En yakın yüzlüğe yuvarlayarak yazınız.  
Cevap: .....

Buna göre öğrencilerin verdiği aşağıdaki cevaplardan hangisi doğrudur?

- |    |           |           |
|----|-----------|-----------|
|    | <u>1.</u> | <u>2.</u> |
| A) | 7390      | 7400      |
| B) | 7390      | 7300      |
| C) | 7400      | 7400      |
| D) | 7400      | 7300      |

4- Aşağıda dört basamaklı iki doğal sayı veriliyor.

1. Doğal Sayı	2. Doğal Sayı
1235	3039

- 1. doğal sayının yüzler basamağındaki rakamın sayı değeri 5 artırılıyor.
- 2. doğal sayının onlar basamağındaki rakamın sayı değeri 2 azaltılıyor.

Buna göre elde edilen doğal sayıların toplamı aşağıdakilerden hangisidir?

- A) 4754                      B) 4322                      C) 4438                      D) 4264





## 5. SINIF ÖĞRENCİ SEÇME SINAVI

26/03/2022

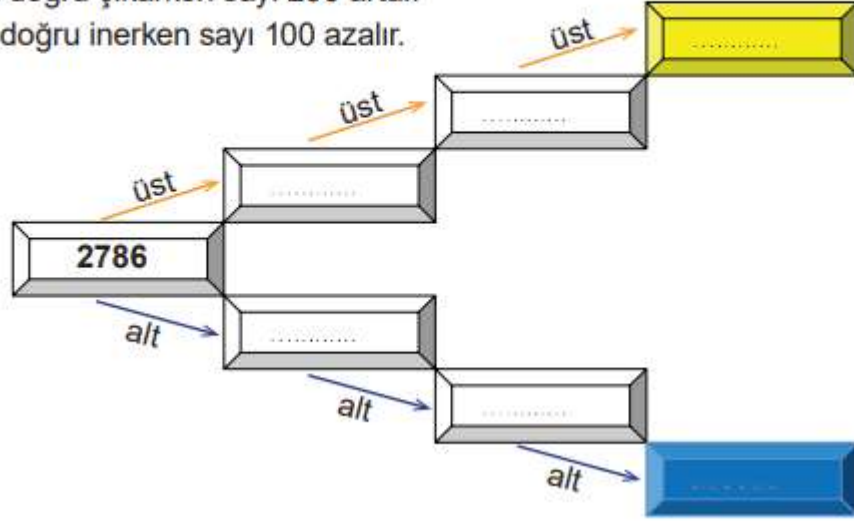


5-Aşağıdaki boş kutulara, verilen kurala göre doğal sayılar yerleştirilecektir.

Kural:

İlk kutudan başlayarak

- bir üst kutuya doğru çıkarken sayı 200 artar.
- bir alt kutuya doğru inerken sayı 100 azalır.



Buna göre mavi ve sarı kutulara yerleştirilecek doğal sayıların, birler bölümündeki rakamların basamak değerleri toplamı kaçtır?

A) 762

B) 772

C) 862

D) 872

6- Ali, fiyatı 6060 TL olan buzdolabının 1500 TL'sini peşin, kalan miktarını ise 6 eşit taksitle ödemeyi planlıyor.

Buna göre Ali'nin ödeyeceği bir taksit tutarı kaç liradır?

A) 760

B) 810

C) 960

D) 1010

7- Bir bölme işleminde bölen 12, bölüm 8 ve kalan 11 olduğuna göre bölünen sayı kaçtır?

A) 110

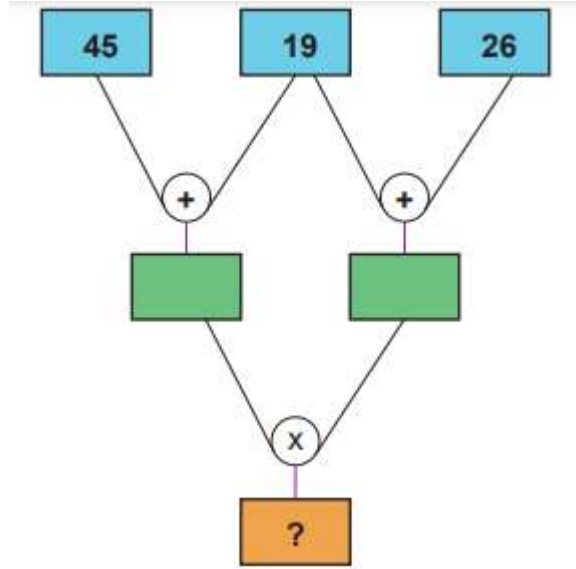
B) 107

C) 103

D) 96




8-



Yukarıdaki işlemler yapıldığında "?" yerine gelmesi gereken doğal sayı aşağıdakilerden hangisidir?

- A) 2430                      B) 3520                      C) 3880                      D) 2880

9-



Yukarıda modellenen kesir hangisidir?

- A)  $3\frac{1}{3}$                       B)  $4\frac{1}{4}$                       C)  $4\frac{1}{3}$                       D)  $4\frac{1}{2}$

10- Şehirler arası yolcu taşıyan bir otobüs saat 22.45'te hareket edip saat 08.30'da gideceği yere varmayı planlıyor. Fakat otobüs yolda arızalanıyor ve 1 saat 45 dakika mola vermek zorunda kalıyor. Buna göre otobüs gideceği yere vardığında hareket anından itibaren ne kadar süre geçmiştir?

- A) 11 saat 30 dakika                      B) 11 saat                      C) 12 saat                      D) 12 saat 30 dakika



5. SINIF ÖĞRENCİ SEÇME SINAVI

26/03/2022



11- Aşağıdaki tablonun kaçta kaç basit kesirlerden oluşmaktadır?

$\frac{6}{4}$	$\frac{5}{5}$	$\frac{2}{7}$	$2\frac{3}{5}$
$\frac{1}{3}$	$\frac{9}{15}$	$1\frac{6}{9}$	$\frac{8}{12}$
$\frac{6}{9}$	$\frac{4}{4}$	$\frac{2}{6}$	$\frac{3}{2}$
$1\frac{5}{6}$	$\frac{10}{5}$	$\frac{9}{18}$	$2\frac{7}{8}$

A)  $\frac{4}{16}$

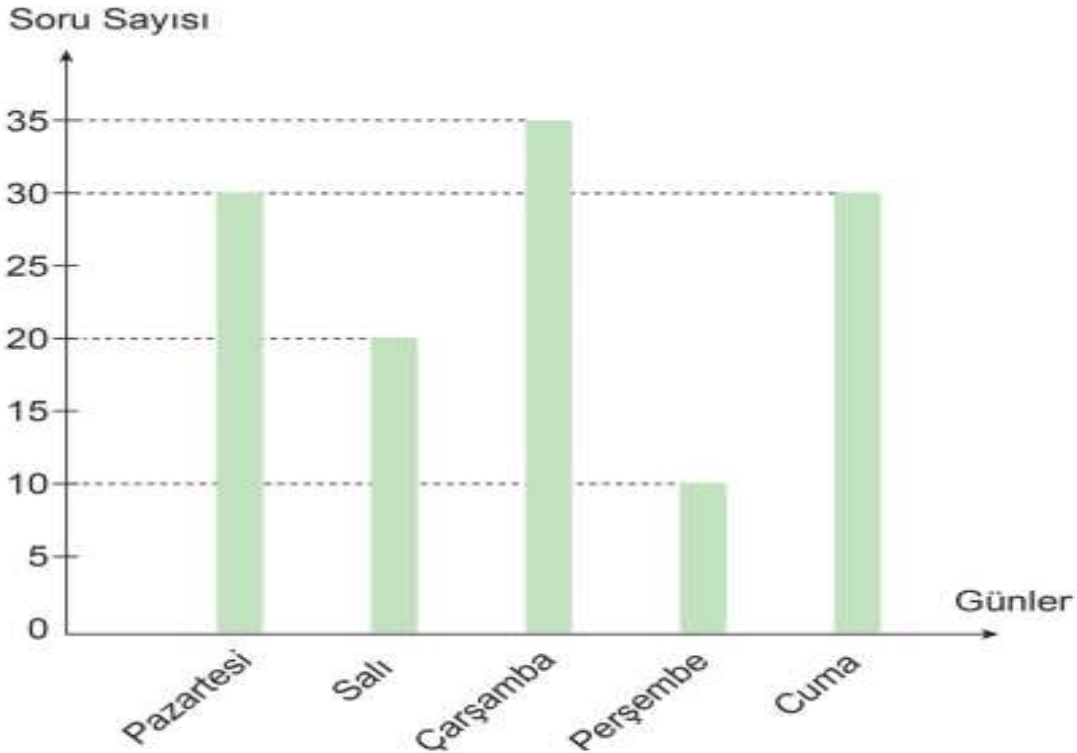
B)  $\frac{5}{16}$

C)  $\frac{7}{16}$

D)  $\frac{8}{16}$

12- Aşağıdaki grafikte Ali'nin günlere göre çözdüğü soru sayıları gösterilmiştir.

Grafik: Çözülen Sorular



Grafığe göre aşağıdakilerden hangisi yanlıştır?

- A) Cuma günü, salı ve perşembe günlerinin toplamından daha fazla soru çözmüştür.
- B) Pazartesi ve cuma günleri çözdüğü soru sayısı eşittir.
- C) Pazartesi günü çözdüğü soru sayısı, salı ve perşembe günü çözdüğü soru sayılarının toplamına eşittir
- D) En fazla soru çözdüğü gün çarşambadır.



## 5. SINIF ÖĞRENCİ SEÇME SINAVI

26/03/2022



13- Bir okuldaki 360 öğrencinin tamamı spor faaliyetlerine katılıyor.

Öğrencilerin  $\frac{4}{18}$  'i voleybol,  $\frac{5}{18}$  'i futbol,  $\frac{3}{18}$  'i basketbol kalan öğrenciler ise okçuluk faaliyetine gidiyor.

**Buna göre okçuluk kursuna katılan öğrenci sayısı kaçtır?**

- A) 80                      B) 100                      C) 120                      D) 240

14- Aşağıdaki kesirler büyükten küçüğe doğru sıralanmıştır.

$$\frac{7}{8} > \frac{4}{8} > \frac{2}{8}$$

**Buna göre yerine yazılabilecek doğal sayıların toplamı kaçtır?**

- A) 27                      B) 18                      C) 17                      D) 9

15- Bir çiftlikte bulunan 160 hayvanın yarısı koyun, çeyreği inek ve kalanların  $\frac{3}{5}$  kümes hayvanı kalanlar keçi olduğu biliniyor.

**Buna göre kaç tane keçi vardır?**

- A) 16                      B) 24                      C) 40                      D) 80

*Matematik soruları bitmiştir. Cevaplarınızı kontrol ederek Sosyal Bilgiler sorularına geçebilirsiniz.*



**-SOSYAL BİLGİLER-**

**DİKKAT! BU BÖLÜMDE CEVAPLAYACAĞINIZ SORU SAYISI 10'DUR.**

Bu bölümdeki sorularla ilgili cevaplarınızı cevap kâğıdınızdaki **"SOSYAL BİLGİLER"** bölümüne işaretlemeyi unutmayınız.

1- Aşağıdaki kartlarda her öğrenci kendisi ile ilgili bilgiler vermiştir.



**Uras**

Doğayı çok seviyorum.  
Yemyeşil çimlere uzanıp  
müzik dinlemek çok keyifli.



**Nisa**

Beden eğitimi dersinde  
koşturduğum için çok susadım  
ve teneffüste su aldım.



**Fatih**

Göbeklitepe Örenyeri'ni  
ziyaret ettikten sonra eve  
gelip gördüklerimin resmini  
çizdim. Bu resim ile katıldığım  
yarışmada başarı elde ettim.

Buna göre öğrencilerin kendileriyle ilgili belirttiği ifadelerin "ilgi", "ihtiyaç" ve "yetenek" yönünden doğru eşleştirmesi aşağıdakilerin hangisidir?

A)

Uras	İlgi
Nisa	Yetenek
Fatih	İhtiyaç

B)

Uras	İlgi
Nisa	İhtiyaç
Fatih	Yetenek

C)

Uras	Yetenek
Nisa	İhtiyaç
Fatih	İlgi

D)

Uras	İhtiyaç
Nisa	İlgi
Fatih	Yetenek



## 5. SINIF ÖĞRENCİ SEÇME SINAVI

26/03/2022



2- Nasrettin Hoca evinin damında çalışırken dengesini kaybederek damdan düşmüş. Komşuları koşarak gelmişler. Biri doktor çağıralım derken diğeri başka bir şey söylemiş. Konuşmalar sürerken Nasrettin Hoca, acıyan belini tutarak "Bırakın tartışmayı. Bana daha önce damdan düşmüş birini bulun." demiş.

**Yukarıdaki metinde Nasrettin Hoca'nın dile getirmeye çalıştığı kavram aşağıdakilerden hangisidir?**

- A) Sevgi                      B) Saygı                      C) Empati                      D) Hoşgörü

- I. Annesinin nüfus cüzdanı  
II. Ağabeyinin yazdığı mektup  
III. Arkadaşından aldığı doğum günü mesajı  
IV. Babasının ilkokul karnesi

**3- Neslihan yukarıdaki kaynaklardan hangilerini kullanırsa aile tarihini öğrenebilir?**

- A) I ve III                      B) II ve III                      C) I, II ve IV                      D) I, III ve IV

4- Mustafa Kemal 19 Mayıs 1919'da Samsun'a çıkarak Millî Mücadele'yi başlatmıştır. 30 Ağustos 1922'de Başkomutanlık Meydan Muharebesi ile Yunanlılar ağır bir yenilgiye uğratılmıştır. Mustafa Kemal'in "Ordular! İlk hedefiniz Akdeniz'dir. İleri!" emri ile ilerleyen Türk Ordusu 9 Eylül 1922 tarihinde İzmir'de Yunan askerlerini denize dökmüştür.

**Bu metne göre Millî Mücadele ile ilgili aşağıdaki bilgilerden hangisi söylenemez?**

- A) 30 Ağustos 1922'de zafer kazanılmıştır.  
B) Yunan askerleri Samsun'a doğru ilerlemiştir.  
C) 9 Eylül 1922 tarihinde İzmir işgalden kurtulmuştur.  
D) Mustafa Kemal, Millî Mücadele'yi Samsun'da başlatmıştır



## 5. SINIF ÖĞRENCİ SEÇME SINAVI

26/03/2022



5-



Yön bulabilmek için güneşten de yararlanırız. Bunun için sabahleyin ayakta durup sağ kolumuz güneşin doğduğu yöne bakacak şekilde kollarımızı açarız. Bu durumda güneşe bakan sağ kolumuz .....I....., sol kolumuz .....II..... yönünü gösterir. Yüzümüzü döndüğümüz taraf .....III..... yönü, arkamız ise güney yönüdür. Metindeki numaralanmış boşluklara aşağıdakilerden hangisi getirilirse verilen bilgiler doğru olur?

- |    | <u>I</u> | <u>II</u> | <u>III</u> |
|----|----------|-----------|------------|
| A) | batı     | kuzey     | doğu       |
| B) | doğu     | batı      | kuzey      |
| C) | kuzey    | batı      | doğu       |
| D) | doğu     | kuzey     | batı       |

**Bina dışında bulunuyorsanız;** binalardan düşebilecek parçalara karşı dikkatli olunuz. Enerji hatlarından, duvar diplerinden uzaklaşınız.

**Asansörde bulunuyorsanız;** deprem sırasında kat çıkış düğmesine basarak asansörü terk ediniz. Ayrıca evinizden çıkarken kesinlikle asansörü kullanmayınız.

**Toplu taşıma araçlarında bulunuyorsanız;** araçlardan gerekmedikçe inmeyiniz. İçerideki askılara tutunup depremin geçmesini bekleyiniz.

**Okulda bulunuyorsanız;** çanta, kitap gibi eşyalarınızı alıp sınıfınızdan koşarak çıkınız.

Yasemin

Rıza

Recep

Banu

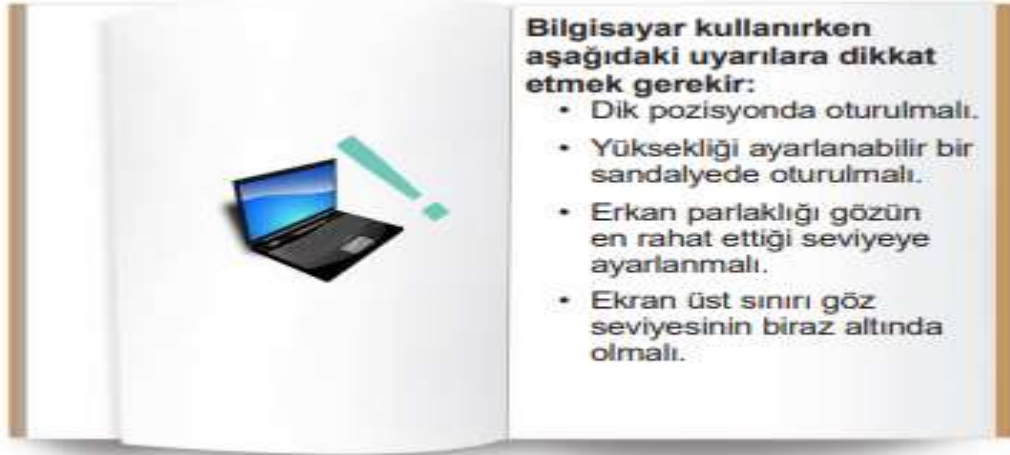
6- Yukarıdaki öğrencilerden hangisi "deprem sırasında yapılacaklar" ile ilgili yanlış bilgi vermiştir?

- A) Yasemin      B) Rıza      C) Recep      D) Banu



## 5. SINIF ÖĞRENCİ SEÇME SINAVI

26/03/2022



7- Bu uyarıları dikkate almadan bilgisayar kullanan biri,

- I. Göz sağlığını bozma
- II. Zamanını boşa harcama
- III. Enerji tasarrufu sağlama
- IV. Duruş bozukluğu yaşama

durumlarından hangilerini yaşayabilir?

- A) I ve IV                      B) II ve III                      C) I, II ve III                      D) II, III ve IV



8- Yukarıda verilen teknolojik aletler hangi alanda kullanılmaktadır?

- A) Ulaşım                      B) Eğitim                      C) Sağlık                      D) Güvenlik

9- Ahmet, mağazadan aldığı ayakkabının iki gün sonra bazı yerlerinde yırtılma olduğunu görmüştür.

Bu durumda Ahmet'in öncelikle ne yapması gerekir?

- A) Mağazayı Tüketici Hakem Heyetine şikâyet etmelidir.
- B) Ayakkabısını, ayakkabı tamircisine götürmelidir.
- C) Ayakkabısını giymeye devam etmelidir.
- D) Ayakkabısını, faturasıyla birlikte mağazaya götürmelidir.





## 5. SINIF ÖĞRENCİ SEÇME SINAVI

26/03/2022



Mustafa Kemal Atatürk'e göre özgürlüğe kavuşabilmenin yolu bağımsızlıktan geçiyordu. Türk Milleti bağımsızlığını kazanmanın yanında yönetme yetkisi anlamına gelen egemenlik hakkına da sahip olmalıydı. Bu nedenle Mustafa Kemal Atatürk, Samsun'a çıktığı andan itibaren bir yandan ülkeyi kurtarmaya, diğer yandan millî egemenliği gerçekleştirmeye çalıştı. O, bu yoldaki en önemli adımını 23 Nisan 1920'de Ankara'da Büyük Millet Meclisini (BMM) açarak attı.

10- Metne göre BMM'nin açılmasıyla hangi kavram önem kazanmıştır?

- A) Devletçilik      B) Ulusal egemenlik      C) Padişahlık      D) Bireysellik

*Sosyal Bilgiler soruları ve sınavınız bitmiştir. Fen Bilimleri sorularına geçebilirsiniz*



**-FEN BİLİMLERİ-**

**DİKKAT! BU BÖLÜMDE CEVAPLAYACAĞINIZ SORU SAYISI 15'TİR.**

**Bu bölümdeki sorularla ilgili cevaplarınızı cevap kâğıdınızdaki "FEN BİLİMLERİ" bölümüne işaretlemeyi unutmayınız.**



**1- Fosilleri inceleyen bilim insanları, fosiller yardımıyla hangi bilgiye ulaşamaz?**

- A) Kaç yaşında olduklarına
- B) Canlıların geçirdiği gelişim dönemlerine
- C) Canlıların yaşadığı dönemin iklim özelliklerine
- D) Aynı dönemde yaşamış tüm canlıların özelliklerine

**2- Dünya'nın hareketleri ile ilgili bazı açıklamalar verilmiştir.**

- I. Dünya Güneş etrafındaki dolanım hareketini ..... tamamlar.
- II. Dünya'nın kendi eksenini etrafında dönmesiyle ..... oluşur.
- III. Dünya kendi eksenini etrafında ..... doğru döner.

**Verilen açıklamalarda noktalı yerlere gelmesi gereken uygun ifadeler aşağıdakilerden hangisidir?**

- |    | <u>I</u>         | <u>II</u>      | <u>III</u>     |
|----|------------------|----------------|----------------|
| A) | 365 gün 6 saatte | gece ve gündüz | batıdan doğuya |
| B) | 24 saatte        | mevsimler      | batıdan doğuya |
| C) | 365 gün 6 saatte | gece ve gündüz | doğudan batıya |
| D) | 24 saatte        | mevsimler      | doğudan batıya |



## 5. SINIF ÖĞRENCİ SEÇME SINAVI

26/03/2022



3- Aşağıdaki cümlelerde yer alan noktalı yerlerin doğru bir şekilde tamamlanması gerekmektedir.

- Vücudumuzun gelişmesini, boyumuzun uzamasını sağlayan besinler .....I..... besinlerdir.
- Su, vitaminler ve mineraller .....II..... besinlerdir.

Buna göre noktalı yerlere aşağıdaki kelimelerden hangileri gelmelidir?


- | I                    | II                |
|----------------------|-------------------|
| A) düzenleyici       | enerji verici     |
| B) yapıcı ve onarıcı | düzenleyici       |
| C) enerji verici     | yapıcı ve onarıcı |
| D) enerji verici     | düzenleyici,      |

4- Sigara kullanımının azaltılması için ciddi önlemler alınıyor.

Aşağıdakilerden hangisi sigara kullanımının azaltılması için alınan önlemlerden birisi değildir?

- A) Yeşilay'ın çeşitli projelerle toplumu bilinçlendirme çalışmaları yapması
- B) Dumansız hava sahası uygulamasının kamuya açık alanlarda kaldırılması
- C) Sigara paketlerinin üzerine sigaranın zararlarını anlatan görsellerin konulması
- D) Televizyonlarda sigaranın zararlarını anlatan kamu spotu filmlerinin yayımlanması

5- Mıknatısların günlük hayatta kullanımı ile ilgili öğrenciler bazı bilgiler vermişlerdir.



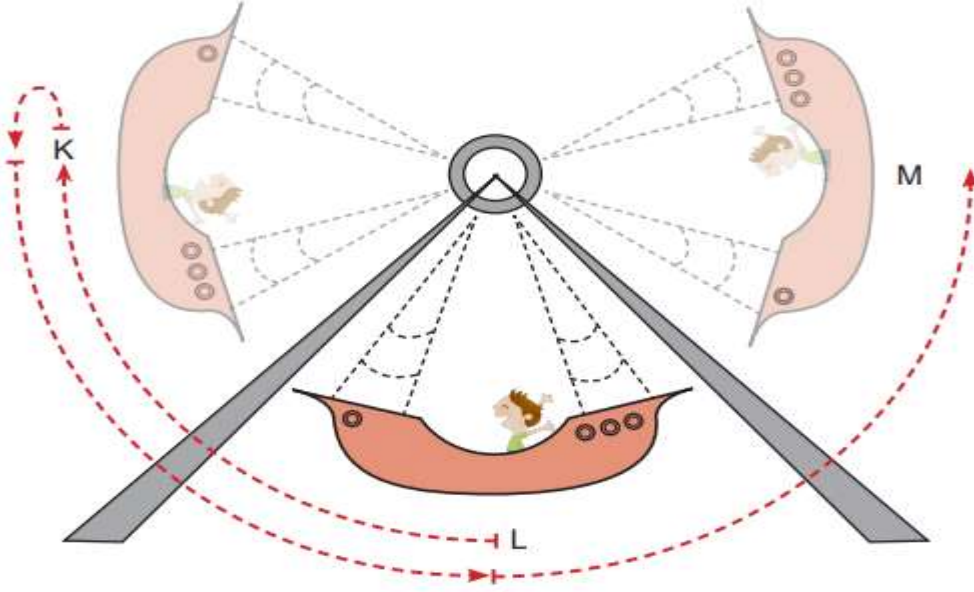
Buna göre hangi öğrencilerin verdiği bilgi doğrudur?

- A) Esmâ ve Pelin
- B) Esmâ ve Arda
- C) Pelin ve Arda
- D) Esmâ, Pelin ve Arda



## 5. SINIF ÖĞRENCİ SEÇME SINAVI

26/03/2022



6- Lunaparktaki bir gondol, L noktasından harekete başlayarak önce K noktasına çıkmakta sonra tekrar L 'den geçerek M noktasına ulaşmaktadır.

**Gondolun yaptığı bu hareket ile ilgili hangisi yanlıştır?**

- A) K noktasından L noktasına gelirken hızlanır.
- B) L noktasından M noktasına giderken yavaşlar.
- C) L ve M noktası arasında dönme hareketi yapar.
- D) K ve M noktası arasında sallanma hareketi yapar.

7-İçinde 40 ml su bulunan kaba bir taş atılınca suyun yüksekliği 80 ml olarak ölçülüyor



**Buna göre taşın hacmi kaç ml suya karşılık gelmektedir?**

- A) 20
- B) 30
- C) 40
- D) 50



## 5. SINIF ÖĞRENCİ SEÇME SINAVI

26/03/2022



8- Aşağıda bazı tanımlamalar verilmiştir.

I. Katı maddelerin şekil almış hâline ..... denir.


II. Bir cismin içerdiği, ölçülebilen büyüklükteki madde miktarına ..... denir.

III. Maddenin boşlukta kapladığı yere ..... denir.

Buna göre verilen boşluklar hangi kavramlarla doğru tamamlanabilir?

	<u>I</u>	<u>II</u>	<u>III</u>
A)	Cisim	Madde	Hacim
B)	Cisim	Kütle	Hacim
C)	Madde	Kütle	Cisim
D)	Kütle	Cisim	Madde

9- Bir öğrenci yüzen ve batan cisimleri gözlemek istiyor. Bu amaçla su dolu bir kaba toprak, talaş, yaprak ve anahtar atıyor.



Öğrenci deney sonucuna göre maddeleri nasıl sınıflandırmalıdır?

	<u>Yüzer</u>	<u>Batar</u>
A)	talaş - yaprak	anahtar - toprak
B)	anahtar - yaprak	talaş - toprak
C)	toprak - anahtar	yaprak - talaş
D)	toprak - talaş	anahtar - yaprak

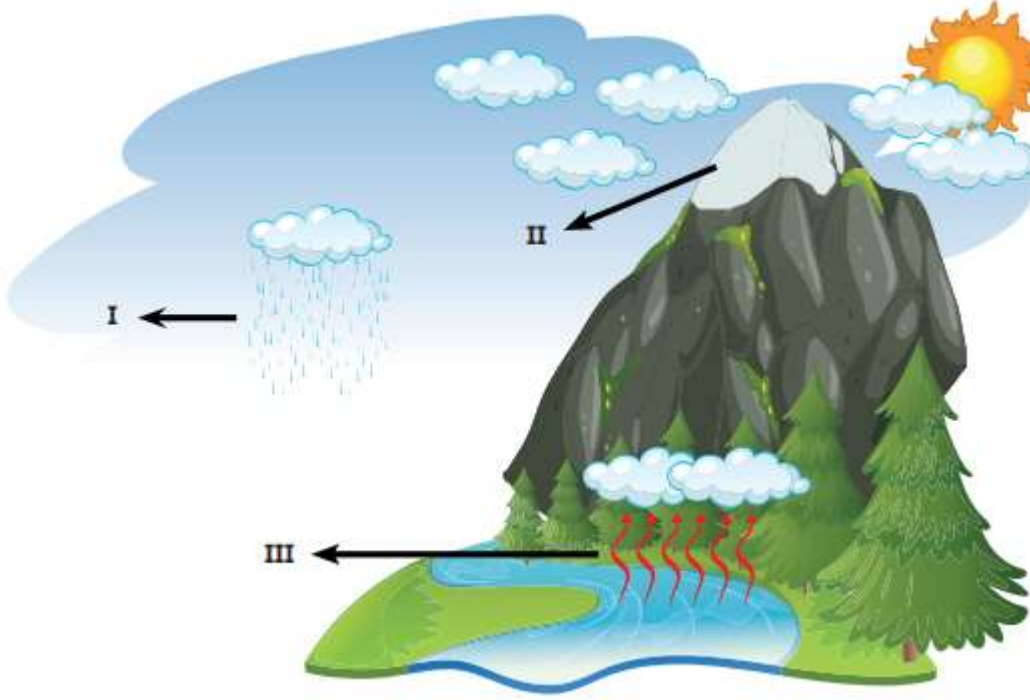


## 5. SINIF ÖĞRENCİ SEÇME SINAVI

26/03/2022



10- Suyun hâl değiştirerek yeryüzü ile atmosfer arasındaki sürekli dolanımına su döngüsü denir. Görselde bir su döngüsü verilmiştir.



Görselde numaralandırılarak verilen alanlarda su hangi hâllerde bulunur?

	<u>I</u>	<u>II</u>	<u>III</u>
A)	Gaz	Katı	Sıvı
B)	Sıvı	Katı	Gaz
C)	Sıvı	Gaz	Katı
D)	Gaz	Sıvı	Katı

11- Fatih, plastik su şişelerini geri dönüşüm kutusuna atmadan önce şişeleri elleriyle ezmiştir. Buna göre, Fatih'in uyguladığı kuvvetin şişelere etkisinin bir benzeri verilenlerden hangisinde gözlemlenebilir?

- A) Pinpon topuna vurulması
- B) Market arabasının itilmesi
- C) Oyun hamurundan kedi yapılması
- D) Araba kullanırken frene basılması



## 5. SINIF ÖĞRENCİ SEÇME SINAVI

26/03/2022



12-Mıknatıslarla ilgili bazı bilgiler aşağıda verilmiştir.

- I. Mıknatısın zıt kutupları birbirini iter.
- II. Mıknatıs parçalandığında çekme ve itme özelliğini kaybeder.
- III. Mıknatısların kuzey (N) ve güney (S) olmak üzere iki kutbu vardır.

Buna göre verilen ifadelerden hangileri doğrudur?

- A) Yalnız III                      B) I ve III                      C) II ve III                      D) I, II ve III

13-Fatih, evinde aldığı bazı tedbirleri aşağıda listelemiştir.

- \* Boşuna akan muslukları kapatırım.
- \* Yağmur sularını biriktirip çiçek sulamak için kullanırım.
- \* Kullanmadığım odanın ışığını söndürürüm.
- \* Elektrikli aletleri kullanmadığımda düğmesinden kapatırım.
- \* Tüketebileceğimden fazla besin maddesi almam.

Fatih'in aldığı bu tedbirler aşağıdakilerden hangisine neden olmaz?

- A) Savurganlığa                      B) Çevreye verilen zararın azaltılmasına  
C) Bütçe tasarrufunun sağlanmasına                      D) Kaynakların verimli kullanılmasına



## 5. SINIF ÖĞRENCİ SEÇME SINAVI

26/03/2022



14- Senem plastik, metal ve kâğıt atıkları geri dönüşüm kutularına atacaktır.



1. gazete



2. konserve kutusu



3. su şişesi



4. şampuan şişesi



5. teneke kutu



6. karton kutu

Senem bu atıkları hangisindeki gibi ayırmalıdır?



- |    |        |        |        |
|----|--------|--------|--------|
| A) | 3 ve 4 | 1 ve 6 | 2 ve 5 |
| B) | 2 ve 5 | 3 ve 4 | 1 ve 6 |
| C) | 3 ve 4 | 2 ve 5 | 1 ve 6 |
| D) | 1 ve 6 | 3 ve 4 | 2 ve 5 |

15- Aşağıdakilerden hangisi saf maddelerin özelliklerinden değildir?

- A) Küçük parçalara ayrılrsa da kendi özelliğini korur.
- B) Tek tür maddeden oluşur.
- C) Her noktasının özelliği aynıdır.
- D) Eleme ve süzme ile farklı maddelere ayrılır.

*Fen Bilimleri soruları bitmiştir. Cevaplarınızı kontrol ederek  
Din Kültürü sorularına geçebilirsiniz.*





## 5. SINIF ÖĞRENCİ SEÇME SINAVI

26/03/2022



### -DİN KÜLTÜRÜ VE AHLAK BİLGİSİ-

DİKKAT! BU BÖLÜMDE CEVAPLAYACAĞINIZ SORU SAYISI 10'DUR.

Bu bölümdeki sorularla ilgili cevaplarınızı cevap kâğıdınızdaki **"DİN KÜLTÜRÜ VE AHLAK BİLGİSİ"** bölümüne işaretlemeyi unutmayınız.

- I. Ve celle senâük.
- II. Sübhâneke Allâhümme
- III. Ve bi hamdik.
- IV. Ve teâlâ ceddük.
- V. Ve lâ ilâhe ğayruk.
- VI. Ve tebâra kesmük.

**1- Karışık halde verilmiş olan Sübhaneke duasının doğru sıralaması aşağıdakilerden hangisidir?**

- A) I - III - II - V - VI -
- B) II - III - VI - IV - I - V
- C) III - II - I - VI - V - IV
- D) II - IV - V - VI - I - III

“Allah en büyüktür.” anlamına gelir ve Allah’ın(cc) yüceliğini ifade etmek için söylenir. Ezan okunurken altı kez tekrar edilir. Namaza başlarken, rükûya eğilirken, secdeye giderken ve kalkarken tekrarlanır.

**2-Yukarıda verilen bilgiler, hangi dini kavram ile ilgilidir?**

- A) Salavat
- B) Tekbir
- C) Estağfirullah
- D) Sübhanallah

**3-“Kıyamet günü insanların bana en yakını, en çok salavat getirendir”** Salavat, Peygamber Efendimize (sav) dua etmektir. Ayşe babaannesinden duyduğu bu Hadis-i Şerif’e göre, hangi duaları okursa hadise **uygun davranmış olur?**

- A) Salli – Barik
- B) Sübhaneke
- C) Amentü
- D) Fatiha

Günlük konuşmalarımızda geleceğe ait bir şey konuşurken söyleriz. Bir yolculuğa çıkarken veya iki arkadaş birbirinden ayrılırken söyleriz. Bize yardım eden bir kişiye teşekkür etmek için söyleriz.

**4- Ahsen, Din Kültürü ve Ahlak Bilgisi dersinde öğrendiği yukarıdaki cümlelere göre, aşağıdaki hangi dini ifadeyi söylememiştir?**

- A) Allah’a emanet ol
- B) İnşallah
- C) Çok şükür
- D) Allah razı olsun



## 5. SINIF ÖĞRENCİ SEÇME SINAVI

26/03/2022



5- “Allah’ın (c.c.) emriyle çeşitli görevleri yerine getiren, nurdan yaratılmış ve gözle görülmeyen varlıkların var olduğuna iman etmektir.”

**Bu cümlede ifade edilen iman esası aşağıdakilerden hangisidir?**

A) Allah’a iman B) Peygamberlere iman C) Kader ve kazaya iman D) Meleklerle iman

**6- Aşağıdakilerden hangisi kelime-i şehadetin anlamıdır?**

- A) (Rabbimiz!) Ancak sana kulluk eder ve yalnız senden yardım dileriz, bizi dosdoğru yola ilet.
- B) De ki: O, Allah birdir. Allah Samed’dir. O, doğurmamış ve doğmamıştır. Onun hiçbir dengi yoktur.
- C) Rabbine hamd ederek şanının yüceliğini dile getir ve O’ndan af dile; şüphesiz O, tövbeleri çok kabul edendir.
- D) Ben şahitlik ederim ki Allah’tan başka ilâh yoktur. Yine şahitlik ederim ki Hz. Muhammed Allah’ın kulu ve resulüdür.

7- İbrahim öğretmen, öğrencileri ile İslam’ın şartları konusunu işlerken, Peygamber Efendimiz ’in (sav) “İslam beş temel üzerine kurulmuştur.” Hadis-i Şerifini okudu. Öğrencilerine konu ile ilgili birer cümle kurmalarını istedi. Aşağıda öğrencilerin kurduğu cümlelerden hangisi, **İslam’ın şartlarından biri ile ilgili değildir?**

- A) Hatice; “Allah Teâla’nın (cc) Tevrat, İncil, Zebur, Kur’an-ı Kerim adlı kutsal kitapları vardır.” dedi.
- B) Erva; “Müslüman olmak isteyen bir kişinin yapması gereken ilk iş, kelime-i şehadet getirmektir.” dedi.
- C) İrem; “Akıllı, ergenlik çağına gelmiş, sağlıklı her Müslümanın oruç tutması farzdır.” dedi.
- D) Zeynep; “Hacca giden erkeklerin ihram elbisesi ile avlanması, saç sakal kesmesi haramdır.” dedi.



## 5. SINIF ÖĞRENCİ SEÇME SINAVI

26/03/2022



- Kur'an-ı Kerim'in besmelelerle birbirinden ayrılmış bölümüdür.
- 114 tane bulunmaktadır.
- En uzununu Bakara, en kısası Kevser olarak isimlendirilmiştir.
- Mekke döneminde indirilenlere Mekki, Medine döneminde indirilenlere Medeni denilmektedir.

8- Yukarıda bazı özellikleri verilen Kur'an-ı Kerim kavramı hangisidir?

A) Cüz      B) Ayet      C) Meal      D) Sûre

- Adı, “açmak, açıklığa kavuşmak” gibi anlamlara gelir.
- Namazların her rekâtında okunması gerekir.
- Dua ifadeleri içerir.

9- Yukarıda sıralanan bilgiler aşağıdakilerden hangisine aittir?

A) Sübhaneke duası B) Âmentü duası C) Fatıha suresi D) Kelime-i şهادet

Bir Müslüman öncelikle güzel ahlak sahibi olmalıdır. Bunun için de İslam dininin emir, tavsiye ve yasaklarına dikkat etmeli; güzel huy ve davranışlara sahip olmalıdır.

10-Aşağıdakilerden hangisi bu kapsamdaki güzel huy ve davranışlardan biri değildir?

A) Doğruluk      B) Cömertlik      C) Çalışkanlık      D) Savurganlık

*Din Kültürü soruları bitmiştir. Cevaplarınızı kontrol ederek İngilizce sorularına geçebilirsiniz.*



## 5. SINIF ÖĞRENCİ SEÇME SINAVI


26/03/2022



### -İNGİLİZCE-

**DİKKAT! BU BÖLÜMDE CEVAPLAYACAĞINIZ SORU SAYISI 10'DUR.**  
Bu bölümdeki sorularla ilgili cevaplarınızı cevap kâğıdınızdaki **"İNGİLİZCE"** bölümüne işaretlemeyi unutmayınız.

1- Merve'nin istedikleri hangi seçenekte verilmiştir?



Give me a ..... and a .....

- A) Pencil-ruler B) pencil case-pencil sharpener C) pencil case-eraser D) book-eraser

2- Resme göre sorunu doğru yanıtını bulunuz.

A: What nationality is she?

B: .....

- A) She is a teacher. B) She is from Japan.  
C) he lives in Tokyo. D) She is Japanese.



3- Resme göre boşluğa gelmesi gereken kelimeyi bulunuz.

A: This is Mert. This is ..... guitar.

- A) her B) play C) his D) he



4-Resimdeki hareketi yapan çocuk ne söylemiş olabilir.

- A) I like skipping rope. B) I like reading.  
C) I like watching TV. D) I like riding a bike.





## 5. SINIF ÖĞRENCİ SEÇME SINAVI

26/03/2022



5- Where is the rabbit?

- A) It is in front of the tree.  
C) It is on the tree.

- B) It is behind the tree.  
D) It is between the trees.



6- Diyaloğu sıralayınız.

- I. Yes, he can.  
II. Can he play tennis?  
III. Whose racket is this?  
IV. It is Simon's racket.

- A) II - III - I - IV  
B) II - I - IV - III  
C) I - IV - II - III  
D) III - IV - II - I

7- What does he do?

- A) waiter    B) vet    C) Pilot    D) doctor



8- A: Where does he work?

B: He works at a .....

- A) Restaurant    B) Farm    C) Hospital    D) Bakery





5. SINIF ÖĞRENCİ SEÇME SINAVI

26/03/2022



9- A: What does he like?

- A) He likes reading comics. B) He likes planting trees.  
C) He likes playing chess. D) He likes flying a kite.



10- Tim ile ilgili verilen cümlelerden kaç tanesi doğrudur?

I read a book.

I wake up.

I go to school.

I have a shower.

A)3

B) 1

C) 4

D) 2



*İngilizce soruları ve sınavınız bitmiştir. Cevaplarınızı kontrol etmeyi unutmayınız*