



PROF. DR. ÖMER DİNÇER KIZ ANADOLU İMAM HATİP LİSESİ / İMAM
HATİP ORTAOKULU 5. SINIFA ÖĞRENCİ SEÇME SINAVI 05/07/2020

PROF. DR. ÖMER DİNÇER KIZ ANADOLU İMAM HATİP LİSESİ & İMAM HATİP ORTAOKULU FEN VE SOSYAL BİLİMLER PROJE OKULU

5. SINIF ÖĞRENCİ SEÇME SINAVI

ÖĞRENCİ SINAV BİLGİLERİ

TC KİMLİK NO:
ADI SOYADI :
SALON NO:
SIRA NO:
İMZA:



Sınav Yeri : Prof. Dr. Ömer Dincer Kız Anadolu İmam Hatip Lisesi

SINAV TARİHİ: 05.07.2020 Pazar Günü SAAT : 14:00

Akabe Mahallesi Kaşide Sokak No : 2/1 Karatay / KONYA

Okul Tel: 0332 3556888 E- posta. omerdincerkaehl@gmail.com

<http://omerdincerandkihl.meb.k12.tr/>





PROF. DR. ÖMER DİNÇER KIZ ANADOLU İMAM HATİP LİSESİ / İMAM
HATİP ORTAOKULU 5. SINIFA ÖĞRENCİ SEÇME SINAVI 05/07/2020

SINAV KURALLARI VE AÇIKLAMALAR

1. Yazılı sınavda adaylara 5. sınıf için 4. sınıf konularından **Türkçe 16, Matematik 15, Fen bilgisi 15, Sosyal Bilgiler 14, İngilizce 10, Din Kültürü ve Ahlak Bilgisi 10** soru olmak üzere toplam **80 soru** vardır.
2. **Sınav süresi 120 dakikadır.**
3. Öğrenciler sınav salonlarına hazırlıklarını zamanında yapabilmeleri için 13:30'da alınabilir.
4. Sınavların başlama saatinden 20 dakika sonra gelen öğrenci sınava alınmamasına, Ancak, sınavın başlama saatinden sonra gelen öğrenciler için ayrıca ek süre verilmeyecek ve o öğrencilerin sınavları da zamanında başlayan öğrencilerle beraber bitirmeleri zorunludur.
5. **Öğrenciler sınavdan ilk 40 dakika ve son 15 dakika dışarı çıkamazlar.**
6. **Katılımcıların sınava Nüfus Kimlik Belgesi ve Sınav Giriş Belgesi ile girmesi zorunludur.**
7. Sınavlarda çıkacak sorular; MEB müfredatına göre 1. Dönem sonuna kadar işlenmesi gereken konulardan çoktan seçmeli **test şeklinde olup yanlış cevap sayısı doğru cevap sayısını etkilemeyecektir.**
8. Sınav güvenliği konusunda Millî Eğitim Bakanlığı Merkezî Sistem Sınav Yönergesi güvenlik kuralları geçerli olup, güvenliği ihlal eden aday öğrencilerin sınava devam etmelerine izin verilmez ve durumu bu kapsamda olan aday öğrencilerin sınav evrakı değerlendirme işlemine alınmayacaktır.
9. Sınavda çıkmış herhangi bir soruya itirazı olan velinin, sınavdan sonraki 2 gün içerisinde dilekçeyle okul idaresine başvurması gerekmektedir.
10. Sınavdan sonra sınav evrakı öğrenciye teslim edilmemelidir.
11. Yazılı sınavın değerlendirilmesi Sınav Yürütme Kurulu tarafından gerçekleştirilecektir.
12. Değerlendirmelere yapılan itirazlar, sonuçlar açıklandıktan sonra iki gün içerisinde Sınav Yürütme Kuruluna yazılı olarak bizzat yapılmasına, sınav Yürütme Kurulu yapılacak itirazlara nihai kararı verecek olan merci olduğuna, Sınavın biçimi ve değerlendirilmesi tamamen kurulun yetkisi ve takdiri dâhilindedir.
13. Sınav Yürütme Kurulu tarafından sınav sorularında bilimsel, pedagojik ve teknik bir hata tespit edildiği takdirde o soru sınav değerlendirmesinin dışında tutulur ve adayların puan ve hak kaybına uğramamaları saklanılacaktır.
14. Sınav sonuçlarına itiraz, sonuçların ilanına müteakip 5 gün içerisinde veli tarafından Sınav Yürütme Kurulu'na yazılı olarak yapılır.
15. Sınav şartlarına uymadığı tespit edilen öğrenciler ile kopya çekmek yoluyla akademik dürüstlükten uzaklaşan öğrenciler hakkında ve burada yer almayan hususlar ile ilgili son kararı verme yetkisi "Sınav Yürütme Kurulu'na ait olup alınacak kararlara itiraz yolu kapalıdır.

PROF. DR. ÖMER DİNÇER KIZ ANADOLU İMAM HATİP LİSESİ FEN VE SOSYAL
BİLİMLER PROJE OKULU BÜNYESİNDE BULUNAN İMAM HATİP ORTAOKULU
Sınav Yürütme Kurulu





PROF. DR. ÖMER DİNÇER KIZ ANADOLU İMAM HATİP LİSESİ / İMAM
HATİP ORTAOKULU 5. SINIFA ÖĞRENCİ SEÇME SINAVI 05/07/2020

-TÜRKÇE-

DİKKAT! BU BÖLÜMDE CEVAPLAYACAĞINIZ SORU SAYISI 16 DİR.

Bu bölümdeki sorularla ilgili cevaplarınızı cevap Kâğıdınızdaki "Türkçe" bölümüne işaretlemeyi unutmayınız.

1) Aşağıdaki cümlelerin hangisinde zıt (karşıt) anlamlı sözcükler bir arada kullanılmamıştır?

- A) Servisi kaçıncı yürüyerek okula gitmiş.
- B) Uzun lafın kisası tatil çok güzel geçti.
- C) Sınavda on doğru iki yanlış yapmış.
- D) Yıllardır kar eden market bu yıl zarar etti

- | | |
|-----------|----------|
| 1) kibar | 2) kira |
| 3) kimlik | 4) kiler |

2) Yukarıdaki kelimeleri sözcük sırasına göre sıraladığımızda hangisi baştan üçüncü sırada olur?

- A)Kiler B) Kimlik C) Kira D) Kibar

3) Aşağıdaki sözcük çiftlerinin hangisinde farklı bir anlam ilişkisi vardır?

- A) gezi - seyahat B) deneyim - tecrübe
C) övmek - yermek D) öykü- hikâye

Milyonlarca yıl önce, yeryüzünde en fazla bulunan hayvanlar sürüngenlerdi. Bunlar soğukkanlı hayvanlardı. Gövdeleri pullarla örtülüydü. Sürünerek hareket ediyorlardı. Bu devirde yeryüzünde henüz insan yoktu. İlk sürüngenlerden bazılarında kanat ve tüyler gelişti. Uçmayı öğrendiler. İşte bunlar ilk kuşlardı.



4) Yukarıdaki paragrafta aşağıdaki sorulardan hangisinin yanıtı vardır?

- A) Kuşlar nasıl oluştu?
- B) Kuşlar nasıl uçar?
- C) Sürüngenler ne ile beslenir?
- D) Sürüngenler nasıl oluştu?

PRF. DR. Ö.D.KAİHL





PROF. DR. ÖMER DİNÇER KIZ ANADOLU İMAM HATİP LİSESİ / İMAM
HATİP ORTAOKULU 5. SINIFA ÖĞRENCİ SEÇME SINAVI 05/07/2020

İnsanlar, dağlar gibi yerlerinden kıvıldamayan cansızlar değildir. Arkadaşlar, tanışlar birbirlerinden ne kadar uzakta olursa olsun ve buluşmaları ne kadar güç olursa olsun, günün birinde bir araya gelebilirler.

5) Paragraftaki açıklamaya uygun atasözü aşağıdakilerden hangisidir?

- A) Dağ ne kadar yüce olsa yol üstünden aşar.
- B) Dağ dağ üstünde olur, ev ev üstünde olmaz.
- C) Dağ dağa kavuşmaz, insan insana kavuşur.
- D) Danışan dağı aşmış, danışmayanın yolu şaşmış.

"Filmi seyredebilirsin yarın erken kalkmalısın."

6) Yukardaki cümlede boş bırakılan yere aşağıdakilerden hangisi getirilemez?

- A) ancak
- B) ama
- C) fakat
- D) üstelik

7) Aşağıdakilerin hangisinde yazım yanlışı vardır?

- A) Biz Cumhuriyet Mahallesi'nde oturuyoruz.
- B) 22 Ekim Cuma günü benim doğum günüm.
- C) Hasan bey toplantıya geç kaldı.
- D) Aşşe, Zeytin 'i gezmeye çıkardı.

1. İçeri girer girmez sözlüklere bakmak istediğini söyledi.
2. Ücretini ödedikten sonra sözlüğün sayfalarını çevire çevire dükkândan çıktı.
3. Sonra gözlerini kalın ciltlerin üzerinde gezdirdi.
4. Dükkâna bir müşteri geldi.
5. "Bunu alıyorum." diyerek seçtiği sözlüğü bana doğru getirdi.

8) Numaralandırılmış olaylar oluş sırasına göre nasıl sıralanmalıdır?

- A) 1 - 3 - 4 - 5 - 2
- B) 4 - 3 - 1 - 2 - 5
- C) 2 - 1 - 3 - 4 - 5
- D) 4 - 1 - 3 - 5 - 2

PRF. DR. Ö.D.KAİHL





PROF. DR. ÖMER DİNÇER KIZ ANADOLU İMAM HATİP LİSESİ / İMAM
HATİP ORTAOKULU 5. SINIFA ÖĞRENCİ SEÇME SINAVI 05/07/2020

9) Aşağıdaki cümlelerin hangisinde "da,
de"nin yazımı yanlıştır?

- A) Bugün okulda yaşananlar onu çok üzmüştü.
- B) Pikniğe Ahmet de mi gelecek?
- C) Evde iki tane kedi besliyordu.
- D) Hesabını iyi yaparsa evde alabilir



23 nisan 1920'de Türkiye
Büyük millet meclisi
açıldı. Mustafa kemal
atatürk ve arkadaşları
alkışlarla kürsüye
yürüdü.

() Benim idealim() berrak bir vicdanla
insanın herkesi sevmesine imkân tanıyan
bir toplumsal sistemdir()() diyorsun()

10) Cem'in sözünde () olan yerlere
sırasıyla aşağıdaki noktalama
işaretlerinden hangileri getirilmelidir?

- A) (-) (.) (.) (.) (.) B) (") (.) (.) (") (.)
- C) (-) (:) (.) (-) (.) D) (") (:) (.) (.) (")

11) Aşağıdakilerden hangisi bir metnin
ana fikri olabilir?

- A) Ali ve Ozan'ın yaşadıkları kaza
- B) Annemle beraber pazara gittik.
- C) Zamanımızı doğru ve verimli
kullanmalıyız.
- D) Keloğlan ve Devin Maceraları

12) Yukarıdaki metinde büyük harfle
yazılması gerekirken yanlış yazılan kaç
kelime vardır?

- A) 2 B) 3 C) 4 D) 5

- 1-Eli sıkı olmak
- 2-Elinden geleni yapmak
- 3-Elini çabuk tutmak
- 4-Eli açık olmak

13) Yukarıda verilen deyimlerden
hangisi birbiri ile zıt anlamlıdır?

- A) 1 ve 2 B) 1 ve 4
- C) 2 ve 3 D) 3 ve 4

PRF. DR. Ö.D.KAİHL





PROF. DR. ÖMER DİNÇER KIZ ANADOLU İMAM HATİP LİSESİ / İMAM
HATİP ORTAOKULU 5. SINIFA ÖĞRENCİ SEÇME SINAVI 05/07/2020

14) "Sinem sarışın, mavi gözlü, uzun boylu ve zayıftır." cümlesi aşağıdaki sorulardan hangisinin yanıtıdır?

- A) Sinem'in dış görünüşü nasıldır?
- B) Sinem sarışın mı yoksa esmer mi?
- C) Sarışın, mavi gözlü, uzun boylu ve zayıf olan kimdir?
- D) Sinem'in fiziksel özellikleri kime benzer?

Cumhuriyetin on ikinci yıl dönümü törenleri için dövizler hazırlanıyordu. "Atatürk bu ulusun en yücesidir.", "Atatürk, bizim en büyüğümüzdür.", "Türk ulusu asırlardır bağrından bir Mustafa Kemal çıkardı." gibi cümlelerden bir liste yapılmıştı. Atatürk, bu cümleleri inceledi. Hepsinin yerine, "Atatürk, bizden biridir." cümlesini yazdı.

15) Yukarıdaki paragrafta Atatürk'ün hangi özelliği vurgulanıyor?

- A) İleri görüşlülüğü
- B) Barışseverliği
- C) Güvenirliliği
- D) Alçak gönüllülüğü

16) Aşağıdaki cümlelerin hangisinde hikâye unsurlarından biri olan "zaman" unsuruna yer verilmemiştir?

- A) Bayat ekmekleri ıslatıp pencerenin önüne konan kuşlara verdik.
- B) Cuma günü hava güzel olursa sınıfça pikniğe gideceğiz.
- C) Öğleden sonra saat 3'te İstiklal Caddesi'nde buluşacağız.
- D) Teyzemler haziran ayının ilk haftasında İstanbul'a gelecekler.

PROF. DR. Ö.D.KAİHL

*Türkçe Soruları bitmiştir.
Cevaplarınızı kontrol
ederek Matematik
sorularına geçebilirsiniz.*





PROF. DR. ÖMER DİNÇER KIZ ANADOLU İMAM HATİP LİSESİ / İMAM
HATİP ORTAOKULU 5. SINIFA ÖĞRENCİ SEÇME SINAVI 05/07/2020

-MATEMATİK-

DİKKAT! BU BÖLÜMDE CEVAPLAYACAĞINIZ SORU SAYISI 15 TİR.
Bu bölümdeki sorularla ilgili cevaplarınızı cevap Kâğıdınızdaki "Matematik" bölümüne işaretlemeyi unutmayınız.

1) Aşağıdaki doğal sayılar ile okunuşları eşleştirilmiştir. Hangi eşleştirme yanlıştır?

- A) 12 002: on iki bin iki
B) 40 444: kırk bin kırk dört
C) 69 369: altmış dokuz bin üç yüz altmış dokuz
D) 800 080: sekiz yüz bin seksen

4) 512 374 doğal sayısında binler basamağındaki rakamın basamak değeri ile sayı değerinin farkı kaçtır?

- A) 297 B) 999 C) 1998 D) 63

2) 9942'den başlayarak geriye doğru biner sayma yapınca dokuzuncu saymada hangi sayı söylenir?

- A) 42 B) 942 C) 2942 D) 1942

3) Aşağıdakilerden hangisi beş basamaklı, birler basamağında 7 ve on binler basamağında 5 olan doğal sayıdır?

- A) 70 825 B) 51 327
C) 5257 D) 57

5) 45 087 doğal sayısının binler bölüğündeki rakamların toplamı kaçtır?

- A) 9 B) 12 C) 15 D) 17

6) $89\ 754 > A$ eşitsizliğinde A yerine yazılacak en büyük çift sayı aşağıdakilerden hangisidir?

- A) 89 753 B) 89 750
C) 89 751 D) 89 752

PRF. DR. Ö.D.KAİHL





PROF. DR. ÖMER DİNÇER KIZ ANADOLU İMAM HATİP LİSESİ / İMAM
HATİP ORTAOKULU 5. SINIFA ÖĞRENCİ SEÇME SINAVI 05/07/2020

7) 12 869, 12 871, 12 342,
12 846 sayılarının büyükten küçüğe
doğru sıralanışı hangi seçenekte
verilmiştir?

- A) 12 871 > 12 869 > 12 342 > 12 846
B) 12 871 > 12 846 > 12 869 > 12 342
C) 12 871 > 12 869 > 12 846 > 12 342
D) 12 869 > 12 871 > 12 846 > 12 342



8) Yukarıdaki sayı örüntüsünde
verilmeyen B ile A'nın farkı kaçtır?

- A) 14 B) 16 C) 12 D) 10

9) Üç terimli bir toplama işleminde 1.
toplanan 3354, 2. toplanan 1241 ve
toplam 8765 ise verilmeyen toplanan
kaçtır?

- A) 5411 B) 4170
C) 3170 D) 2124

10) Aşağıdaki kesirlerden en büyüğü
hangisidir?

- A) $\frac{3}{6}$ B) $\frac{1}{6}$ C) $\frac{6}{6}$ D) $\frac{4}{6}$

11) Aşağıdaki kesirlerden hangisi
bileşik kesirdir?

- A) $\frac{5}{6}$ B) $\frac{1}{9}$ C) $\frac{5}{5}$ D) $\frac{2}{7}$

12) Bir çıkarma işleminde eksilen,
çıkan, farkın toplamı 704'tür. Eksilen
kaçtır?

- A) 350 B) 352 C) 355 D) 356





PROF. DR. ÖMER DİNÇER KIZ ANADOLU İMAM HATİP LİSESİ / İMAM
HATİP ORTAOKULU 5. SINIFA ÖĞRENCİ SEÇME SINAVI 05/07/2020

13) Yarısının 40 fazlası 120 olan sayının, herhangi bir katı aşağılardan hangisi olabilir?

- A) 280 B) 560 C) 1120 D) 700

$$N - 48 = 60$$

$$N - K = 70$$

$$K - R = R$$

15) İşlemlerine göre R ile belirtilen sayı kaçtır?

- A) 15 B) 19 C) 25 D) 32

Aşağıda 4 öğrencinin 186×43 işleminin sonucunu tahmin ederken yaptığı işlemler verilmiştir.

Ece 180×40

Doruk 190×40

Hakan 190×50

Sibel 180×50

14) Buna göre bu dört öğrenciden 186×43 işleminin sonucunu en yakın tahminini yapan hangisidir?

- A) Doruk B) Ece
C) Hakan D) Sibel

PROF.DR.Ö.D.KAİHL

*Matematik soruları bitmiştir.
Cevaplarınızı kontrol ederek Fen
Bilimleri sorularına geçebilirsiniz.*





PROF. DR. ÖMER DİNÇER KIZ ANADOLU İMAM HATİP LİSESİ / İMAM
HATİP ORTAOKULU 5. SINIFA ÖĞRENCİ SEÇME SINAVI 05/07/2020

-FEN BİLİMLERİ-

DİKKAT! BU BÖLÜMDE CEVAPLAYACAĞINIZ SORU SAYISI 15 TİR.

Bu bölümdeki sorularla ilgili cevaplarınızı cevap Kâğıdınızdaki "Fen Bilimleri" bölümüne işaretlemeyi unutmayınız.

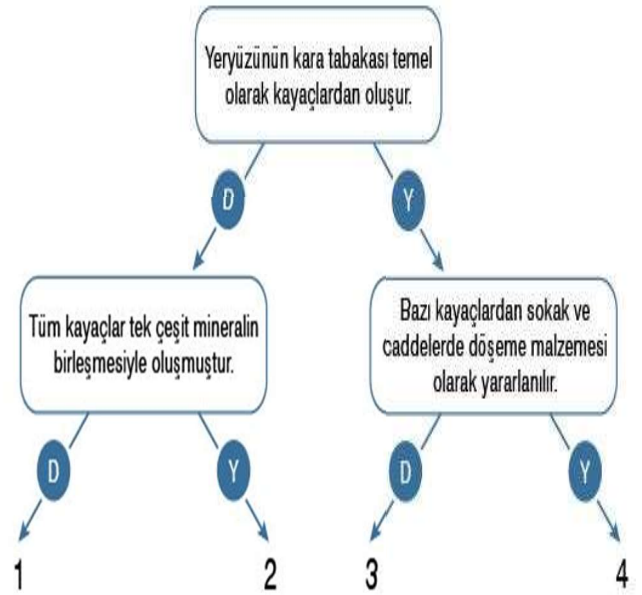
1) Kayaçlarla ilgili aşağıdaki bilgilerden hangisi yanlıştır?

- A) Her biri değerli bir maden olma özelliği taşır.
- B) Sert, yumuşak, gözenekli yapıda olabilirler.
- C) Kırılgan ve hareketli bir yapıya sahiptirler.
- D) Yer kabuğunu oluşturan büyük taş kütleleridir.



2) Yukarıdaki modeli inceleyerek yer kabuğu ile ilgili aşağıdaki bilgilerden hangisine ulaşamayız?

- A) Okyanusların altında inceldiği
- B) Tek parçadan oluşmadığı
- C) Su ve tabakasıyla temas ettiği
- D) Manto tabakasının üzerinde yer aldığı



3) Şemada verilen doğru bilgilerde D okunu, yanlışlarda Y okunu takip eden biri hangi numaraya ulaşır?

- A) 1
- B) 2
- C) 3
- D) 4



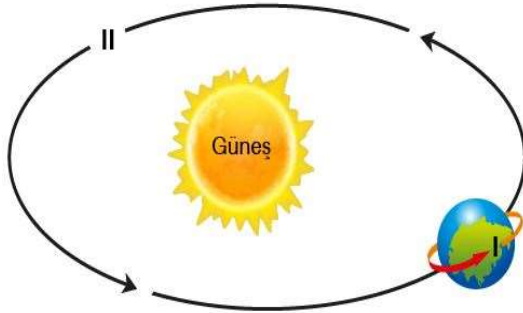


PROF. DR. ÖMER DİNÇER KIZ ANADOLU İMAM HATİP LİSESİ / İMAM
HATİP ORTAOKULU 5. SINIFA ÖĞRENCİ SEÇME SINAVI 05/07/2020

* Sıvı hâldeki bir maddenin dışarıya ısı vererek katı hâle geçmesine ...I... denir.
* Katı bir maddenin ısı alarak sıvı hâle geçmesine ...II... denir.

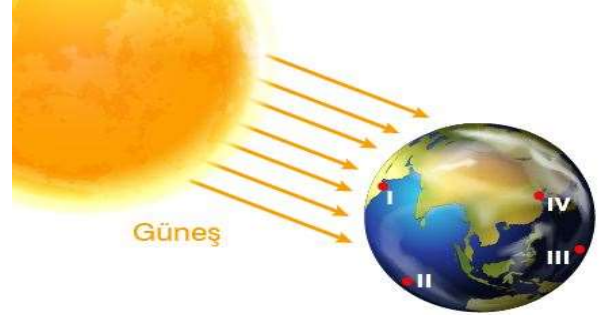
4) Yukarıdaki cümlelerde boş bırakılan I ve II numaralı yerlere yazılması gereken kavramlar hangi seçenekte doğru verilmiştir?

- | I | II |
|------------|-------------|
| A) erime | donma |
| B) donma | buharlaşıma |
| C) bozunma | donma |
| D) donma | erime |



5) Modelde numaralandırılmış hareketlerle ilgili yapılan eşleştirmelerden hangisi yanlıştır?

- | I | II |
|---|--------------------------------------|
| A) Günlük sıcaklık farklarına neden olur. | Mevsimlik sıcaklık değişimleri olur. |
| B) Gün için gölgelerin yönleri değişir. | Yıl içinde gölge boyları değişir. |
| C) 24 saatte bir yinelenir. | Yıllık başlangıç noktasına ulaşır. |
| D) Dolanma hareketidir. | Dönme hareketidir. |



6) Modele göre Dünya üzerinde numaralandırılmış bölgelerle ilgili aşağıdaki bilgilerden hangisi yanlıştır?

- A) I. bölge Dünya'nın Güneş'e dönük tarafında yer alır.
B) II. bölgede gündüz yaşanır."
C) IV. bölgede gündüz yaşanır.
D) III. bölge Dünya'nın Güneş'e dönük olmayan tarafında yer alır.

7) Dünya'nın, Güneş etrafında dolanırken izlediği yörüngede başladığı noktaya gelmesine kadar geçen süre aşağıdakilerden hangisidir?

- A) 1 mevsim
B) 365 gün 6 saat
C) 24 saat
D) 7 gün





PROF. DR. ÖMER DİNÇER KIZ ANADOLU İMAM HATİP LİSESİ / İMAM
HATİP ORTAOKULU 5. SINIFA ÖĞRENCİ SEÇME SINAVI 05/07/2020

I. Akışkandır.

II. Sıkıştırılabilirler.

III. Buldukları kabı tamamen
doldururlar.

8) Yukarıdaki özelliklerden kaç tanesi
gaz maddelere aittir?

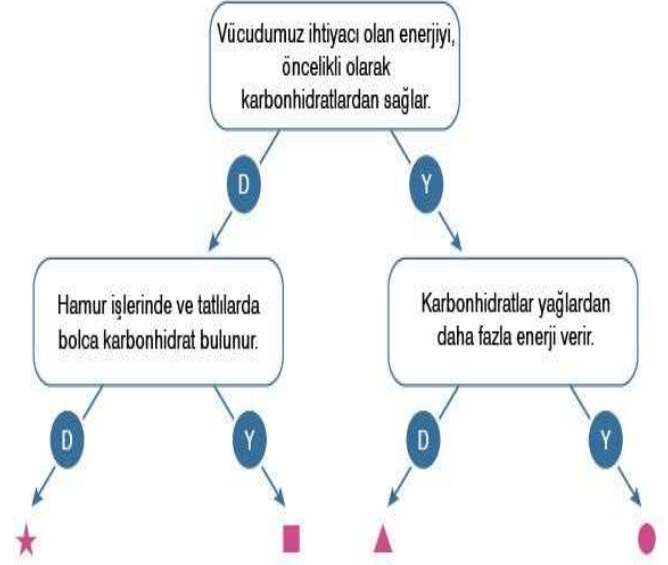
- A) I , II ve III B) I ve III
C) II ve III D) I, II

9) Aşağıdakilerden hangisi fosillerin
bize kazandırdığı faydalardan değildir?

- A) Nesli tükenmiş canlıları anlamamızı
sağlar.
B) Geçmişteki yeryüzü şekilleri hakkında
bilgi verir.
C) Dünya'nın oluşumu hakkında bilgi
edinmemizi sağlar.
D) Canlıların zaman içinde nasıl
değiştiğini anlamamızı sağlar.

10) Aşağıdaki hareketlilerden hangisi
sallanma hareketi yapar?

- A) Çalışan duvar saatinin sarkacı
B) Evin çatısından düşen kiremit
C) Viraja gelen otomobil
D) Çalışan vantilatörün pervaneleri



11) Şemada verilen doğru bilgilerde D
okunu, yanlışlarda Y okunu takip eden
biri hangi sembole ulaşır?

- A) ★ B) ■ C) ▲ D) ●

PROF.DR.Ö.D.KAİHL





PROF. DR. ÖMER DİNÇER KIZ ANADOLU İMAM HATİP LİSESİ / İMAM
HATİP ORTAOKULU 5. SINIFA ÖĞRENCİ SEÇME SINAVI 05/07/2020

*duy *ampul *kablo *pil *anahtar

12) Aşağıdaki öğrencilerden hangisi
suyun vücudumuz için gerekliliğini
yanlış
açıklamıştır?

A)



Vücudumuzun ısını düzenler.

B)



Atık maddelerin dışarı
atılmasında rol oynar.

C)



Vücut için gerekli maddelerin
taşınmasını sağlar.

D)



Organlarımızın çalışması
için gerekli enerjiyi verir.



13) Şemada sonuç bölümüne
aşağıdakilerden hangisi yazılamaz?

- A) Büyüme ve gelişmemiz yavaşlar ya da durur.
B) Vücudun çalışmasında aksamalar olur.

- C) Çalışma verimimiz azalır, başarısız oluruz.
D) Bağışıklık sistemi güçlenir, sık hasta olmayız.

14) Aşağıdakilerden hangisi sigara ve alkol kullanımının toplumsal boyuttaki zararlarından biri olarak sayılamaz?

- A) Ülke ekonomisine zarar verir.
B) Kişilerin sağlığını bozar.
C) Kullanmayan insanları olumsuz etkiler.
D) Çocukların kötü alışkanlıklara özenmelerine neden olur.

15) Mıknatısların kullanım alanları ile ilgili olarak verilenlerden hangisi yanlıştır?

- A) Çöplerin içindeki bazı metal maddelerin ayrılmasında
B) Buzdolabı kapaklarının yapımında
C) Talaş ve bakır tozlarının birbirinden ayrılmasında
D) Fabrika bacalarından çıkan dumanın içindeki küçük metal parçalarının tutulmasında

PROF.DR.Ö.D.KAİHL

*Fen Bilimleri soruları bitmiştir.
Cevaplarınızı kontrol ederek Sosyal
Bilgiler sorularına geçebilirsiniz.*





-SOSYAL BİLGİLER-

DİKKAT! BU BÖLÜMDE CEVAPLAYACAĞINIZ SORU SAYISI 14 TİR.

Bu bölümdeki sorularla ilgili cevaplarınızı cevap Kâğıdınızdaki "Sosyal Bilgiler" bölümüne işaretlemeyi unutmayınız.

1) T.C. kimlik kartı ile aşağıdaki bilgilerden hangisine ulaşamayız?

- A) Doğduğu yılı
- B) Anne ve baba adı
- C) Vatandaşı olduğu ülkeyi
- D) İlgi ve yeteneklerinin ne olduğu

1.30 cm boyunda, kütlesi 28 kg olan, siyah saçlı, gözlüklü bir çocuk olan Ayşe eşyalarını özenli kullanır, odası hiçbir zaman dağınık değildir. Televizyonda üzücü bir olay görse hemen ağlamaya başlar.



3) Yukarıda Ayşe'nin hangi özelliğinden bahsedilmemiştir?

- A) Fiziksel özelliğinden
- B) Duygusal özelliğinden
- C) Çalışkanlığından
- D) Tertipli ve düzenli olmasından

2) Yukarıda Müge'nin yaşadığı olaylar kronolojik sıraya konmuştur. Buna göre boş bırakılan yerde hangi olay yer alabilir?

- A) Müge ilkokul 1. sınıfa başladı.
- B) Müge'nin 1. yaş günü
- C) Müge 16 yaşına girdi.
- D) Müge'nin ablası Ceren doğdu.

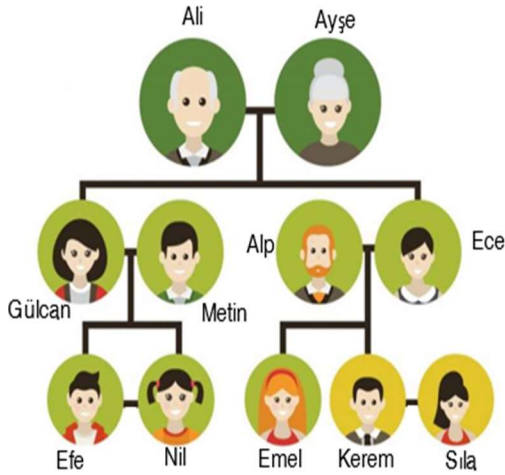




Bir gün babama duvarda bir çerçeve içinde asılı duran kırmızı kurdeleli nesnenin ne olduğunu sordum. Babam çerçeveyi duvardan indirip onu paraya benzeyen nesneyi çıkardı ve incelememe izin verdi. Bir yüzünde Türkiye haritası ve ay yıldız, diğer yüzünde doğan güneş ve kağı vardı. Babam, bu nesneyi babasına Kurtuluş Savaşı'ndaki kahramanlıklarından dolayı verildiğini anlattı. Babamın gururlanmasından ve anlattıklarından bu nesnenin çok kıymetli olduğunu ve onu korumam gerektiğini anladım.

4) Yukarıdaki anlatımda sözü edilen nesne aşağıdakilerden hangisidir?

- A) Askeri okul diploması
- B) İstiklal Madalyası
- C) Eski bir altın para
- D) Türk Bayrağı



5) Aşağıda verilen ikililerden hangileri kardeşlerdir?

- A) Ece - Gülcan
- B) Metin - Alp
- C) Emel - Nil
- D) Kerem - Sıla

6) Aslıların evindeki;

- I. Ninesinden kalan kahve değirmeni
- II. Duvarda asılı İstiklal Madalyası
- III. Anne ve babasıyla çektiikleri fotoğraf

öğelerden hangisi ya da hangileri millî kültürü yansıtır?

- A) Yalnız I
- B) I ve II
- C) I ve III
- D) II ve III

PROF.DR.Ö.D.KAİHL

Şehir yaşantısında komşuluk ilişkileri zayıflamıştır. Bu nedenle komşu çocukları pek görüşmemekte ve birlikte zaman geçirememektedir. Çocuklar bir araya gelemedikleri için arkadaşlık ilişkileri gelişmemektedir. Bunun önemli sonuçları, çocuk oyunlarının sayısının azalması hatta bazılarının unutulmasıdır.

7) Paragraftaki boşluğa aşağıdakilerden hangisi gelirse anlatım doğru olur?

- A) grupça oynanan
- B) bireysel oynanan
- C) bilgisayarda oynanan
- D) telefonda oynanan





PROF. DR. ÖMER DİNÇER KIZ ANADOLU İMAM HATİP LİSESİ / İMAM
HATİP ORTAOKULU 5. SINIFA ÖĞRENCİ SEÇME SINAVI 05/07/2020

- I. TBMM'nin açılışı
- II. Yurdumuzun işgal edilmesi
- III. Mustafa Kemal'in Samsun'a çıkması
- IV. Cumhuriyetin ilanı
- V. Amasya Genelgesi'nin yayımlanması

8) Yukarıdaki olayların kronolojik sıralaması aşağıdakilerden hangisidir?

- A) I, III, II, IV, V B) II, I, III, IV, V
C) II, III, V, I, IV D) IV, II, V, I, III

- I. Samsun'a gitmesi
- II. Harp Okuluna başlaması
- III. Cumhurbaşkanı seçilmesi
- IV. Başkomutanlığa getirilmesi

9) Atatürk'ün yaşamındaki yukarıdaki olaylar kronolojik sıraya koyarsak aşağıdakilerden hangisi doğru olur?

- A) IV, II, III, I B) I, II, IV, III
C) III, IV, I, II D) II, I, IV, III

Dört çocuk yön bulma yöntemlerini kullanarak belirtilen yerlerin bulunduğu yönü anlatmıştır.

10) Hangisinin tespiti doğrudur?

A)



Ağacın yosunlu yüzünü dikkate alırsak ev ağacın kuzeyindedir.

B)



Yuvanın girişine göre karıncayıyan yuvanın doğusundadır.

C)



En kısa gölge sincabın önündeysen, cevizler sincabın doğusundadır.

D)



Kutup yıldızının yerine göre tabela batı yönünü göstermektedir.

PROF.DR.Ö.D.KAİHL





PROF. DR. ÖMER DİNÇER KIZ ANADOLU İMAM HATİP LİSESİ / İMAM
HATİP ORTAOKULU 5. SINIFA ÖĞRENCİ SEÇME SINAVI 05/07/2020



(P: Otopark
O: Okul
M: Market
Ç: Çocuk Parkı)
H: Hastane
Ec: Eczane
E: Ev

11) Yukarıdaki krokiye göre aşağıdakilerden hangisi doğrudur?

- A) Okul eczanenin doğusundadır.
- B) Otopark okulun güneyindedir.
- C) Hastane eczanenin kuzeyindedir.
- D) Market çocuk parkının batısındadır.

12) Aşağıdaki doğal - beşerî unsur eşleştirmelerinden hangisi doğrudur?

<u>Doğal Unsur</u>	<u>Beşerî</u>
<u>Unsur</u>	
A) Yarımada	Liman
B) Plato	Doruk
C) Tünel	Yarımada
D) Liman	Plato

Güneşli Parçalı bulutlu
 Bulutlu Yağmurlu

Ankara	İstanbul	İzmir

13) Yukarıdaki tabloda üç ilimizin dört günlük hava durumları verilmiştir. Bu tabloya göre aşağıdakilerden hangisi söylenemez?

- A) Güneşli gün sayısı en fazla olan ilimiz Ankara'dır.
- B) Dört gün boyunca İstanbul'da bir gün güneşli hava görülmüştür.
- C) Yağışlı gün sayısı en fazla olan ilimiz İzmir'dir.
- D) Parçalı bulutlu günler sayısı İstanbul ve İzmir'de eşittir.

14) Aşağıdakilerden hangisi depremin zararlarını azaltan önlemlerden biri olamaz?

- A) Deprem çantasının önceden hazırlanması
- B) Binaların sağlam malzemelerle yapılması
- C) Yerleşim yerlerinin vadilere kurulması
- D) Deprem konusunda halkın eğitilmesi

*Sosyal Bilgiler soruları bitmiştir.
Cevaplarınızı kontrol ederek Din Kültürü
ve Ahlak Bilgisi sorularına geçebilirsiniz*





PROF. DR. ÖMER DİNÇER KIZ ANADOLU İMAM HATİP LİSESİ / İMAM
HATİP ORTAOKULU 5. SINIFA ÖĞRENCİ SEÇME SINAVI 05/07/2020

-DİN KÜLTÜRÜ VE AHLAK BİLGİSİ-

DİKKAT! BU BÖLÜMDE CEVAPLAYACAĞINIZ SORU SAYISI 10 DUR.

Bu bölümdeki sorularla ilgili cevaplarınızı cevap Kâğıdınızdaki "Din Kültürü ve Ahlak Bilgisi" bölümüne işaretlemeyi unutmayınız.



1) Aşağıdakilerden hangisi Şükür ifadelerinden biri değildir?

- A) Maşallah B) Elhamdülillah
C) Allah'a şükür D) Hamdolsun

- Paylaşmak
- Yalan konuşmak
- Sevgi göstermek
- Öfkelenmek
- Hoşgörülü olmak

2) Yukarıda verilen davranışlardan kaç tanesi güzel ahlaka uygundur?

- A)2 B) 3 C) 4 D) 5



3) Aşağıdakilerden hangisinde bismelenin yani "Bismillahirrahmanirrahim" in anlamı doğru verilmiştir?

- A) Allah'tan başka ilah yoktur.
B) Hz. Muhammed O'nun elçisidir.
C) Şeytanın şerrinden Allah'a sığınırım.
D) Rahman ve Rahim olan Allah'ın adıyla başlarım.

- 1- Muhammeden abduhu
- 2- İlâhe illâllâh
- 3- Eşhedü en lâ
- 4- Ve resûlühü
- 5- Ve eşhedü enne

4- Yukarıdaki kelimelerin Kelime-i Şehadet oluşturması için doğru sıralanışı hangisidir?

- A) 1, 2, 3, 4, 5 B) 3, 1, 2, 4, 5
C) 5, 2, 3, 1, 4 D) 3, 2, 5, 1, 4





PROF. DR. ÖMER DİNÇER KIZ ANADOLU İMAM HATİP LİSESİ / İMAM
HATİP ORTAOKULU 5. SINIFA ÖĞRENCİ SEÇME SINAVI 05/07/2020



Ali, akşam dersine çalıştıktan sonra hemen uyudu. Çünkü sabah sınavı vardı. Okula giderken annesi sınavda başarılı olması için bazı cümleler söyledi.

5) Bunu gören annesi oğluna aşağıdaki cümlelerden hangisini söylerse yanlış olur?

- A) Allah zihin açıklığı versin.
- B) Allah yardımcın olsun.
- C) Allah Şifa versin.
- D) Başarılar dilerim.

Dinimize göre güzel söz söylemek sevaptır. Güzel söz, insanın kalbini yumuşatır, insanlar ile olan iletişimi güçlendirir ve toplumdaki kardeşlik bağlarının güçlenmesini sağlar. İnsanlar arasında barış, huzur ve güven ortamı oluşturur. Atalarımız bu konuda demiştir


6) Yukarıdaki cümlede boş bırakılan yere hangi atasözü gelmelidir?

- A) Damlaya damlaya göl olur.
- B) Tatlı dil yılını deliğinden çıkarır.
- C) Sakla samanı gelir zamanı.
- D) Ayağını yorganına göre uzat.

Bir kimseyle karşılaştığımızda veya birinin yanına girdiğimizde sözle veya işaretle karşıımızdaki kişiye güzel duygu, düşünce ve dileklerimizi ifade ederiz.

7) Yukarıda bahsedilen ve dinimizce yapılması tavsiye edilen bu güzel davranış aşağıdakilerden hangisidir?

- A) Şükür-Hamd
- B) Sevap-Günah
- C) Selamlaşmak
- D) Estagfirullah



"Yılın belli günlerinde Suudi Arabistan ülkesinin, Mekke şehrinde bulunan Kâbe'yi ve etrafındaki kutsal yerleri ibadet amacıyla ziyaret etmektir. Akıllı, sorumluluk çağına gelmiş, sağlıklı ve maddi durumu iyi olan Müslümanların ömründe bir kez bu ibadeti yerine getirmesi Allah (c.c.) tarafından emredilmiştir."

8) Yukarıda İslam'ın şartlarından hangisi hakkında bilgi verilmektedir?

- A) Kelime-i Şehadet getirmek
- B) Oruç tutmak
- C) Zekât vermek
- D) Hacca gitmek



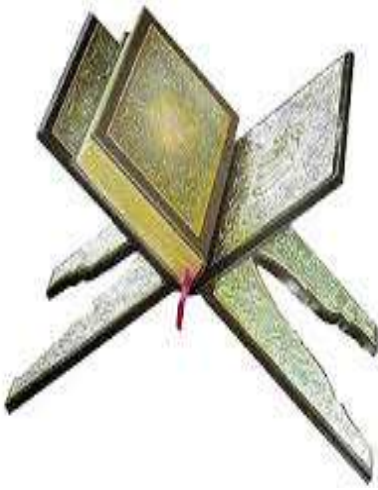


PROF. DR. ÖMER DİNÇER KIZ ANADOLU İMAM HATİP LİSESİ / İMAM
HATİP ORTAOKULU 5. SINIFA ÖĞRENCİ SEÇME SINAVI 05/07/2020

İslam dinini kabul eden kimselerin inancı gereken bazı esaslar vardır. Bu esaslara, İslam'ın **inanç esasları** denir. İslam'ın inanç esasları "**imanın şartları**" olarak da bilinir.

9) Aşağıdakilerden hangisi İmanın şartlarından değildir?

- A) Namaz kılmak
- B) Allah'a inanmak
- C) Kitaplara inanmak
- D) Meleklerle inanmak



PROF.DR.Ö.D.KAİHL

10) Kur'an-ı Kerim ile ilgili aşağıdaki cümlelerden hangisi yanlıştır?

- A) Hz Muhammed (sav)'e indirilmiştir.
- B) En uzun suresi Fatiha suresidir.
- C) Son ilahi kitaptır.
- D) Arapça olarak indirilmiştir.

Din Kültürü ve Ahlak Bilgisi soruları bitmiştir. Cevaplarınızı kontrol ederek İngilizce sorularına geçebilirsiniz





PROF. DR. ÖMER DİNÇER KIZ ANADOLU İMAM HATİP LİSESİ / İMAM
HATİP ORTAOKULU 5. SINIFA ÖĞRENCİ SEÇME SINAVI 05/07/2020

-İNGİLİZCE-

DİKKAT! BU BÖLÜMDE CEVAPLAYACAĞINIZ SORU SAYISI 10 DUR.
Bu bölümdeki sorularla ilgili cevaplarınızı cevap Kâğıdınızdaki "İngilizce" bölümüne işaretlemeyi unutmayınız.



3) Aşağıda verilen ülke-ulus eşleştirmelerinden hangisi yanlıştır?

- A) Turkey-Turkish
B) Germany-German
C) India-Iranian
D) Italy-Italian

1) Resme göre uygun seçeneği işaretleyiniz.

- A) Raise your hands, please!
B) Turn off the lights, please
C) Be quiet, please!
D) Clean the board, please!



2) Resme göre uygun seçeneği işaretleyiniz.

Alex: Where is Sinop?

Burcu:

- A) It is in the west.
B) It is in the east.
C) It is in the south.
D) It is in the north.

4) Aşağıdaki konuşmanın doğru sıralanışı hangi seçenekte verilmiştir?

- I- Can you play it?
II- Yes it is.
III- Is this your piano?
IV- Yes I can.

- A) I - II - IV - III
B) IV - III - II - I
C) III - II - I - IV
D) II - I - III - IV






PROF. DR. ÖMER DİNÇER KIZ ANADOLU İMAM HATİP LİSESİ / İMAM
HATİP ORTAOKULU 5. SINIFA ÖĞRENCİ SEÇME SINAVI 05/07/2020

5) Verilen cevap için uygun soruyu bulunuz.

Jason:

Mike: No, she isn't. She is Japanese.

- A) Is she Chinese?
- B) Do you like swimming?
- C) Can she run fast?
- D) Are you from France?



7) Resme göre uygun seçeneği işaretleyiniz.

Tuba: Do you like

Ahmet:

6) Konuşmayı sorulan soruya göre tamamlayınız.

Nicole: May I come in?

Sandra:

- A) Yes, you are.
- B) Yes, you do.
- C) Yes, he can.
- D) Yes, you may.

- A) Playing table tennis / Yes, I do.
- B) Playing football / No, I don't.
- C) Playing football / Yes I can.
- D) Playing table tennis / Yes, I can.

PROF.DR.Ö.D.KAİHL





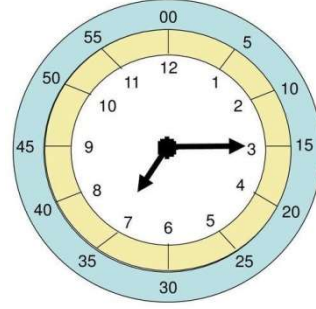
PROF. DR. ÖMER DİNÇER KIZ ANADOLU İMAM HATİP LİSESİ / İMAM
HATİP ORTAOKULU 5. SINIFA ÖĞRENCİ SEÇME SINAVI 05/07/2020



8) Resme göre aşağıdaki cümleyi tamamlayınız.

This is Anna. She can

- A) swim. B) ride a horse.
C) take a picture. D) do puzzles.



10) Resme göre uygun seçeneği işaretleyiniz.

Mike: What time is it?

Tom:

- A) It is three o'clock.
B) It is seven - fifteen.
C) It is three - thirty.
D) It is seven o'clock.

9) Soruya göre uygun cevabı veriniz.

Steve: What do you like doing in your free time?

Elon:

- A) Yes I do.
B) This my uncle Barney.
C) I like singing.
D) I am from France.

Sınavınız bitmiştir.

Cevaplarınızı ve cevap kâğıdınızı kontrol etmeyi unutmayınız.

