



PROF. DR. ÖMER DİNÇER KIZ ANADOLU İMAM HATİP LİSESİ / İMAM
HATİP ORTAOKULU 5. SINIFA ÖĞRENCİ SEÇME SINAVI 19/06/2019

SINAV TARİHİ : 19 HAZİRAN 2019
SINAV SAATİ
BAŞLAMA : 14.00
BİTİŞ : 16.00



Konya Karatay Prof. Dr. Ömer Dinçer Kız Anadolu İmam Hatip Lisesi
İmam Hatip Ortaokulu
Fen ve Sosyal Bilimler Proje Okulu

ÖĞRENCİ SINAV BİLGİLERİ	
T.C.NO	:
ADI SOYADI	:
SINAV YERİ	:
SINAV SALONU	:
SINAV SIRA NO	:
ÖĞRENCİ İMZASI :	:

SINAV KURALLARI VE AÇIKLAMALAR

1. Yazılı sınavda adaylara 5. sınıf için 4. sınıf konularından **Türkçe 16, Matematik 15, Fen bilgisi 15, Sosyal Bilgiler 14, İngilizce 10, Din Kültürü ve Ahlak Bilgisi 10** soru olmak üzere toplam **80 soru** vardır.
2. **Sınav süresi 120 dakikadır.**
3. Öğrenciler sınav salonlarına hazırlıklarını zamanında yapabilmeleri için 13:30'da alınabilir.
4. Sınavların başlama saatinden 20 dakika sonra gelen öğrenci sınava alınmamasına, Ancak, sınavın başlama saatinden sonra gelen öğrenciler için ayrıca ek süre verilmeyecek ve o öğrencilerin sınavları da zamanında başlayan öğrencilerle beraber bitirmeleri zorunludur.
5. **Öğrenciler sınavdan ilk 40 dakika ve son 15 dakika dışarı çıkamazlar.**

6. **Katılımcıların sınava Nüfus Kimlik Belgesi ve Sınav Giriş Belgesi ile girmesi zorunludur.**

7. Sınavlarda çıkacak sorular; MEB müfredatına göre yılsonuna kadar işlenmesi gereken konulardan çoktan seçmeli **test şeklinde olup yanlış cevap sayısı doğru cevap sayısını etkilemeyecektir.**

8. Sınav güvenliği konusunda Millî Eğitim Bakanlığı Merkezî Sistem Sınav Yönergesi güvenlik kuralları geçerli olup, güvenliği ihlal eden aday öğrencilerin sınava devam etmelerine izin verilmez ve durumu bu kapsamda olan aday öğrencilerin sınav evrakı değerlendirme işlemine alınmayacaktır.

9. Sınavda çıkmış herhangi bir soruya itirazı olan velinin, sınavdan sonraki 2 gün içerisinde dilekçeyle okul idaresine başvurması gerekmektedir.

10. Sınavdan sonra sınav evrakı öğrenciye teslim edilmemelidir.

11. Yazılı sınavın değerlendirilmesi Sınav Yürütme Kurulu tarafından gerçekleştirilecektir.

12. Değerlendirmelere yapılan itirazlar, sonuçlar açıklandıktan sonra iki gün içerisinde Sınav Yürütme Kuruluna yazılı olarak bizzat yapılmasına, sınav Yürütme Kurulu yapılacak itirazlara nihai kararı verecek olan merci olduğuna, Sınavın biçimi ve değerlendirilmesi tamamen kurulun yetkisi ve takdiri dâhilindedir.

13. Sınav Yürütme Kurulu tarafından sınav sorularında bilimsel, pedagojik ve teknik bir hata tespit edildiği takdirde o soru sınav değerlendirmesinin dışında tutulur ve adayların puan ve hak kaybına uğramamaları sağlanacaktır.

14. Sınav sonuçlarına itiraz, sonuçların ilanına müteakip 5 gün içerisinde veli tarafından Sınav Yürütme Kurulu'na yazılı olarak yapılır.

15. Sınav şartlarına uymadığı tespit edilen öğrenciler ile kopya çekmek yoluyla akademik dürüstlükten uzaklaşan öğrenciler hakkında ve burada yer almayan hususlar ile ilgili son kararı verme yetkisi "Sınav Yürütme Kurulu'na ait olup alınacak kararlara itiraz yolu kapalıdır.

**PROF. DR. ÖMER DİNÇER KIZ
ANADOLU İMAM HATİP LİSESİ FEN
VE SOSYAL BİLİMLER PROJE OKULU
BÜNYESİNDE BULUNAN İMAM HATİP
ORTAOKULU
Sınav Yürütme Kurulu**





PROF. DR. ÖMER DİNÇER KIZ ANADOLU İMAM HATİP LİSESİ / İMAM
HATİP ORTAOKULU 5. SINIFA ÖĞRENCİ SEÇME SINAVI 19/06/2019

-TÜRKÇE-

DİKKAT! BU BÖLÜMDE CEVAPLAYACAĞINIZ SORU SAYISI 16 DİR.

Bu bölümdeki sorularla ilgili cevaplarınızı cevap Kâğıdınızdaki "Türkçe" bölümüne işaretlemeyi unutmayınız.

Lisenin ilk sınıflarındaydı. Bir çiftliğin çiçek bahçesinde; hem de sevdiği bir işte çalışıyordu: Çiçek yetiştirmek...

Gene fidanlarla uğraşmaya başlamıştı. Bunların tomurcuklanmalarını, büyümelerini ve çiçek vermelerini seyrediyordu. Bazen bunların resimlerini de çiziyordu. Ah, suluboya ile de resim yapabilse! Boya alacak kadar parası yoktu ki. Aletlerin bulunduğu odada yatıyordu. Buna üzülüyordu. Taze toprağın ve büyüme halindeki bitkilerin kokusunu içine sindirerek uykuya dalıyordu.

(1. 2. ve 3. soruları yukarıdaki parçaya göre yanıtlayınız.)

1. Aşağıdakilerden hangisi parçada açıkça belirtilmemiştir?

- a) Resim yapmak
- b) Fidanlarla ilgilenmek
- c) Bahçeyi korumak
- d) Çiçek yetiştirmek

2. Çocuğun gerçekleştiremediği isteği nedir?

- a) Suluboya ile resim yapmak
- b) Fidanların büyümelerini gözleme
- c) Aletler ile toprağı işlemek
- d) Okula devam etmek

- a) Resim yapmak hayat gücümüzü zenginleştirir.
- b) Severek yapılan iş, kişiye mutluluk verir.
- c) Çiçek yetiştirmek hayatımızı renklendirir.
- d) Doğayı korumak herkesin görevidir.



4. "Annem, her sabah çantasını özenle yerleştirirdi."

Bu cümlede sırasıyla aşağıdaki sorulardan hangilerinin karşılığı vardır?

- a) Kim? Nasıl? Niçin? Neyi?
- b) Ne? Ne zaman? Neyi? Nasıl?
- c) Kim? Nasıl? Ne? Ne zaman?
- d) Kim? Ne zaman? Neyi? Nasıl?





PROF. DR. ÖMER DİNÇER KIZ ANADOLU İMAM HATİP LİSESİ / İMAM
HATİP ORTAOKULU 5. SINIFA ÖĞRENCİ SEÇME SINAVI 19/06/2019



5. " Kedi, uzanamadığı ciğere pis dermiş. "Atasözünü açıklayan aşağıdakilerden hangisidir?

- a) İnsanın iş başarmak için yapamayacağı şey yoktur.
- b) İnsan, elde edemediği şeyi beğenmiyor görünür.
- c) İnsan, mutlaka bir iş edinmek ister.
- d) Her işin bir yapılış şekli vardır.

6 . "Ahmet, sivri külahını, kırmızı cepkenini giyip gösteriş yapmaya başlamıştı." tümcesinde varlıkların özelliklerini belirten kelimeler aşağıdakilerden hangisidir?

- a) sivri - kırmızı b) külah - cepken
- c) giyip - yapmaya d) Ahmet - külah

7. " Yaşlı adam, fakir çocuklara yardım ediyordu." altı çizili kelimelerin yerine aşağıdakilerden hangileri getirilirse anlamı değişmez?

- a) iyi-yoksul b) genç-fakir
- c) genç-evsiz d) ihtiyar-yoksul

"Dere boyu saz olur.
Saz çalar düğün olur."

8. Yukarıdaki dizelerde altı çizili sözcükler arasındaki anlam ilişkisi aşağıdakilerden hangisidir?

- a) Eş Anımlı b) Zıt Anımlı
- c) Eş Sesli d) Terim Anımlı

9. Aşağıdaki cümlelerin hangisinde karşılaştırma yapılmamıştır?

- A) Tiyatroya gitmeyi istemiyormuş.
- B) Bu bahçe bizim bahçeden daha büyükmüş
- C) Hava bugün güne göre çok sıcak.
- D) Akın Elif'ten daha fazla çalıştı.

I-Elif Öğretmen okul müdürümüzden sonra sözü devraldı ve genel bilgilendirme yaptı.

II- Derslerden önce okul bahçesinde bir tören düzenlenmişti.

III- Okulun ilk günüydü.

IV- Öncelikle okul müdürümüz kürsüye çıkarak konuşmasını yaptı.

10. Numaralanmış cümlelerin olayların oluşuna göre sıralaması aşağıdakilerden hangisidir?

- A) I-IV-III-II B) III-II-IV-I
- C) III-I-IV-II D) IV-II-III-I





PROF. DR. ÖMER DİNÇER KIZ ANADOLU İMAM HATİP LİSESİ / İMAM
HATİP ORTAOKULU 5. SINIFA ÖĞRENCİ SEÇME SINAVI 19/06/2019

11. Aşağıdaki cümlelerin hangisinde
"mi"nin yazımı yanlıştır?

- A. Okula gitmiyor muydunuz?
- B. Topu kalelere sen mi yolladın?
- C. Sorunların bitmiyormuydu?
- D. Ağladı mı yer gök inler.



Tilki, kargaya sormuş ()
- Dünyada senden daha güzel bir yaratık
var mı ()
Karga şöyle karşılık vermiş ()
- Yoktur zannedersem ()

12. Aşağıdaki cümlelerden hangisinde
öznel bir yargı vardır?

- A) Dışarıda yağmur yağıyor
- B) Biz dördüncü sınıfta okuyoruz.
- C) Dünyanın en güzel mesleği
öğretmenliktir.
- D) Işığı geçiren maddelere, saydam
madde denir.

14. Yukarıda verilen konuşmada
parantezle belirtilen yerlere sırasıyla
aşağıdaki noktalama işaretlerinden
hangileri getirilmelidir?

- A) (:)(.)(:)(.)
- B) (:)(?)(:)(.)
- C) (:)(.)(:)(.)
- D) (:)(?)(:)(.)

saatte - gece - geç - dün - çok - yattım

1 2 3 4 5 6

13. Aşağıdaki cümlelerin hangisinde "da,
de"nin yazımıyla ilgili bir yanlışlık
yapılmıştır?


- A) Yazdığı hikâyeler bir dergide
yayımlandı.
- B) İki yıl Galatasaray Lisesi'nde çalıştı.
- C) Şiire merakı ilkokulda başlamıştı.
- D) Çocuklar için şiirlerde yazdı.

15. Yukarıdaki kelimelerle anlamlı ve
kurallı bir cümle oluşturulursa sıralama
nasıl olur?

- A) 4-2-5-3-1-6
- B) 6-5-4-3-2-1
- C) 2-4-6-5-3-1
- D) 2-3-6-5-4-1

16. Aşağıdaki cümlelerin hangisinde
sebe-sonuç ilişkisi yoktur?

- A) Hastalandığı için doktora gitti.
- B) Eğitimini yurt dışında tamamladı.
- C) Hızlı koştuğundan çabuk yoruldu.
- D) Yağmur yağdığı için dışarı çıkmadı.





PROF. DR. ÖMER DİNÇER KIZ ANADOLU İMAM HATİP LİSESİ / İMAM
HATİP ORTAOKULU 5. SINIFA ÖĞRENCİ SEÇME SINAVI 19/06/2019

-MATEMATİK-

DİKKAT! BU BÖLÜMDE CEVAPLAYACAĞINIZ SORU SAYISI 15 TİR.
Bu bölümdeki sorularla ilgili cevaplarınızı cevap Kâğıdınızdaki "Matematik" bölümüne işaretlemeyi unutmayınız.

1. 4896 sayısının binler ve birler basamağı yer değiştirildiğinde oluşan yeni sayı ile ilk sayı arasındaki fark kaçtır?

- A) 1098 B) 2998
C) 1908 D) 1998



2. (7, 0, 6, 3) rakamlarını birer kez kullanılarak yazılabilecek dört basamaklı en büyük ve en küçük sayıların toplamının 2864 fazlası kaçtır?

- A) 13 561 B) 10 697
C) 10 733 D) 10 467

4. Bir erkek giyim mağazasında satılan bazı ürünlerin fiyatları yukarıda verilmiştir. 16 gömlek, 6 takım elbise, 32 kravat satan mağazanın kasasına bu satışlardan kaç lira girer?

- A) 1176 B) 2910
C) 2890 D) 2062

3. Bir çıkarma işleminde çıkan, eksilen ve farkın toplamı 3680'dir. Çıkan 1289 olduğuna göre fark kaçtır?

- A) 2391 B) 1101
C) 551 D) 488

5. Aşağıdaki çarpma işleminde $A + B + C =$ işleminin sonucu kaçtır?

$$\begin{array}{r} 32A \\ \times 17 \\ \hline 22B8 \\ + 324 \\ \hline 5C08 \end{array}$$

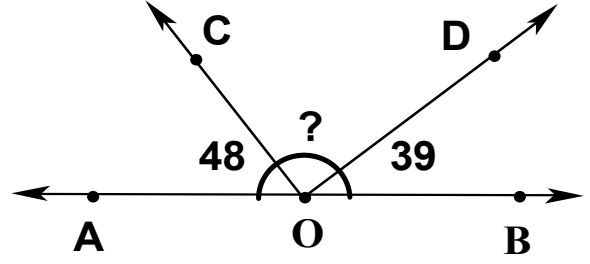
- A) 12 B) 13 C) 14 D) 15



6.

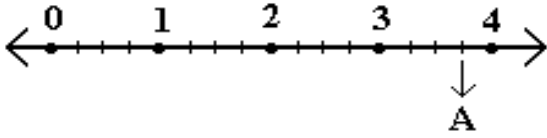
$\frac{C}{7}$ kesri basit kesir olduğuna göre,
C yerine yazılabilecek sayıların toplamı
kaçtır?

- A) 21 B) 23 C) 25 D) 27



9. Yukarıdaki şekilde " ? " ile
gösterilen açı kaç derecedir?

- A) 93 B) 103 C) 87 D) 95



7. Yukarıda verilen sayı doğrusunda "A"
noktasına karşılık gelen kesir hangisidir?

- A) $\frac{1}{4}$ B) $1\frac{1}{3}$
C) $3\frac{3}{4}$ D) $3\frac{2}{4}$

8. Boyu 14 cm olan mum yakılıyor.
Yakılan mumun boyu, her saat 18 mm
kısılıyor.
Buna göre mum yakıldıktan kaç saat sonra
boyu 5 cm olur?

- A) 4 saat B) 5 saat
C) 6 saat D) 7 saat

6 birim



12 birim



10. Yukarıdaki karesel ve
dikdörtgenel bölgenin alanları eşittir.
Buna göre dikdörtgenel bölgenin kısa
kenar uzunluğu kaç birimdir?

- A) 6 birim B) 5 birim
C) 4 birim D) 3 birim





PROF. DR. ÖMER DİNÇER KIZ ANADOLU İMAM HATİP LİSESİ / İMAM
HATİP ORTAOKULU 5. SINIFA ÖĞRENCİ SEÇME SINAVI 19/06/2019

- a. 70 kg 347 g = 70347 g
b. 3 215 mg = 32 g 15 mg
c. 9 078 kg = 9 ton 78 kg
d. 7 027 g = 7 kg 27 g

11. Yukarıdaki eşitliklerden hangisi yanlıştır?

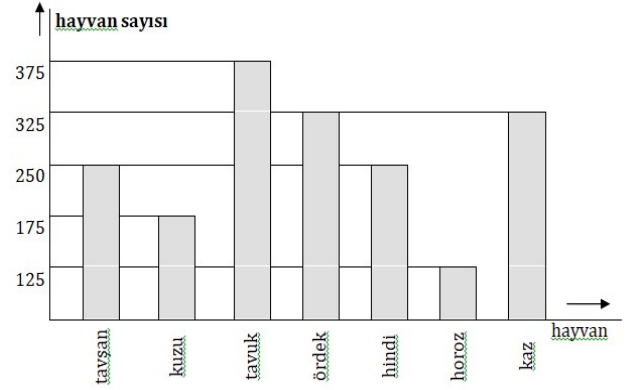
- A) a B) b C) c D) d

A	250.000 mL		5 L
T	25.000 mL		250 L
K	5.000 mL		25 L
I	50.000 mL		50 L

12. Yukarıda sol sütunda harflerle belirtilen birimler, sağ sütundaki karşılıkları ile harfleri kullanılarak eşleştirilecektir.

Buna göre eşleşme sonunda yukarıdan aşağıya hangi sözcük oluşur?

- A) TAKI B) KITA
C) KATI D) TIKA



13. Yukarıda verilen grafikte bir çiftlikte bulunan hayvan sayıları ile ilgili bilgiler verilmektedir. Buna göre; çiftlikteki hayvan sayısının toplam 2000 olması için kaç hayvan daha gereklidir?

- A) 175 B) 275
C) 75 D) 325

1 - 4 - 10 - 22 - 46 - A - B

14. Yukarıdaki sayı örüntüsüne göre, A ve B yerine gelebilecek sayıların toplamı kaçtır?

- A- 280 B- 282
C- 283 D- 284

15. Bir bölme işleminde bölen 82, bölüm 14 ve kalan 29 ise bölünen kaçtır?

- A) 328 B) 1177
C) 1148 D) 1100



PROF. DR. ÖMER DİNÇER KIZ ANADOLU İMAM HATİP LİSESİ / İMAM
HATİP ORTAOKULU 5. SINIFA ÖĞRENCİ SEÇME SINAVI 19/06/2019

-FEN BİLİMLERİ-

DİKKAT! BU BÖLÜMDE CEVAPLAYACAĞINIZ SORU SAYISI 15 TİR.

Bu bölümdeki sorularla ilgili cevaplarınızı cevap Kâğıdınızdaki "Fen Bilimleri" bölümüne işaretlemeyi unutmayınız.

1.



Toprağın oluşumundaki doğru sıralama aşağıdakilerin hangisidir?

- A) kayaç - kaya-taş -kum - toprak
- B) taş - kaya - kayaç - kum - toprak
- C) kaya - kayaç - kum - taş - toprak
- D) kayaç - taş - kum - kaya - toprak

"Sabah kalktığımızda Güneş'i doğuda, öğlen vakti tepede, akşama doğru batıda görürüz"

2. Bunun nedeni aşağıdakilerden hangisidir?

- A) Güneş'in Dünya etrafında dolanması
- B) Dünya'nın kendi etrafında dönmesi
- C) Güneş'in kendi etrafında dönmesi
- D) Dünya'nın Güneş etrafında dolanması

3. Düşüp yaralandığımızda, en çok hangi besin içeriğini içeren besinleri daha fazla tüketmeliyiz?

- A) Karbonhidratlar ve yağlar
- B) Vitaminler
- C) Proteinler
- D) Su

4. Besinlerin içerikleri ve görevleriyle ilgili aşağıda verilen bilgilerin hangisi yanlıştır?

- A.  Proteinler, yapıcı ve onarıcı besin grubudur.
- B.  Vitaminler, vücudumuzda düzenleyici olarak görev yaparlar.
- C.  Yağların görevi düzenleyici olmaktır.
- D.  Karbonhidratlar, enerji verici besin grubudur.





PROF. DR. ÖMER DİNÇER KIZ ANADOLU İMAM HATİP LİSESİ / İMAM
HATİP ORTAOKULU 5. SINIFA ÖĞRENCİ SEÇME SINAVI 19/06/2019

5. Aşağıdaki eşleştirmelerden hangisi yanlıştır?

- A) Durağa yaklaşan minibüs ----□Yavaşlar
- B) Sıkılan oyun hamuru-----□ Şekil değiştirir
- C) Ağaçtan düşen elma-----□ Hızlanır
- D) Kırmızı ışıkta duran taksi -----□ Yön değiştirir

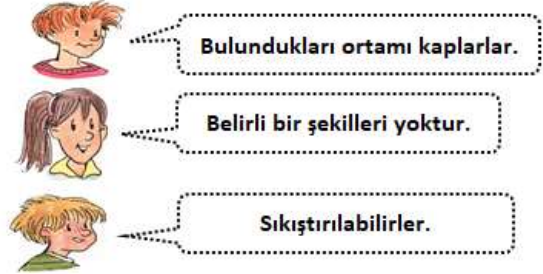
8. Aşağıda verilen bilgilerden hangisi yanlıştır?

- A) Kütle, dereceli silindir ile ölçülür.
- B) Madde miktarına kütle denir.
- C) Kütle birimleri gram ve kilogramdır.
- D) Gazların da kütlesi vardır.



6. Verilen görsele göre hangi seçenek doğrudur?

- A. I nolu mıknatıs II nolu mıknatısı çeker.
- B. II nolu mıknatıs III nolu mıknatısı iter.
- C. I nolu mıknatıs ters çevrilse II nolu mıknatısı iter.
- D. II nolu mıknatıs III nolu mıknatısı çeker.



9. Öğrencilerin yaptığı yorumlar maddenin hangi haliyle ilgilidir.

- A) Sıvı
- B) Katı
- C) Gaz
- D) Kütle

- I. Demir
- II. Nikel
- III. Kobalt
- IV. Alüminyum

7. Verilenlerden hangisi veya hangilerini mıknatıs çekmez?

- A. I ve II
- B. Yalnız IV
- C. II ve III
- D. Yalnız III

- I. Ateş böceği-doğal ışık kaynağı
- II. Fener -yapay ışık kaynağı
- III. Floresan lamba-doğal ışık kaynağı

10. Yukarıdaki ışık kaynaklarından hangilerinin türü yanlış yazılmıştır?

- A) Yalnız I
- B) Yalnız III
- C) I ve II
- D) I, II ve III





PROF. DR. ÖMER DİNÇER KIZ ANADOLU İMAM HATİP LİSESİ / İMAM
HATİP ORTAOKULU 5. SINIFA ÖĞRENCİ SEÇME SINAVI 19/06/2019

11. Salonumuzun bir köşesindeki televizyonun sesini salonun her yerinden duyabiliriz. Buna göre sesle ilgili verilen bilgilerden hangisi doğrudur?

- A. Ses her yönde, dalgalar halinde yayılır.
- B. Ses, tek yönde doğrusal yayılır.
- C. Ses iki yönde yayılır.
- D. Ses yayılmaz.



- I. Alışverişe çıkmadan önce liste hazırlamalıyız.
- II. Çabuk bozulabilecek besinleri gerektiğinden fazla almamalıyız.
- III. Besin maddelerini uygun koşullarda saklamalıyız.
- IV. İndirimdeki gıdaları fırsatı kaçırmamak için ihtiyacımızdan fazla almalıyız.

12. Besin tasarrufuyla ilgili yukarıdaki ifadelerden hangisi veya hangileri doğrudur?

- A) I ve II
- B) II, III ve IV
- C) I, III ve IV
- D) I, II ve III

13. Karışım ve ayırma yöntemleri eşleştirmesinde aşağıdakilerden hangisi doğrudur?

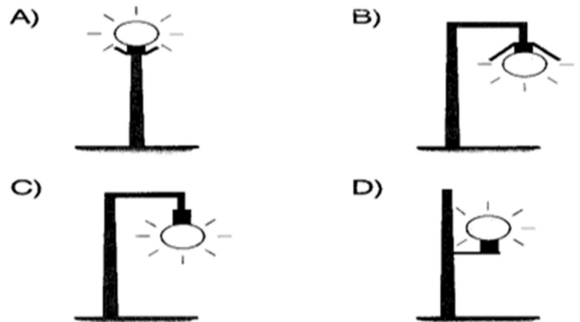
- A) Kum - su süzme yöntemi
- B) Talaş - un mıknatıs yöntemi
- C) Tuz - su eleme yöntemi
- D) Demir tozu - pirinç süzme yöntemi

*duy *ampul *kablo *pil *anahtar

14. Yukarıda verilen devre elemanlarından hangileri olmasa da ampul ışık verir?

- A) Anahtar - Kablo
- B) Duy - Ampul
- C) Duy - Anahtar
- D) Pil - Kablo

15. Aşağıdaki aydınlatma yöntemlerinden hangisinin en doğru olduğunu söyleyebiliriz?





-SOSYAL BİLGİLER-

DİKKAT! BU BÖLÜMDE CEVAPLAYACAĞINIZ SORU SAYISI 14 TİR.

Bu bölümdeki sorularla ilgili cevaplarınızı cevap Kâğıdınızdaki "Sosyal Bilgiler" bölümüne işaretlemeyi unutmayınız.

1. Aşağıdaki ifadelerden hangisi "empati"yi en doğru şekilde tanımlamaktadır?

- A) Karşısındaki kişinin neler hissedebileceğini tahmin edip ona göre davranma
- B) Karşısındaki kişinin dostluğunu kazanmaya çalışma
- C) Karşısındaki kişiye onun kendisine davrandığı gibi davranma
- D) Karşısındaki kişinin hatasını yüzüne vurmama

- I. 23 Nisan'da Büyük Millet Meclisi'ni açtı.
- II. Bandırma Vapuru ile Samsuna gitti.
- III. 29 Ekim'de cumhuriyeti kurdu.
- IV. Başkumandanlık Meydan Savaşı'na katıldı.

2. Yukarıda verilen olayların oluş sırası hangi seçenekte doğru verilmiştir?

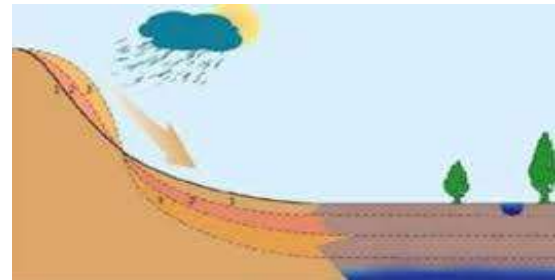
- A) II - IV - III - I
- B) II - I - III - IV
- C) II - I - IV - III
- D) II - III - IV - I

3. Aşağıdaki ifadelerden hangisi yanlıştır?

- A) Mantı, çiğköfte kültürümüze ait yemeklerdir.
- B) Her toplumun kültürü aynıdır.
- C) Halay, horon ve zeybek milli kültürümüzü yansıtır.
- D) Gelenek ve göreneklerimiz zamanla değişir.

4. Aşağıdakilerden hangisinde doğal unsurlar bir arada verilmiştir?

- A) Dağlar - köprüler
- B) Denizler - barajlar
- C) Parklar - ovalar
- D) Mağaralar - göller



"Erozyon ve çölleşme ile mücadele eder"

5. Yukarıdaki bilgi aşağıdaki sivil toplum kuruluşlarından hangisi ile ilgilidir?

- A) AÇEV
- B) AKUT
- C) TEMA
- D) LÖSEV



PROF. DR. ÖMER DİNÇER KIZ ANADOLU İMAM HATİP LİSESİ / İMAM
HATİP ORTAOKULU 5. SINIFA ÖĞRENCİ SEÇME SINAVI 19/06/2019

tomografi, stetoskop, ultrason

6. Yukarıda verilen teknolojik cihazlar aşağıdaki alanların hangisi ile ilgilidir?

- A) Sağlık
B) Güvenlik
C) Eğitim
D) Adalet

7. Aile bütçesine katkıda bulunmak isteyen bir öğrenci aşağıdakilerden hangisini yapmalıdır?

- A) İsteklerine öncelik vermelidir.
B) İhtiyaçlarını almaya öncelik vermelidir.
C) Kalitesine bakmadan ucuz ürünler almalıdır.
D) Hiçbir şey almadan sürekli kumbarasında para biriktirmelidir.



8. Aşağıdakilerden hangisi çocuk haklarından birisi değildir?

- A) Yaşama hakkı
B) Eğitim hakkı
C) Sağlık hizmetlerine erişim hakkı
D) Seçme ve seçilme hakkı

9. Aşağıda Kurtuluş Savaşı'nda savaştığımız cephe ve savaşılan ülkeler eşleştirilmiştir. Bu eşleştirmelerden hangisi yanlıştır?

- A) Doğu cephesi - İngilizler
B) Güney Cephesi - Fransızlar
C) Batı Cephesi - Yunanlılar
D) Doğu Cephesi - Ermeniler

"Savunma çizgisi yoktur, savunma yüzeyi vardır. O yüzey bütün vatandır. Vatanın her karış toprağı, vatandaşın kanıyla ıslanmadıkça terk olunamaz."



10. M. Kemal Atatürk'ün yukarıdaki emri verdiği savaş ile ilgili olarak, aşağıdaki ifadelerden hangileri doğrudur?

- I. Sakarya Savaşı'nda bu emir verilmiştir.
II. Bu emrin verildiği savaş, Milli Mücadelenin son savaşdır.
III. M. Kemal Atatürk, bu savaş sonunda "gazi" ve "mareşal" unvanlarını almıştır.

- A) I ve II
B) I ve III
C) II ve III
D) I, II ve III



PROF. DR. ÖMER DİNÇER KIZ ANADOLU İMAM HATİP LİSESİ / İMAM
HATİP ORTAOKULU 5. SINIFA ÖĞRENCİ SEÇME SINAVI 19/06/2019

11. Aşağıda verilen sporlardan hangisi
bizim ata sporumuz değildir?



12. Bir yerin kuşbakışı görünümünün
ölçeklendirmeden kabataslak
çizilmesine.....denir.

- A) harita
B) plan
C) kroki
D) proje



13. Aşağıdakilerden hangisi nüfus
cüzdanı olmadan yapılamaz?

- A) Kütüphaneye girmek
B) Okula kayıt olmak
C) Tiyatroya gitmek
D) Alışveriş yapmak



" Alınacak tedbirlerle depremin zararları
önlenebilir veya azaltılabilir"

14. Aşağıdakilerden hangisi deprem
öncesinde alınabilecek önlemlerden
biridir?

- A) Binaları fay hatları üzerine
yapmamak.
B) Hasarlı binalardan uzaklaşmak.
C) Elektrik sigortası ile su ve doğal gaz
vanalarını kapatmak.
D) Pencere ve kapılardan uzak durmak.





PROF. DR. ÖMER DİNÇER KIZ ANADOLU İMAM HATİP LİSESİ / İMAM
HATİP ORTAOKULU 5. SINIFA ÖĞRENCİ SEÇME SINAVI 19/06/2019

-DİN KÜLTÜRÜ VE AHLAK BİLGİSİ-

DİKKAT! BU BÖLÜMDE CEVAPLAYACAĞINIZ SORU SAYISI 10 DUR.

Bu bölümdeki sorularla ilgili cevaplarınızı cevap Kâğıdınızdaki "Din Kültürü ve Ahlak Bilgisi" bölümüne işaretlemeyi unutmayınız.



Sözlük anlamı "yüceltmek, büyülemek" demektir. Anlamı "Allah en büyüktür." demektir. Namaza başlarken ve namazın sonunda tesbih çekerken okunan dini ifadedir.

1-Yukarıda bilgisi verilen dini ifade hangisidir?

- A) Sübhanallah B) Elhamdülillah
C) Estağfirullah D) Allah u Ekber

- 1* Her gün kuşlara yem verirdi.
2* Kaza yapan arkadaşını ziyaret etti.
3* Sınavdan 100 alan arkadaşını kıskandı.
4* Karşılaştığı arkadaşına selam verdi.

2- Ayşe'nin yapmış olduğu bu davranışlardan hangileri sevaptır?

- A) 1 ve 2 B) 1, 2 ve 4
C) 1 ve 3 D) 1 ve 4

Hz. Muhammed (sav) "Biriniz yemek yiyeceği zaman 'Bismillah' desin..." buyuruyor.

3 - Peygamber Efendimizin her işimizin başında söylememizi emrettiği bismelenin anlamı nedir?

- A) Ben tanıklık ederim ki Allah birdir.
B) Allah'a çok şükür.
C) Rahman ve rahim olan Allah'ın adıyla (başlarım.)
D) Şeytanın şerrinden Allah'a sığınırım.



4- Kur'an-ı Kerim'in ayetlerden oluşan bölümlerine "sure" denir. Her sure ise farklı uzunluklardadır. Kur'an-ı Kerim'in en uzun ve en kısa sureleri hangi şıkta doğru olarak verilmiştir?

- A) Fatih- Nas B) Bakara- Fatih
C) Kevser- Felak D) Bakara- Kevser



PROF. DR. ÖMER DİNÇER KIZ ANADOLU İMAM HATİP LİSESİ / İMAM
HATİP ORTAOKULU 5. SINIFA ÖĞRENCİ SEÇME SINAVI 19/06/2019

Allah'a, (I), (II), (III), ahiret gününe, kadere, hayır ve şerrin Allah'tan geldiğine inandım. Öldükten sonra diriliş haktır. Allah'tan başka ilâh olmadığına, Hz. Muhammed'in O'nun kulu ve elçisi olduğuna şahitlik ederim.

5-Yukarıdaki Âmentü Duası'nda numaralanmış yerlere aşağıdakilerden hangisi "gelmemelidir"?

- A) Meleklerine B) Kitaplarına
C) Peygamberlerine D) İbadetlerine

7-Ahmet oyuncakları ile oynarken kardeşi ile kavga etti. Ahmet dinimize uygun olarak nasıl bir davranış sergilemelidir?

- A) Kardeşinden özür dileyip, gönlünü almalı. '
B) "Anne ve babam görmediği için sorun yok" demeli.
C) "Nasıl olsa o küçük, benim dediğim olmalı" demeli
D) "Zaten hep onun dediğini yapmalıyım" demeli.



6- Peygamberimize (s.a.v.), bir kişi, "Kendisine güzel davranmamı en çok hak eden kimdir?" diye sordu. Peygamber Efendimiz bu soruya nasıl cevap vermiştir?

- A) 3 defa akrabandır, sonra annendir.
B) 3 defa annendir, sonra akrabalarıdır.
C) 3 defa annendir, sonra babadır.
D) 3 defa babandır, sonra annendir.



8- Hz. Muhammed (sav) içinde bulunduğu toplumun kötülüklerine ortak olmadı. O, gerek çocukluğunda gerekse gençliğinde herkesin güven duyduğu, örnek bir kişilik oldu. Emaneti korur, sahiplerine geri verirdi. Bu nedenle Mekkeliler ona gençliğinde hangi ismi verdiler?

- A) Hasan B) Hüseyin
C) El-Sadık D) El-Emin





PROF. DR. ÖMER DİNÇER KIZ ANADOLU İMAM HATİP LİSESİ / İMAM
HATİP ORTAOKULU 5. SINIFA ÖĞRENCİ SEÇME SINAVI 19/06/2019



9- Hz. Muhammed Mekkeliler tarafından 622 yılında öldürülmek istenmesi üzerine, Mekke şehrinden ayrılarak Medine şehrine göç etti. Bu olaydan sonra Müslümanlar baskı ve işkencelerden kurtulup, inançlarını rahatça ifade edebilme imkânına kavuştular. İslam dini Arap yarımadasında hızla yayılmaya başladı.

Hz. Muhammed'in bu göçüne ne isim verilmektedir?

- A) Yolculuk B) Hicret
C) Suffe D) Fetih

"Müminler! Size iki emanet bırakıyorum. Ona sınıksız sarıldıkça yolunuzu şaşırırmazsınız."

10-Hz. Muhammed'in Veda Hutbesinde belirttiği bu iki emanet nedir?

- A) Veda Hutbesi - Kuran-ı Kerim
B) Kuran-ı Kerim- Peygamberimizin sünneti
C) Kuran-ı Kerim - Mektuplar
D) Veda hutbesi - Vaaz



PROF. DR. ÖMER DİNÇER KIZ ANADOLU İMAM HATİP LİSESİ / İMAM
HATİP ORTAOKULU 5. SINIFA ÖĞRENCİ SEÇME SINAVI 19/06/2019

-İNGİLİZCE-

DİKKAT! BU BÖLÜMDE CEVAPLAYACAĞINIZ SORU SAYISI 10 DUR.
Bu bölümdeki sorularla ilgili cevaplarınızı cevap Kâğıdınızdaki "İngilizce" bölümüne
işaretlemeyi unutmayınız.

1- Aşağıdaki eşleştirmelerden hangisi doğrudur?

- A) speak - a car B) drive - horse
C) play - table tennis D) ride - books

5- Aşağıdaki meslek- işyeri eşleştirmelerinden hangisi yanlıştır?

- A) teacher - school
B) doctor - hospital
C) farmer - farm
D) policeman - fire station

2- Hangisi diğerlerinden farklıdır?

- A) in the morning B) shopping
C) at noon D) in the afternoon



3- I my face in the morning.

- A) brush B) wake
C) meet D) wash

6- What does a nurse like?

- A) She likes animals.
B) She likes dancing
C) She likes helping people.
D) She likes singing.

4- I have dinner

- A) in the evening B) in the morning
C) in the afternoon D) at night



PROF. DR. ÖMER DİNÇER KIZ ANADOLU İMAM HATİP LİSESİ / İMAM
HATİP ORTAOKULU 5. SINIFA ÖĞRENCİ SEÇME SINAVI 19/06/2019

Jack:?

Ewan: He is funny and cheerful.

7- Aşağıdaki sorulardan hangisi
diyaloğu tamamlamak için uygundur?

- A) What does he look like?
- B) What is his name?
- C) How old is he?
- D) What is he like?



8- Aşağıdakilerden hangisi bir bakıma
diğerlerinden farklıdır?

- A) short B) friendly
- C) slim D) tall

10- It's
and in summer.

- A) cool / windy
- B) cold / snowy
- C) hot / sunny
- D) warm / windy

9- It's snowy today.
your boots.

- A) wear B) play C) go D) like

